

ПРИМЕРЕН ТЕСТ ЗА IV КЛАС ПО ЧОВЕКЪТ И ПРИРОДАТА

учебна 2012/2013 година

Прочети внимателно всеки въпрос и отговори, като оградиш с кръгче само правилния отговор.

1. Добри проводници на топлина са:

- A) памучната блуза и тухлата
- B) вълненото палто и дървото
- B) металната лъжица и тенджерата

2. По какво живите организми се отличават от неживите тела?

- A) създадени са от човека
- B) изградени са от вещества
- B) извършват жизнени процеси

3. Кое е общото между къртицата, поповото прасе и голия охлюв?

- A) средата, в която живеят
- B) начинът на придвижване
- B) приспособленията за движение

4. Чрез листопада широколистните дървета и храсти са се приспособили да:

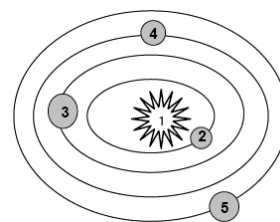
- A) се размножават
- B) преживеят през дъждовната есен
- B) оцелеят през студената зима

5. В коя група са изброени само дървета?

- A) бреза, ела, липа
- B) бук, ябълка, глог
- B) смърч, шипка, дъб

6. Кои от небесните тела на схемата НЕ излъчват собствена светлина?

- A) 1, 2, 3 и 4
- B) 1, 3, 4 и 5
- B) 2, 3, 4 и 5



7. Как се нарича жизненият процес, при който се създават нови организми?


- A) растеж
- B) хранене
- B) размножаване

8. Какъв източник на енергия се използва във ВЕЦ за производство на електроенергия?

- A) слънце
- B) вятър
- B) вода

9. Разгледай схемата. С коя буква е означен процесът на преминаване на водата от течно в газообразно състояние?

- A) 1
- B) 2
- B) 3



10. Как силата на триене влияе върху движението на телата?

- А) забавя движението на телата
- Б) ускорява движението на телата
- В) не променя скоростта на движение на телата

11. Слънцето изгрява най-рано и залязва най-късно през:

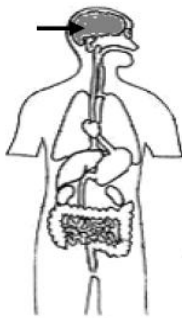
- А) пролетта
- Б) лятото
- В) есента

12. Всяка сутрин Слънцето изгрява, а всяка вечер залязва. Коя е причината за това явление?

- А) движението на Слънцето по небето
- Б) въртенето на Земята около оста ѝ
- В) въртенето на Земята около Слънцето

13. Каква работа извършва посоченият със стрелка орган?

- А) управлява всички органи и цялото тяло
- Б) участва в дишането на организма
- В) осигурява движението на кръвта в тялото



14. В каква последователност протича процесът размножаване при човека?

- А) оплождане, образуване на зародиш, раждане
- Б) образуване на зародиш, оплождане, раждане
- В) раждане, образуване на зародиш, оплождане

15. Коя от изброените дейности на човека води до нарушаване на равновесието в природата?

- А) застрояването на морския бряг
- Б) създаването на резервати
- В) засаждането на дървета

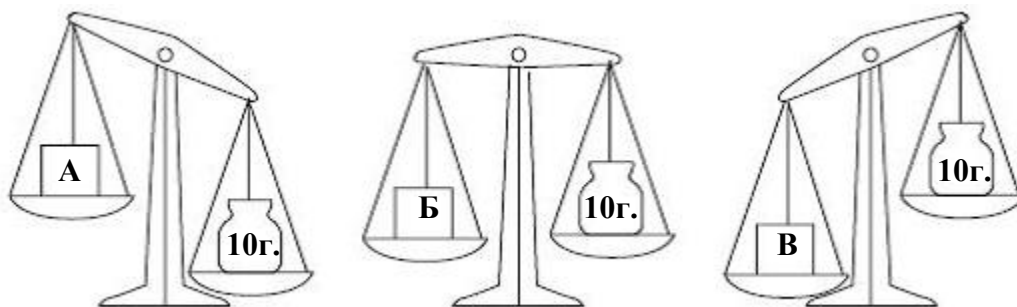
16. Кои отпадъци се разпадат най-трудно в почвата и я замърсяват?

- А) пластмасовите
- Б) хранителните
- В) дървените

Прочети условието на задачата и запиши отговора на празното място.

17. Представители на коя група гръбначни животни са змията, гущерът и крокодилът?

18. Разгледай везните и запиши буквата на кутийката, която е с най-малка маса?



19. Избройте две различни правила за здрави зъби.

Правило 1: _____

Правило 2: _____

КРИТЕРИИ ЗА ОЦЕНКА

<i>№</i>	<i>Критерии за оценка на задачите с избираем отговор – от №1 до №16</i>	<i>Брой точки за правилен отговор</i>
1.	За правилен отговор	1 т.
2.	За неправилно посочен отговор	0 т.

<i>№</i>	<i>Критерии за оценка на задачите с кратък свободен отговор (№17, №18)</i>	<i>Брой точки за правилен отговор</i>
1.	За вярно решена задача	1 т.
2.	За грешно решена задачата	0 т.
3.	За нерешена задача	0 т.

<i>№</i>	<i>Критерии за оценка на задачата с разширен свободен отговор (№19)</i>	<i>Брой точки за правилен отговор</i>
1.	За правилно решение (посочени 2 смислово различни правила)	2 т.
2.	За частично вярно решение (посочено е само едно правило)	1 т.
3.	За нерешена задача (вкл. неправилно посочено правило)	0 т.

КЛЮЧ НА ЗАДАЧА №19

За правилни отговори се приемат: редовно миене на зъби (поне два пъти на ден); хранене с богати на калций храни или млечни продукти; ограничена консумация на захар и захарни изделия; разделен прием на студени и топли храни и напитки; редовно посещение на зъболекар (поне два пъти годишно).