

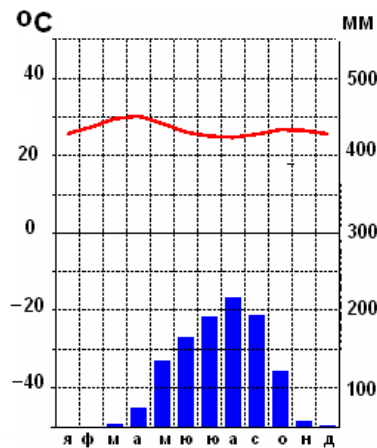


ВЪНШНО ОЦЕНЯВАНЕ ПО КУЛТУРНО-ОБРАЗОВАТЕЛНА ОБЛАСТ
„ОБЩЕСТВЕНИ НАУКИ, ГРАЖДАНСКО ОБРАЗОВАНИЕ И РЕЛИГИЯ” – VII клас

ГЕОГРАФИЯ И ИКОНОМИКА

1. Към коя група източници на географска информация се отнася изображението?

- А) текстови
- Б) графични
- В) картографски
- Г) статистически



2. Кои полуострови са разположени по източното крайбрежие на Азия?

- А) Индостан и Индокитай
- Б) Камчатка и Корея
- В) Мала Азия и Арабия
- Г) Таймир и Чукотка

3. Кое твърдение за релефа на континента Азия е вярно?

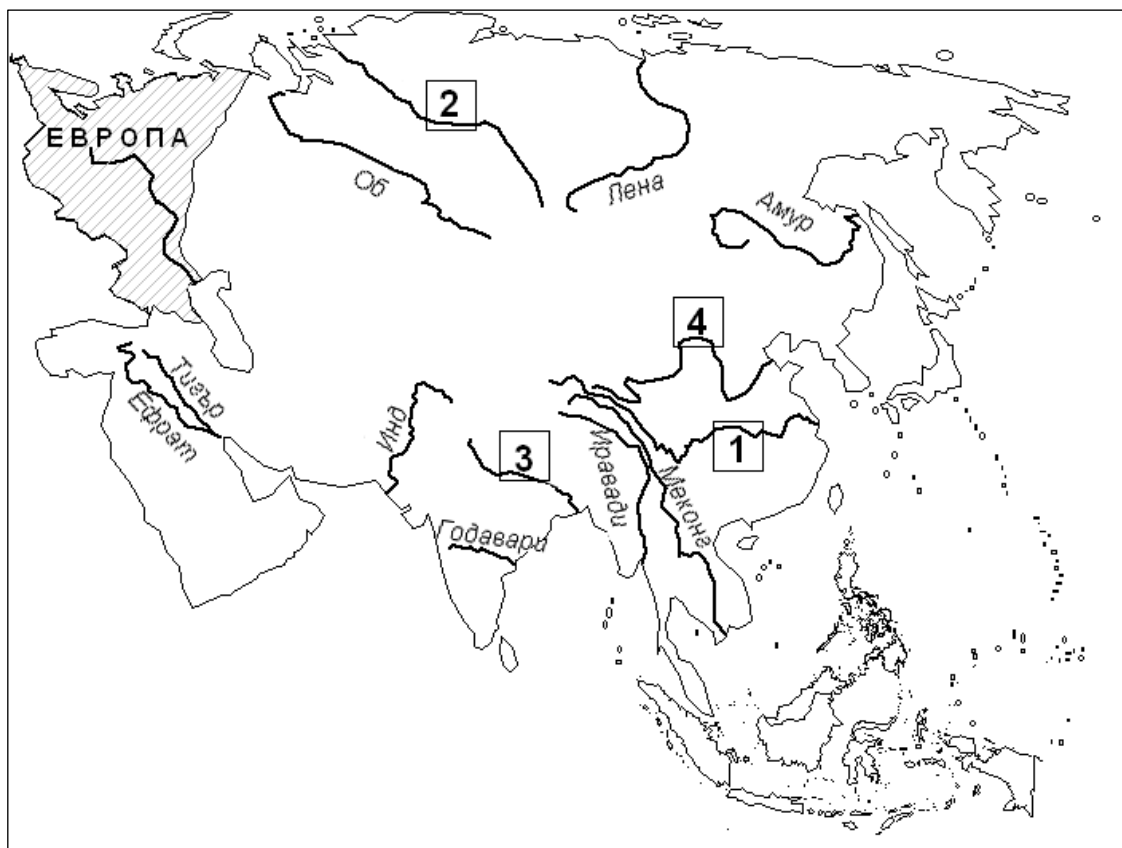
- А) Висок континент с разнообразен релеф.
- Б) Нисък континент с разнообразен релеф.
- В) Преобладава низинен релеф.
- Г) Планински – на север, равнинен – на юг.

4. Коя е причината за наличието на два сезона (сух и влажен) в южните и югоизточните части на континента Азия?

- А) пасатите
- Б) мусоните
- В) екваториалните въздушни маси
- Г) тропичните въздушни маси

5. Коя азиатска река е означена с цифра 2 на картосхемата?

- А) Енисей
- Б) Яндзъ
- В) Хуанхъ
- Г) Ганг



6. Коя група народи в Азия се отнасят към монголоидната раса?

- А) китайци, корейци
- Б) китайци, грузинци
- В) корейци, турци
- Г) монголци, индийци

7. В коя международна организация НЕ участват страни-членки от континента Азия?

- А) ОПЕК
- Б) ЕС
- В) ОИК
- Г) АСЕАН

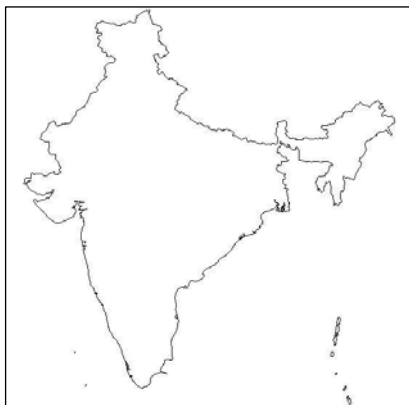
8. За коя азиатска държава се отнася описанието?

Разположена е в централните части на континента. В стопанството ѝ най-добре са развити рудодобивът, въгледобивът, металургията и машиностроенето. Столица е град Астана.

- А) Саудитска Арабия
- Б) Индия
- В) Турция
- Г) Казахстан

9. Контурите на коя азиатска страна са показани на фигурата?

- А) Китай
- Б) Индия
- В) Саудитска Арабия
- Г) Казахстан



10. Коя характеристика се отнася едновременно за Индийския и за Атлантическия океан?

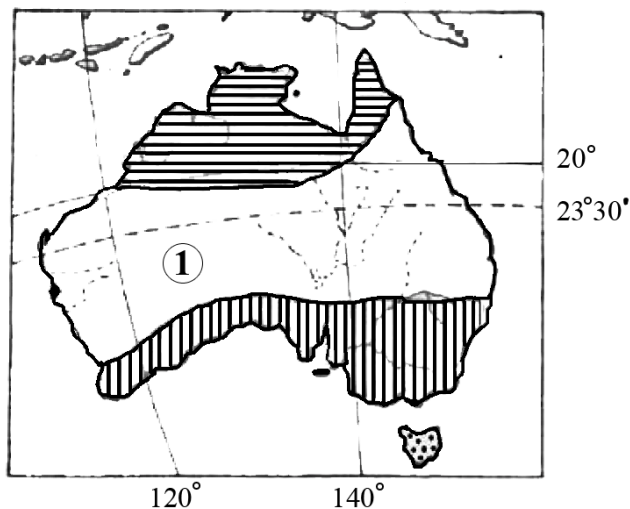
- А) Пресичат се от Екватора.
- Б) Имат много коралови острови.
- В) Разположени са изцяло в Източното полукълбо.
- Г) Имат тясна връзка с Арктичния (Северния ледовит) океан.

11. Коя е причината за уникалния растителен и животински свят на Австралия?

- А) сухият климат
- Б) изолираността на континента
- В) обширните пустини
- Г) липсата на ледници

12. Кой климатичен пояс в континента Австралия е означен с цифра 1 на картосхемата?

- А) умерен
- Б) субекваториален
- В) тропичен
- Г) субтропичен

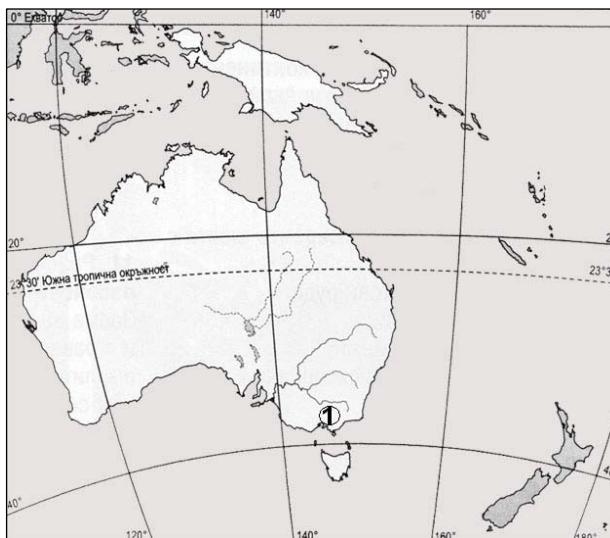


13. Коя характеристика за населението на Австралия НЕ е вярна?

- А) Преобладават преселници от Европа.
- Б) Местно население са аборигените.
- В) 90 % от населението живее в градове.
- Г) Преобладава селското население.

14. Местоположението на кой град в Австралийския съюз е означен с цифра 1 на контурната карта?

- А) Мелбърн
- Б) Сидни
- В) Канбера
- Г) Аделаида (Аделейд)



15. Коя от особеностите НЕ се отнася за Тихия океан?

- А) Най-голям е по площ.
- Б) Максималната дълбочина достига 11 022 м.
- В) Риболовът е слабо развит.
- Г) За западната част са характерни тайфуните.

16. Кой географски обект НЕ се включва в Океания?

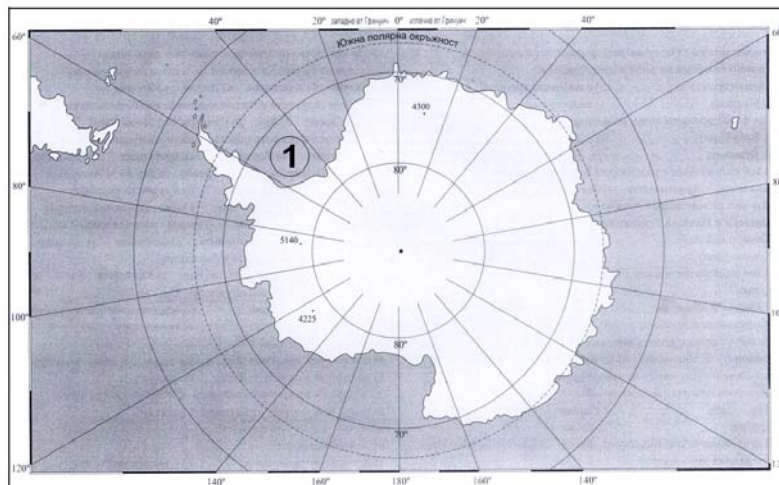
- А) Меланезия
- Б) Микронезия
- В) Полинезия
- Г) Индонезия

17. Коя е причината за големите културни различия между народите на Океания?

- А) различните климатични условия
- Б) отдалечеността на островите един от друг
- В) разнообразните полезни изкопаеми
- Г) високите планински вериги

18. Кое море е означено с цифра 1 на контурната карта на Антарктида?

- А) Рос
- Б) Амундсен
- В) Уедъл
- Г) Белингсхаузен



ИСТОРИЯ И ЦИВИЛИЗАЦИЯ

1. Къде се появяват най-ранните земеделски общества?

- А) на Балканския полуостров
- Б) в Централна Африка
- В) в „Плодородния полумесец“
- Г) на Апенинския полуостров

2. Религията на древните египтяни е политеистична. Какво означава това?

- А) Изграждали големи пирамиди за гробници на фараоните.
- Б) Боговете често се представяли с глава на животно.
- В) Вярвали, че след смъртта на тялото душата продължава да живее.
- Г) Почитали много различни богове.

3. На коя древна цивилизация принадлежи изображението?

- А) елинската
- Б) персийската
- В) египетската
- Г) тракийската



4. За писмеността на кой народ се отнася описанието?

Поради липса на друг материал знаците се нанасяли върху глинени плочки. Те се получавали, като върху влажната глина се притискала заострена пръчица. Оставените триъгълни следи се подреждали в различни комбинации. След това плочките се оставяли да изсъхнат на слънце, за да са здрави.

- А) египтяни
- Б) гърци
- В) асирийци
- Г) финикийци

5. Отбележете понятието, което е пропуснато в текста:

„Дарий учредил в Персия двадесет административни области, които персите наричали След като ги учредил и назначил на всяка една от тях по един управител, Дарий наредил да му се плащат данъци по народи.”

- А) сатрапии
- Б) номи
- В) провинции
- Г) фили

6. Кой е родоначалник на евреите, според библейските текстове?

- А) Мойсей
- Б) Саул
- В) Авраам
- Г) Соломон

7. За управлението на коя древна държава е вярно следното описание?

Властта принадлежала на народа – на онези 40 000 граждани, които всяка седмица се събирали в народното събрание (Еклесията) да решават въпросите за мира и войната, за строежите и данъците. Всеки можел да каже мнението си и всички гласували. Между срещите на събраниято, Съвет на 500-те контролирал работата на другите държавни органи.

- А) Рим по времето на Октавиан Август
- Б) Еврейското царство при Давид
- В) Спарта след законите на Ликург
- Г) Атинския полис при Перикъл

8. Как приключва военният конфликт, представен на историческата карта?

- А) с победа на елините над персите
- Б) с победа на спартанците над атиняните
- В) с победа на персийските войски
- Г) с победа на Александър Македонски



9. За възпитанието на децата в кой елински полис разказва текстът?

„На четмо и писмо те се учили само с оглед на практическата полза от това, а цялото им останало възпитание се свеждало до това да се подчиняват безпрекословно, да бъдат издръжливи на усилия и да побеждават в боя. Затова и с напредването на възрастта им тяхното обучение ставало по-сурово.“

- А) Атина
- Б) Тива
- В) Милет
- Г) Спарта

10. Коя е богинята на красотата и любовта в древна Елада?

- А) Деметра
- Б) Афродита
- В) Хера
- Г) Атина

11. Кой от показаните предмети е част от Вълчитрънското съкровище?



А)



Б)



В)



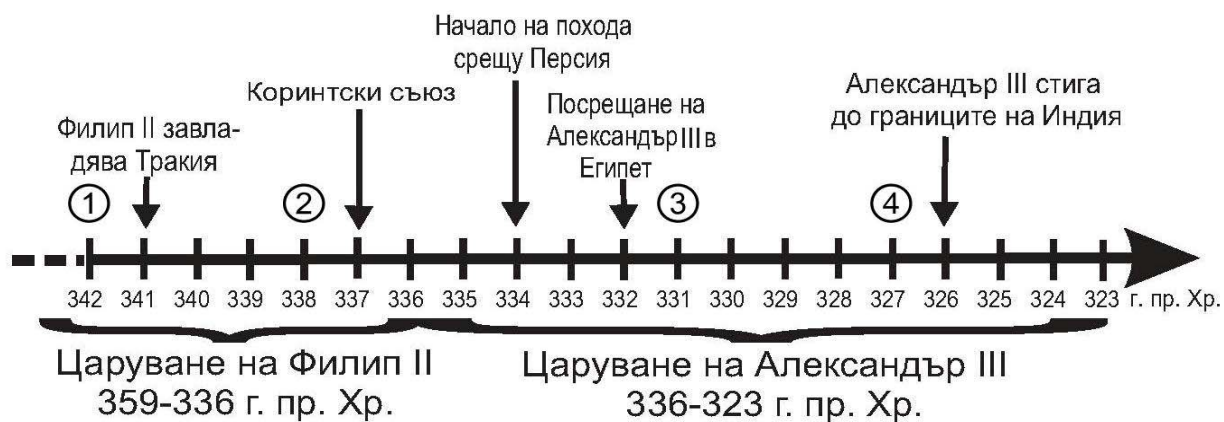
Г)

12. Представеното изображение е от тракийска гробница. Къде се намира тя?

- А) в град Казанлък, Старозагорско
- Б) при с. Свещари, Разградско
- В) при с. Александрово, Хасковско
- Г) при с. Старосел, Пловдивско



13. С коя цифра на линията на времето е отбелязана битката при Гавгамела?



- А) 1
- Б) 2
- В) 3
- Г) 4

14. Кое събитие е най-близо по време до началото на първите Олимпийски игри?

- А) създаването на древна Персия
- Б) Пелопонеската война
- В) създаването на Одриското царство
- Г) основаването на Рим

15. Кое е последица от Пуническите войни?

- А) Рим постигнал господство в Средиземноморието
- Б) Настъпил залезът на ахейската цивилизация
- В) Атина се наложила като морска сила
- Г) Елинските полиси победили Персия

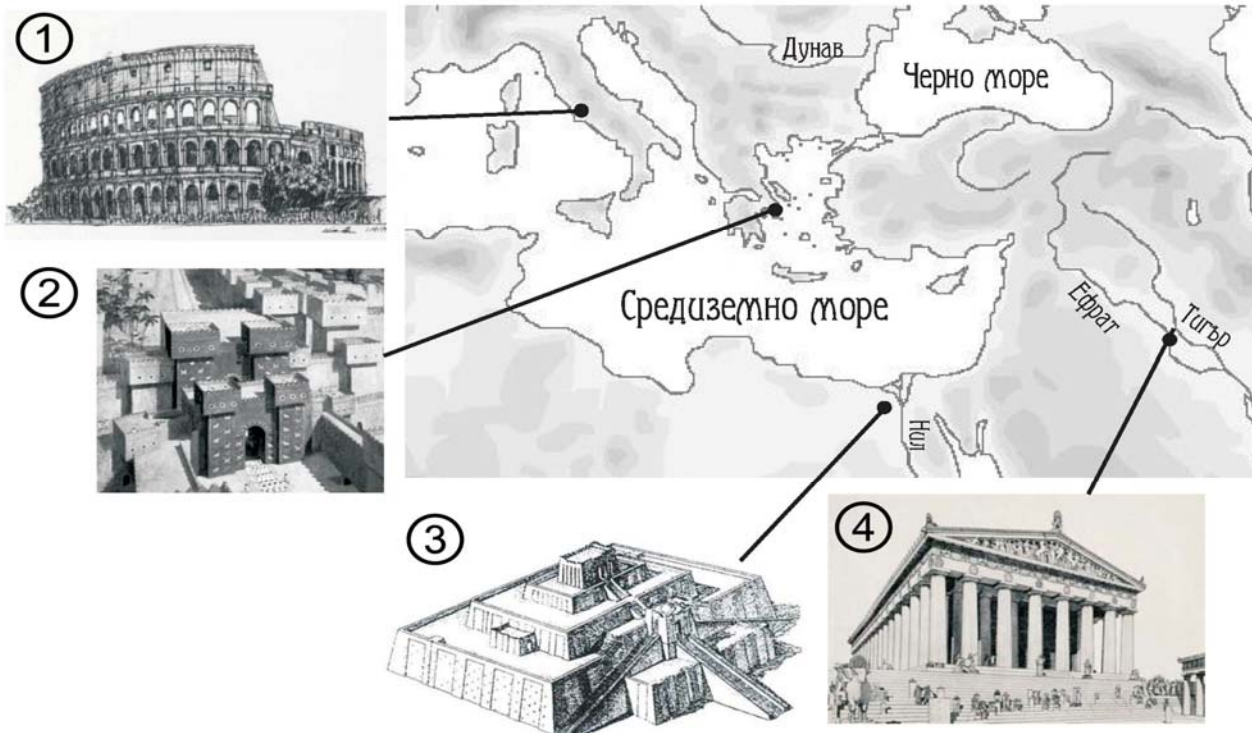
16. Кога Исус Христос започва да проповядва новата религия?

- А) II в. пр.Хр.
- Б) I в. пр.Хр.
- В) I в. сл.Хр.
- Г) II в. сл.Хр.

17. В каква последователност възникват посочените древни държави?

- А) Персийска империя, Римска империя, Ново Египетско царство
- Б) Римска империя, Ново Египетско царство, Персийска империя
- В) Ново Египетско царство, Персийска империя, Римска империя
- Г) Ново Египетско царство, Римска империя, Персийска империя

18. Коя архитектурна забележителност е показана на правилното си място на картата?



- А) 1
- Б) 2
- В) 3
- Г) 4

МИНИСТЕРСТВО НА ОБРАЗОВАНИЕТО, МЛАДЕЖТА И НАУКАТА
ЦЕНТЪР ЗА КОНТРОЛ И ОЦЕНКА НА КАЧЕСТВОТО НА УЧИЛИЩНОТО ОБРАЗОВАНИЕ

29 май 2012 г.

ВЪНШНО ОЦЕНЯВАНЕ ПО КУЛТУРНО-ОБРАЗОВАТЕЛНА ОБЛАСТ
„ОБЩЕСТВЕНИ НАУКИ, ГРАЖДАНСКО ОБРАЗОВАНИЕ И РЕЛИГИЯ” – VII клас

ГЕОГРАФИЯ И ИКОНОМИКА

Ключ с верните отговори

Всеки верен отговор се оценява с 1 точка.

Въпрос №	Верен отговор
1.	Б
2.	Б
3.	А
4.	Б
5.	А
6.	А
7.	Б
8.	Г
9.	Б
10.	А
11.	Б
12.	В
13.	Г
14.	А
15.	В
16.	Г
17.	Б
18.	В

ИСТОРИЯ И ЦИВИЛИЗАЦИЯ

Ключ с верните отговори

Всеки верен отговор се оценява с 1 точка.

ВЪПРОС №	ОТГОВОР
1.	В
2.	Г
3.	Б
4.	В
5.	А
6.	В
7.	Г
8.	А
9.	Г
10.	Б
11.	Г
12.	Б
13.	В
14.	Г
15.	А
16.	В
17.	В
18.	А