


ДЪРЖАВЕН ЗРЕЛОСТЕН ИЗПИТ ПО  
ГЕОГРАФИЯ И ИКОНОМИКА

20 май 2011 г. – Вариант 2

**УВАЖАЕМИ ЗРЕЛОСТНИЦИ,**


Тестът по география и икономика съдържа **30 задачи** с избираем отговор, две практически задачи и задача за написване на писмена разработка.

**Първите 30 задачи (от 1. до 30. включително)** в теста са от затворен тип с четири възможни отговора, обозначени с главни букви от А до Г, от които само един е верен. Отговорите на тези задачи отбелязвайте с черен цвят на химикалката в **листа за отговори**, а не върху тестовата книжка. За да отбележите верния отговор, зачертайте със знака  кръгчето с буквата на съответния отговор. Например:

А  Б  В  Г

Ако след това прецените, че първоначалният отговор не е верен и искате да го поправите, запълнете кръгчето с грешния отговор и зачертайте буквата на друг отговор, който приемате за верен. Например:

А  Б  В  Г

**За всяка задача трябва да е отбелязан не повече от един действителен отговор. Като действителен отговор на съответната задача се приема само този, чиято буква е зачертана със знака  .**

Отговорите на задачите от **31. до 36. вкл.** попълвайте в предоставения **свитък за свободните отговори**.

Отговорите на **практическите задачи (37. и 38.)** попълвайте в предоставения **свитък за свободните отговори**.

**Писмената разработка** върху география на България напишете в **свитъка за свободните отговори** на предвиденото за това място.

**ПОЖЕЛАВАМЕ ВИ УСПЕШНА РАБОТА!**

Отговорите на задачите от 1. до 30. вкл. отбелязвайте в листа за отговори!

**1. Коя от посочените геосфери е част от вътрешния строеж на Земята?**

- А) тропосфера
- Б) стратосфера
- В) астеносфера
- Г) мезосфера

**2. Азоналността като основна природногеографска закономерност е обособена от:**

- А) енергията на Слънцето
- Б) енергията на земните недра
- В) енергията на вятъра
- Г) енергията на водата

**3. Денонощните температурни амплитуди са най-големи в природната зона на:**

- А) пустините
- Б) тайгата
- В) тундрата
- Г) арктичните пустини

**4. Коя демографска ситуация е характерна за страните в Централна Африка?**

- А) ниска раждаемост, висока смъртност и застаряващо население
- Б) висока раждаемост, висока смъртност и малка продължителност на живот
- В) висока раждаемост, ниска смъртност и бързо нарастване на населението
- Г) ниска раждаемост, ниска смъртност и бавно нарастване на населението

**5. Коя от посочените страни - членки на Европейския съюз НЕ е сред учредителките, но се присъединява към съюза през 1995 г.?**

- А) Франция
- Б) Италия
- В) Белгия
- Г) Австрия

**6. Кое е второто голямо разделение на труда в историята на човечеството?**

- А) на животновъдството от земеделието
- Б) на занаятите от земеделието
- В) отделянето на транспорта като самостоятелен отрасъл
- Г) отделянето на туризма като самостоятелен отрасъл

**7. В кой район на света се произвежда най-много естествен каучук?**

- А) Южна Европа
- Б) Югозападна Азия
- В) Югоизточна Азия
- Г) Австралия

8. В коя от посочените двойки „страна – земеделска култура” има несъответствие?

- А) Бразилия – захарна тръстика
- Б) Китай – ориз
- В) Испания – маслини
- Г) Канада – памук

9. В кой подотрасъл на животновъдството са специализирани двете южноамерикански страни Бразилия и Аржентина?

- А) говедовъдство
- Б) камиларство
- В) овцевъдство
- Г) козевъдство

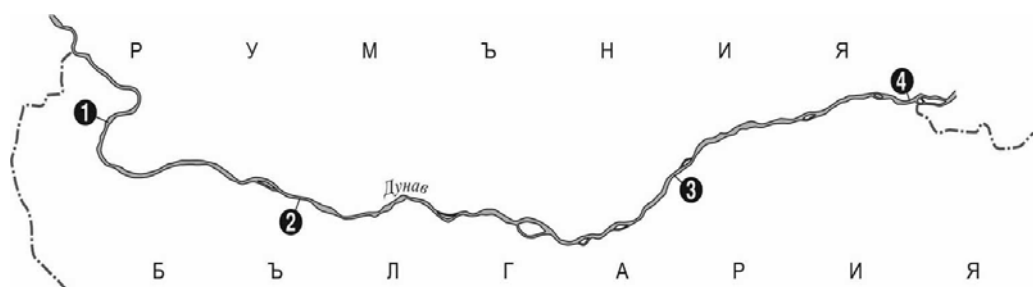
10. Коя от посочените двойки страни се отличава с голяма гъстота на жп мрежата и с наличие на високоскоростни влакове?

- А) Гърция и Румъния
- Б) Германия и Белгия
- В) Либия и Египет
- Г) Австралийски съюз и Нова Зеландия

11. Изчислете действителното разстояние между градовете Враца и Ямбол, при условие, че мащабът на картата е 1:300 000, а измереното разстояние между тях е 110 см.

- А) 450 км
- Б) 330 км
- В) 210 км
- Г) 175 км

12. Коя фериботна връзка е изобразена с цифра 2 на картосхемата?



- А) Видин – Калафат
- Б) Русе – Гюргево
- В) Оряхово – Бекет
- Г) Силистра – Кълъраш

13. В резултат на дейността на кои релефообразуващи процеси се образуват пещерите?

- А) карстови
- Б) абразионни
- В) дефлационни
- Г) ерозионни

**14. В кое от посочените находища на полезни изкопаеми в България НЕ се добиват медни руди?**

- А) Елаците
- Б) Асарел
- В) Малко Търново
- Г) Златоград

**15. Коя е причината над по-голямата част от страната през май-юни да падат максимални количества валежи?**

- А) климатичната преграда на Стара планина
- Б) засилената циклонална дейност
- В) постепенното повишаване на температурите
- Г) влиянието на Сибирския антициклон

**16. Кое твърдение за реките в България НЕ е вярно?**

- А) Река Места извира от Рила.
- Б) Река Ропотамо се влива в Черно море.
- В) Река Марица е с най-голям водосборен басейн.
- Г) Река Арда има пролетно-лятно пълноводие.

**17. Кой почвен тип е широчинно зонален?**

- А) кафяви горски почви
- Б) сиви горски почви
- В) тъмноцветни горски почви
- Г) планинско-ливадни почви

**18. Иглолистните храсти клек и хвойна заемат територии между:**

- А) иглолистните и широколистните гори
- Б) широколистните и смесените гори
- В) иглолистните гори и високопланинските пасища
- Г) широколистните гори и широколистните храсти

**19. Ирано-Туранската фаунистична област обхваща:**

- А) Средна гора
- Б) Добруджа
- В) Краище
- Г) Родопи

**20. Част от коя природногеографска област са планините Верила, Руй и Конявска?**

- А) Старопланинска
- Б) Краищенско-Средногорска
- В) Рило-Родопска
- Г) Тракийско-Странджанска

**21. Кои форми на релефа НЕ са разпространени в Стара планина?**

- А) пещери
- Б) проломи
- В) денудационни заравнености
- Г) асиметрични речни долини

**22. Колко приблизително е средната гъстота на населението в България в началото на XXI в.?**

- А) 55 д./км<sup>2</sup>
- Б) 61 д./км<sup>2</sup>
- В) 71 д./км<sup>2</sup>
- Г) 80 д./км<sup>2</sup>

**23. Кой от посочените процеси НЕ е характерен за стопанското развитие на България след 1990 година?**

- А) приватизация
- Б) реституция
- В) национализация
- Г) въвеждане на валутен борд

**24. Коя от посочените групи земеделски култури включва само технически?**

- А) ръж, овес, хмел
- Б) пшеница, захарно цвекло, лен
- В) ечемик, царевица, коноп
- Г) памук, слънчоглед, тютюн

**25. В коя група селищата са центрове на производство на цветни метали?**

- А) София, Пловдив, Ловеч, Перник
- Б) Пловдив, Пирдоп, Кърджали, София
- В) Шумен, Плевен, Бургас, Пирдоп
- Г) Сливен, Габрово, Ихтиман, Перник

**26. В коя от двойките „град – производство” има несъответствие?**

- А) Първомай – консерви
- Б) Своге – растителни масла
- В) Мелник – вино
- Г) Хасково – тютюневи изделия

**27. Колко на брой са основните жп линии в България?**

- А) 9
- Б) 7
- В) 5
- Г) 3

**28. В кой географски регион се създава над 1/3 от БВП на България и около 75% от площта му е заета от планински земи?**

- А) Североизточен Придунавски
- Б) Северозападен
- В) Югозападен
- Г) Северен Централен

**29. В коя от групите градове всички са разположени в Северен Централен регион?**

- А) Симитли, Стамболийски, Луковит
- Б) Каспичан, Брегово, Левски
- В) Етрополе, Елхово, Дряново
- Г) Тетевен, Троян, Никопол

**30. Кой от посочените центрове на планински туризъм е разположен в Родопите?**

- А) Банско
- Б) Боровец
- В) Пампорово
- Г) Мальовица


Отговорите на задачи от 31. до 38. вкл. запишете в свитъка за свободните отговори!

**31. В свитъка за свободните отговори напишете за коя световна организация се отнася описанието.**

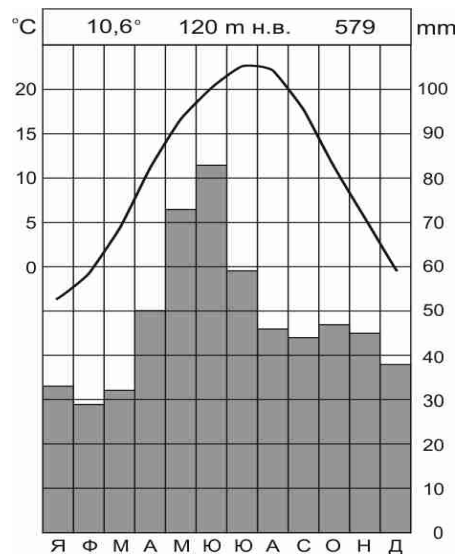
*„Създадена е през 1945 година. Основните ѝ цели са опазване на мира, икономическото и културно сътрудничество. Членуването в нея е доброволно за всички държави, които приемат нейния устав. България е приета за неин член през 1955 година.”*

**32. В свитъка за свободните отговори допишете: „Процесът на рязко увеличаване на броя на населението в определен регион се нарича.....”.**

**33. В свитъка за свободните отговори напишете кое природно явление е изобразено на снимката.**



**34. В свитъка за свободните отговори напишете за коя климатична област на България се отнася посочената климатограма.**



**35. В свитъка за свободните отговори запишете за кой географски регион в България се отнася следното описание.**

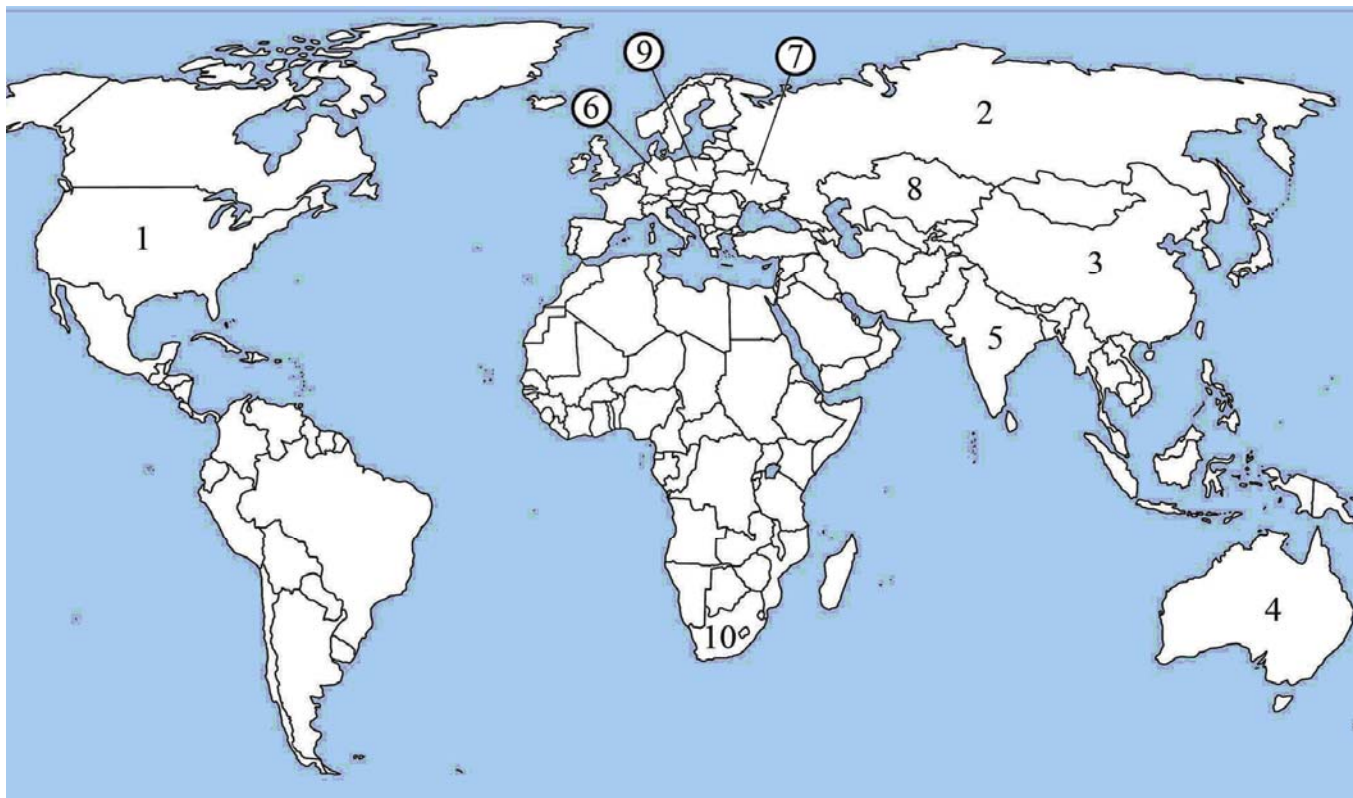
*„Има благоприятно географско положение, като през територията му преминава европейски коридор №10. Разполага със значителни хидроенергийни ресурси. На територията му се намират каскадата Белмекен-Сестримо, Баташкия водосилов път и каскадата на р. Вьча.“*

**36. В свитъка за свободните отговори напишете в коя планина се намира най-ранно обявеният български резерват „Силкосия“.**

На практическите задачи 37. и 38. вкл. отговорете в свитъка за свободните отговори!

**37. Практическа задача по география на света**

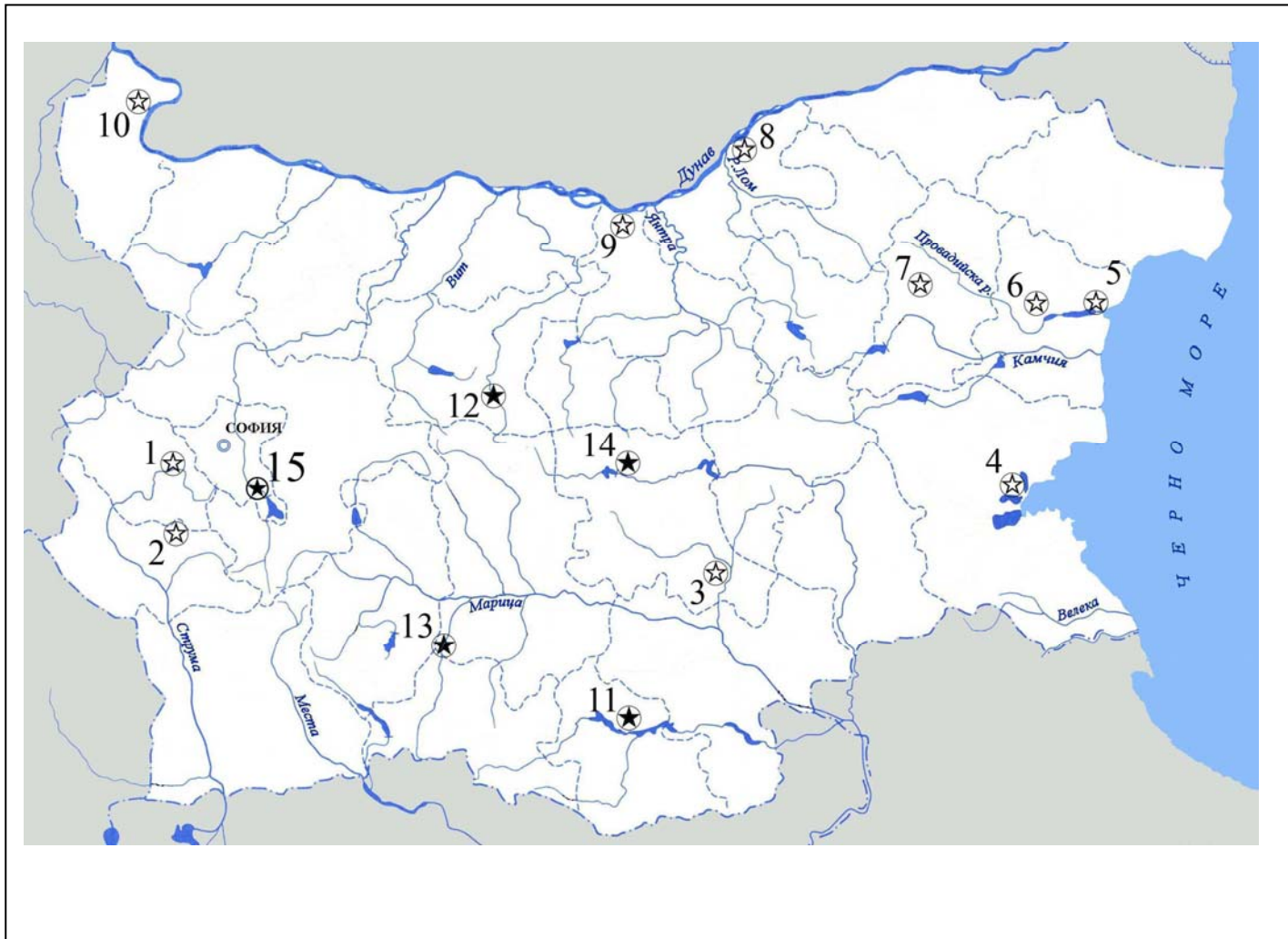
**В свитъка за свободните отговори срещу номера от 1 до 10 напишете държавите с най – голям добив на въглища в света.**





### 38. Практическа задача по география на България

В свитъка за свободните отговори срещу номера от 1 до 10 вкл. запишете наименованието на съответната ТЕЦ, а срещу номера от 11 до 15 – наименованието на реката, на която са изградени ВЕЦ.



Писмената разработка напишете в свитъка за свободните отговори на предвиденото за това място!

#### Стопанство на Западен Тракийско-Родопски регион

- А) Обща характеристика
- Б) Първичен сектор
- В) Вторичен сектор
- Г) Третичен сектор
- Д) Проблеми и перспективи на развитие на региона

**МИНИСТЕРСТВО НА ОБРАЗОВАНИЕТО, МЛАДЕЖТА И НАУКАТА**  
**ДЪРЖАВЕН ЗРЕЛОСТЕН ИЗПИТ ПО**  
**ГЕОГРАФИЯ И ИКОНОМИКА**

**20 май 2011 г.**

**ВАРИАНТ № 2**

**Ключ с верните отговори**

<b>Въпрос №</b>	<b>Верен отговор</b>	<b>Брой точки</b>
<b>1.</b>	<b>В</b>	<b>1</b>
<b>2.</b>	<b>Б</b>	<b>1</b>
<b>3.</b>	<b>А</b>	<b>1</b>
<b>4.</b>	<b>Б</b>	<b>1</b>
<b>5.</b>	<b>Г</b>	<b>1</b>
<b>6.</b>	<b>Б</b>	<b>1</b>
<b>7.</b>	<b>В</b>	<b>1</b>
<b>8.</b>	<b>Г</b>	<b>1</b>
<b>9.</b>	<b>А</b>	<b>1</b>
<b>10.</b>	<b>Б</b>	<b>1</b>
<b>11.</b>	<b>Б</b>	<b>1</b>
<b>12.</b>	<b>В</b>	<b>1</b>
<b>13.</b>	<b>А</b>	<b>1</b>
<b>14.</b>	<b>Г</b>	<b>1</b>
<b>15.</b>	<b>Б</b>	<b>1</b>
<b>16.</b>	<b>Г</b>	<b>1</b>
<b>17.</b>	<b>Б</b>	<b>1</b>
<b>18.</b>	<b>В</b>	<b>1</b>
<b>19.</b>	<b>Б</b>	<b>1</b>
<b>20.</b>	<b>Б</b>	<b>1</b>
<b>21.</b>	<b>Г</b>	<b>1</b>
<b>22.</b>	<b>В</b>	<b>1</b>
<b>23.</b>	<b>В</b>	<b>1</b>
<b>24.</b>	<b>Г</b>	<b>1</b>
<b>25.</b>	<b>Б</b>	<b>1</b>
<b>26.</b>	<b>Б</b>	<b>1</b>
<b>27.</b>	<b>А</b>	<b>1</b>
<b>28.</b>	<b>В</b>	<b>1</b>
<b>29.</b>	<b>Г</b>	<b>1</b>
<b>30.</b>	<b>В</b>	<b>1</b>

31. Организация на обединените нации – 2 точки

32. демографски взрив – 1 точка

33. тайфун – 2 точки

34. умереноконтинентална климатична област – 2 точки

35. Западен Тракийско – Родопски регион – 2 точки

36. Странджа – 1 точка

37. Практическа задача по *география на света* – 10 точки

1. САЩ

2. Русия

3. Китай

4. Австралийски съюз

5. Индия

6. Германия

7. Украйна

8. Казахстан

9. Полша

10. РЮА

38. Практическа задача по *география на България* – 15 точки

1. ТЕЦ „Перник”

2. ТЕЦ „Бобовдол”

3. ТЕЦ „Марица – Изток”

4. ТЕЦ „Бургас”

5. ТЕЦ „Варна”

6. ТЕЦ „Девня”

7. ТЕЦ „Шумен”

8. ТЕЦ „Русе”

9. ТЕЦ „Свищов”

10. ТЕЦ „Видин”

11. река Арда
12. река Осъм
13. река Вьча
14. река Тунджа
15. река Искър

**Писмена разработка върху *география на България* – 35 точки**

**Стопанство на Западен Тракийско - Родопски регион**

**А/ Обща характеристика – 2 точки**

**Б/ Първичен сектор – 12 точки**

**В/ Вторичен сектор – 12 точки**

**Г/ Третичен сектор – 6 точки**

**Д/ Проблеми и перспективи на развитие на региона – 3 точки**