

ДЪРЖАВЕН ЗРЕЛОСТЕН ИЗПИТ ПО  
ГЕОГРАФИЯ И ИКОНОМИКА

31 май 2017 г. – Вариант 2

МОДУЛ 1

Време за работа – 60 минути

*Отговорите на задачите от 1. до 30. вкл. отбелязвайте в листа за отговори!*

**1. Кривите линии, които свързват точките с еднаква дълбочина в Световния океан, се наричат:**

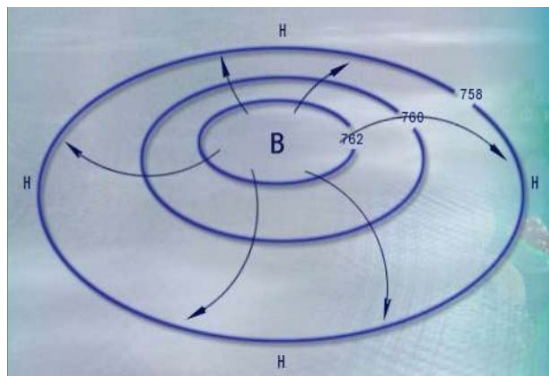
- А) изотерми
- Б) изобати
- В) изобари
- Г) изохиети

**2. При коя от двойките „процес в литосферата – форма на релефа“ има НЕСЪОТВЕТСТВИЕ?**

- А) ерозия – ровина
- Б) абразия – плажна ивица
- В) дефлация – циркус
- Г) окаряване – пещера

**3. Кое явление, свързано с посочената промяна на атмосферното налягане, е показано на схемата?**

- А) циклон
- Б) антициклон
- В) торнадо
- Г) тайфун



**4. Изчерпаеми и възобновяеми природни ресурси са:**

- А) водните ресурси
- Б) полезните изкопаеми
- В) енергията на вятъра
- Г) енергията на приливите и отливите

**5. На кой ред всички страни имат първи тип възпроизводство (демографска криза)?**

- А) Германия, Украйна, Русия
- Б) Румъния, Турция, Великобритания
- В) САЩ, Бразилия, Италия
- Г) Австралийски съюз, Япония, Аржентина

**6. Посочете международната организация, чиято емблема е на изображението:**

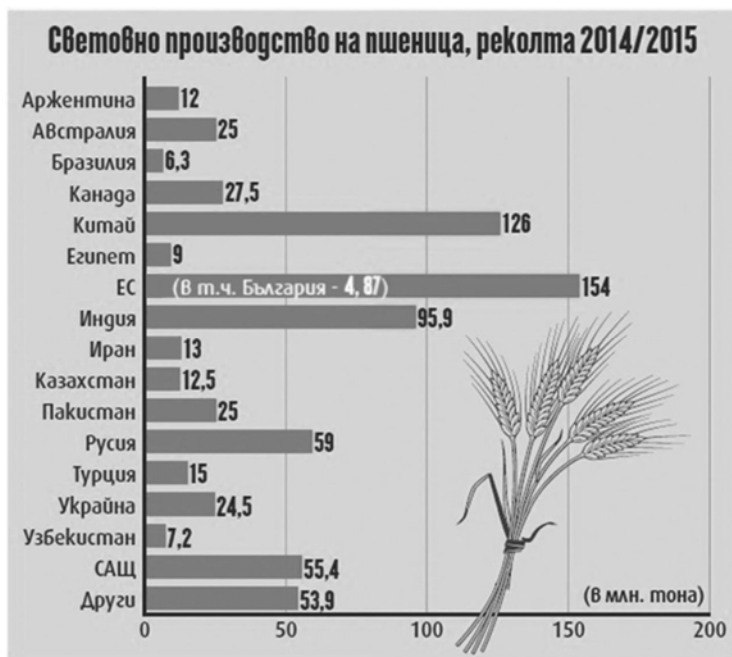


- А) НАТО
- Б) Европейски съюз
- В) ОПЕК
- Г) Черноморско икономическо сътрудничество

**7. „Тойота“, „Дженеръл Мотърс“ и „Фолксваген“ са световни производители на автомобили в света. В коя група страните производителки са посочени правилно?**

- А) Корея – Швеция – Франция
- Б) Япония – САЩ – Германия
- В) Китай – Испания – Италия
- Г) Италия – Канада – Великобритания

**8. По диаграмата определете кое твърдение за производството на пшеница в света за 2014-2015 година НЕ е вярно:**



- А) Европейският съюз е най-големият производител на пшеница през 2014-2015 г.  
 Б) Русия и Китай са произвели годишно повече, отколкото Канада и Австралийски съюз, взети заедно.  
 В) Сред азиатските страни Индия е на трето място по производство на пшеница.  
 Г) Годишното производство на пшеница в България в рамките на ЕС е около 3%.

**9. Коя от посочените характеристики НЕ се отнася за Франция?**

- А) Боденското езеро е най-голямото ѝ езеро  
 Б) страната е разделена на региони и департаменти  
 В) атомната енергетика има голям дял в общото ѝ енергопроизводство  
 Г) страната има специализация в производство на сирена, вина и козметични изделия

**10. В коя двойка „страна от Южноамериканския регион – столица“ е допусната грешка?**

- А) Колумбия – Богота  
 Б) Аржентина – Буенос Айрес  
 В) Бразилия – Рио де Жанейро  
 Г) Перу – Лима

**11. Коя концепция развива идеите за съхраняване на ресурсите за бъдещите поколения?**

- А) глобализация  
 Б) социална справедливост  
 В) човешки капитал  
 Г) устойчиво развитие

**12. В коя от посочените фериботни връзки има допусната грешка?**

- А) Силистра – Кълъраш
- Б) Русе – Гюргево
- В) Оряхово – Бекет
- Г) Свищов – Калафат

**13. Ако излезете с автомобил от България в Македония при ГКПП Гюешево, можете да се върнете обратно, без да ползвате същия пункт, през ГКПП:**

- А) Калотина
- Б) Илинден
- В) Златоград
- Г) Златарево

**14. В резултат от действието на кои екзогенни процеси са образувани каменните реки на Витоша?**

- А) изветрително-денудационни
- Б) ерозионно-акумулативни
- В) денудационно-гравитационни
- Г) глациални

**15. Кой вид въглища в България се характеризира с най-висока калоричност и с най-малки количества?**

- А) лигнитни
- Б) кафяви
- В) черни
- Г) антрацитни

**16. В коя двойка НЯМА съответствие между климатична област и станция?**

- А) умереноконтинентална – Перник
- Б) преходноконтинентална – Стара Загора
- В) континентално-средиземноморска – Гоце Делчев
- Г) планинска – Кърджали

**17. Кое езеро по Черноморското крайбрежие НЕ е лиман?**

- А) Варненско
- Б) Поморийско
- В) Бургаско
- Г) Атанасовско

**18. Кое от посочените твърдения за почвите на България Не е вярно?**

- А) Сивите горски почви са типични за Предбалкана.
- Б) Смолниците са характерни за котловинните полета на Южна България.
- В) Черноземните почви са образувани върху льосовата покривка на Дунавската равнина.
- Г) Жълтоземните почви са характерни за река Струма и планината Славянка.

**19. В кои планини в България се срещат гори от черна мура?**

- А) Рила и Витоша
- Б) Рила и Родопи
- В) Пирин и Славянка
- Г) Пирин и Стара планина

**20. Най-високият връх в Краищенско-Средногорската област е:**

- А) връх Богдан
- Б) Черни връх
- В) връх Българка
- Г) връх Голям Перелик

**21. Между планините Беласица и Огражден протича река:**

- А) Струма
- Б) Места
- В) Благоевградска Бистрица
- Г) Струмешница

**22. След 2010 година в България намалява:**

- А) градското население
- Б) надтрудоспособното население
- В) подтрудоспособното население
- Г) заетите в третичния сектор

**23. Коя двойка селища са възникнали по време на епохата на гръцката колонизация?**

- А) Одесос, Месемврия
- Б) Сердика, Сексагинта преста
- В) Бонония, Кабиле
- Г) Неврокоп, Горна Джумая

**24. Кое твърдение НЕ е свързано с прехода към пазарно стопанство в България?**

- А) Ликвидиране на губещи предприятия.
- Б) Намаляване на дела на третичния сектор в БВП.
- В) Увеличаване на относителния дял на частния сектор в промишлеността.
- Г) Създаване на условия за вътрешни и външни инвестиции.

**25. София, Дупница и Разград са центрове на:**

- А) нефтохимическата промишленост
- Б) парфюмерийната промишленост
- В) козметичната промишленост
- Г) фармацевтичната промишленост

**26. Центровете на порцеланово-фаянсовата промишленост Каспичан и Нови пазар се намират на територията на:**

- А) Северен централен регион
- Б) Северозападен регион
- В) Югоизточен регион
- Г) Североизточен регион

**27. Кой европейски транспортен коридор преминава през Северозападния и Югозападния регион в България?**

- А) № 4
- Б) № 8
- В) № 9
- Г) № 10

**28. В коя двойка „регион – природен обект“ е допусната грешка?**

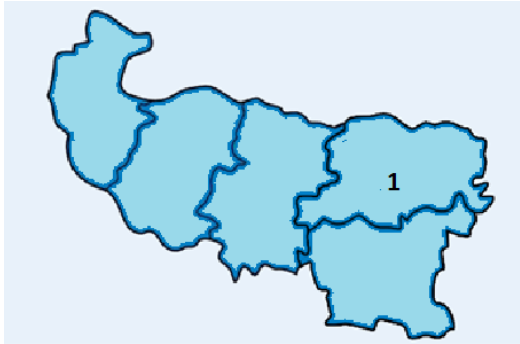
- А) Северозападен – Врачанска планина
- Б) Северен централен – Айдемирска низина
- В) Южен централен – Златишко-Пирдопска котловина
- Г) Югоизточен – Бакаджиците

**29. В кой от посочените градове се произвеждат две трети от алуминиевите изделия в България?**

- А) Пирдоп
- Б) Кърджали
- В) Шумен
- Г) Златица

**30. Кой областен център от Северозападен регион е показан с цифра 1 на схемата?**

- А) Враца
- Б) Ловеч
- В) Велико Търново
- Г) Плевен



ДЪРЖАВЕН ЗРЕЛОСТЕН ИЗПИТ ПО  
ГЕОГРАФИЯ И ИКОНОМИКА

31 май 2017 г. – Вариант 2

МОДУЛ 2

Време за работа – 90 минути

*Отговорите на задачи от 31. до 38. вкл. запишете в свитъка за свободните отговори!*

31. В свитъка за свободните отговори напишете кой клон на християнството е най-разпространен в Полша?

32. В свитъка за свободните отговори напишете името на европейска държава без излаз на море, чийто очертания са показани на изображението.



33. В свитъка за свободните отговори напишете подотрасъл на текстилната промишленост, който използва суровини от животновъдството.

Текстилна промишленост	
вълнотекстилна промишленост	

34. В свитъка за свободните отговори срещу цифра 1 напишете името на височинния растителен пояс, разпространен в България.





**35. В свитъка за свободните отговори срещу номера от 1 до 3 вкл. поставете специализацията за региона подотрасъл на аграрното (земеделско) стопанство:**

*Специализиращ подотрасъл: Отглеждане на етерично-маслодайни култури, зърнопроизводство, ранно зеленчукопроизводство*

<b>Регион</b>	<b>Специализиращ подотрасъл</b>
1. Североизточен	
2. Югозападен	
3. Южен централен	

**36. В свитъка за свободните отговори напишете името на града, в който се намира туристическият обект, показан на снимката.**



На практическите задачи 37. и 38. вкл. отговорете в свитъка за свободните отговори!

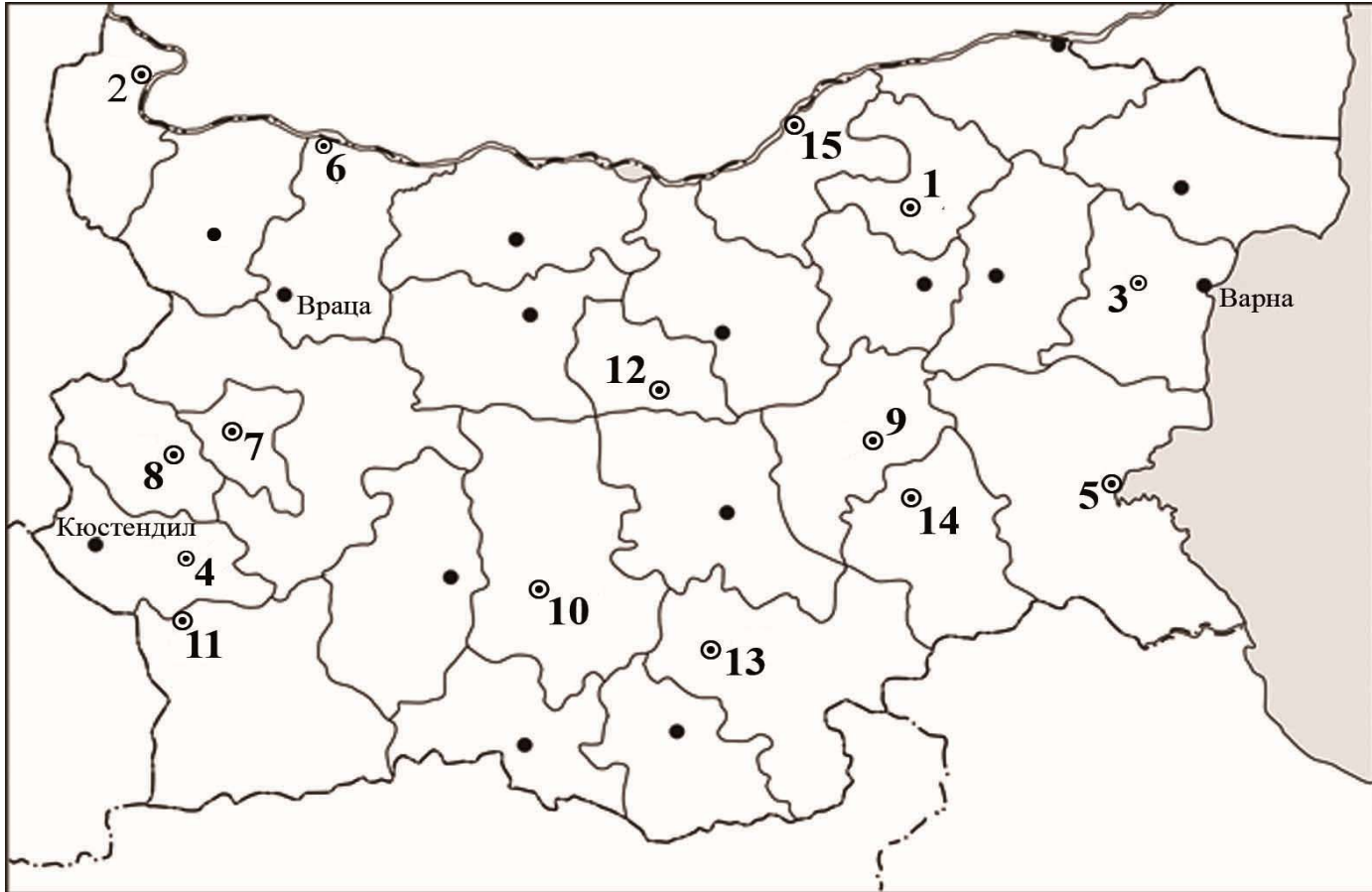
**37. Практическа задача по география на света**

**В свитъка за свободните отговори срещу номера от 1. до 7. вкл. напишете имената на посочените най-малки държави в Европа, а срещу номера от 8. до 10. вкл. посочените големи държави в Източна Европа.**



**38. Практическа задача по география на България**

В свитъка за свободните отговори срещу номера от 1. до 5. напишете имената на посочените градове – центрове на химическата промишленост, от 6. до 8. имената на градове – центрове на енергетиката, а от 9. до 15. имената на градове – центрове на текстилната промишленост.



ДЪРЖАВЕН ЗРЕЛОСТЕН ИЗПИТ ПО

ГЕОГРАФИЯ И ИКОНОМИКА

31 май 2017 г. – Вариант 2

МОДУЛ 3

Време за работа – 90 минути

*Писмената разработка напишете в свитъка за свободните отговори на предвиденото за това място!*

**Характеристика на Североизточен регион**

- А) Обща характеристика
- Б) Първичен сектор
- В) Вторичен сектор
- Г) Третичен сектор
- Д) Проблеми и перспективи на развитие на региона

**МИНИСТЕРСТВО НА ОБРАЗОВАНИЕТ И НАУКАТА**  
**ДЪРЖАВЕН ЗРЕЛОСТЕН ИЗПИТ ПО**  
**ГЕОГРАФИЯ И ИКОНОМИКА**

31 май 2017 г.

**ВАРИАНТ № 2**

**Ключ с верните отговори**

<b>Въпрос №</b>	<b>Верен отговор</b>	<b>Брой точки</b>
1.	Б	1
2.	В	1
3.	Б	1
4.	А	1
5.	А	1
6.	А	1
7.	Б	1
8.	В	1
9.	А	1
10.	В	1
11.	Г	1
12.	Г	1
13.	Г	1
14.	А	1
15.	Г	1
16.	Г	1
17.	Б	1
18.	Г	1
19.	В	1
20.	Б	1
21.	Г	1
22.	В	1
23.	А	1
24.	Б	1
25.	Г	1
26.	Г	1
27.	А	1
28.	В	1
29.	В	1
30.	Г	1

**31. Католицизъм – 1 точка**

**32. Австрия – 3 точки**

**33. Коприненотекстилна промишленост – 2 точки**

**34. Иглолистен растителен пояс – 3 точки**

**35. 1. Североизточен регион – зърнопроизводство – 1 точка; 2. Югозападен регион – ранно зеленчукопроизводство – 1 точка; 3. Южен централен регион – етерично-маслодайни култури – 1 точка**

**36. Видин – 3 точки**

**37. Практическа задача по *география на света* – 10 точки**

**1. Ватикана**

**2. Монако**

**3. Андора**

**4. Сан Марино**

**5. Лихтенщайн**

**6. Люксембург**

**7. Малта**

**8. Беларус**

**9. Украйна**

**10. Русия**

**38. Практическа задача по *география на България* – 15 точки**

**1. Разград**

**2. Видин**

**3. Девня**

**4. Дупница**

**5. Бургас**

**6. Козлодуй**

**7. София**

**8. Перник**

**9. Сливен**

**10. Пловдив**

**11. Благоевград**

**12. Габрово**

**13. Хасково**

**14. Ямбол**

**15. Русе**

**Писмена разработка върху география на България – 30 точки**

**Характеристика на Североизточен регион**

**А) Обща характеристика – 3 точки**

**Б) Първичен сектор – 8 точки**

**В) Вторичен сектор – 8 точки**

**Г) Третичен сектор – 8 точки**

**Д) Проблеми и перспективи на развитие на региона – 3 точки**