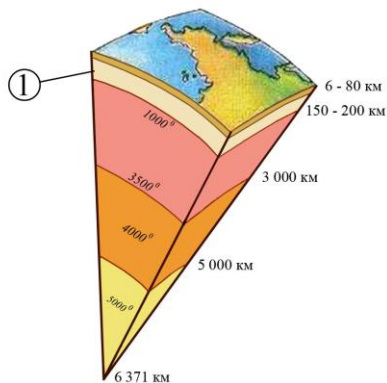


ДЪРЖАВЕН ЗРЕЛОСТЕН ИЗПИТ ПО
ГЕОГРАФИЯ И ИКОНОМИКА

28 май 2015 г. – Вариант 2

Отговорите на задачите от 1. до 30. вкл. отбелязвайте в листа за отговори!

1. Коя част от вътрешния строеж на Земята е означен с цифра 1 на схемата?



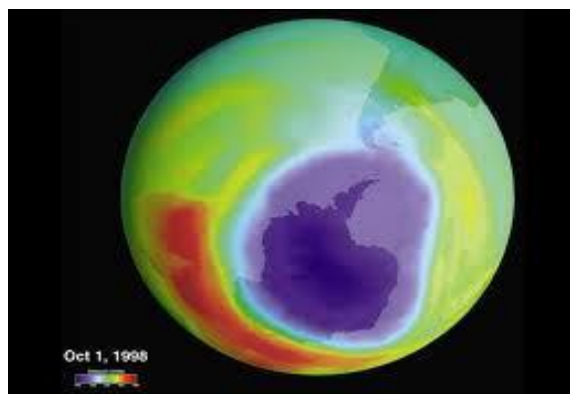
- А) земна кора
- Б) астеносфера
- В) горна мантия
- Г) граница на Гутенберг

2. Коя от посочените геоложки структури е резултат от разломните тектонски движения?

- А) антиклинала
- Б) флексура
- В) синклинала
- Г) хорст

3. За кой глобален екологичен проблем се отнася снимката?

- А) озонова дупка
- Б) обезлесяване
- В) киселинни дъждове
- Г) опустиняване



4. Общото между слънчевата енергия и енергията на вятъра е, че са:

- А) възобновяеми изчерпаеми природни ресурси
- Б) неизчерпаеми природни ресурси
- В) невъзобновяеми изчерпаеми природни ресурси
- Г) минерално-суровинни природни ресурси

5. С коя от структурите на населението е свързано проявлението на демографския проблем в Европа?

- А) полова
- Б) расова
- В) религиозна
- Г) възрастова

6. В коя от посочените двойки „държава – езикова група” има несъответствие?

- А) Полша – славянска езикова група
- Б) Испания – романска езикова група
- В) Дания – германска езикова група
- Г) Унгария – славянска езикова група

7. Основните движещи сили при пазарното стопанство са:

- А) пазарите, конкуренцията, качеството и цената на стоките и услугите
- Б) работната сила, производственият процес, транспортната инфраструктура
- В) суровините, технологиите, финансовите институции
- Г) формата на собственост, условията на труд, квалификацията на заетите лица

8. Коя руда се използва като суровина за черната металургия?

- А) калаена
- Б) алуминиева
- В) манганова
- Г) медна

9. Коя от посочените характеристики за Япония НЕ е вярна?

- А) голяма средна гъстота на населението
- Б) висока сеизмичност
- В) нисък естествен прираст
- Г) богати и разнообразни находища на минерални ресурси

10. За кой географски регион в света се отнася следната характеристика:

„Регионът обхваща 38 държави, част от които са островни. Обособен е въз основа на езиков принцип. Страните в него извоюват своята независимост още през XIX век. Световен производител на банани, кафе и захарна тръстика.”

- А) Северноамерикански
- Б) Латиноамерикански
- В) Западноевропейски
- Г) Източноевропейски

11. Кое от посочените твърдения за стопанството на Германия НЕ е вярно?

- А) По БВП е на първо място в Европа.
- Б) Част е от групата на най-развитите икономически страни в света Г-7.
- В) По обем на промишлената продукция е на 4-то място в света.
- Г) В нея липсват мощни транснационални монополи.

12. Правилната двойка „най-северна – най-южна“ крайна точка на България е:

- А) връх Китка, нос Шабла
- Б) връх Тумба, нос Емине
- В) устие на река Искър, връх Радомир
- Г) устие на река Тимок, връх Вейката

13. Кой е мирният договор, според който територията на България се поделя на Княжество България и Източна Румелия?

- А) Берлински договор от 01.07.1878 г.
- Б) Санстефански договор от 03.03.1878 г.
- В) Букурещки договор от 28.07.1913 г.
- Г) Крайовска спогодба от 07.09.1940 г.

14. Посочете правилната последователност на височинните пояси в България с увеличаване на надморската височина:

- | | |
|--------------------------------------|---------------|
| А) среднопланински и високопланински | А) А, Б, В, Г |
| Б) равнинно-хълмист | Б) Б, А, Г, В |
| В) нископланински | В) Г, Б, В, А |
| Г) низинен | Г) В, Г, Б, А |

15. За коя климатична област на България са характерни есенно-зимен максимум на валежите и високи летни температури?

- А) континентално-средиземноморска
- Б) умереноконтинентална
- В) преходноконтинентална
- Г) планинска

16. Към неблагоприятните климатични явления в България НЕ се отнасят:

- А) поледици, засушавания, слани
- Б) градушки, снегонавявания, мокър сняг
- В) късни пролетни и ранни есенни мразове
- Г) валежи, ветрове, атмосферно налягане

17. За коя река в България се отнася географското описание?

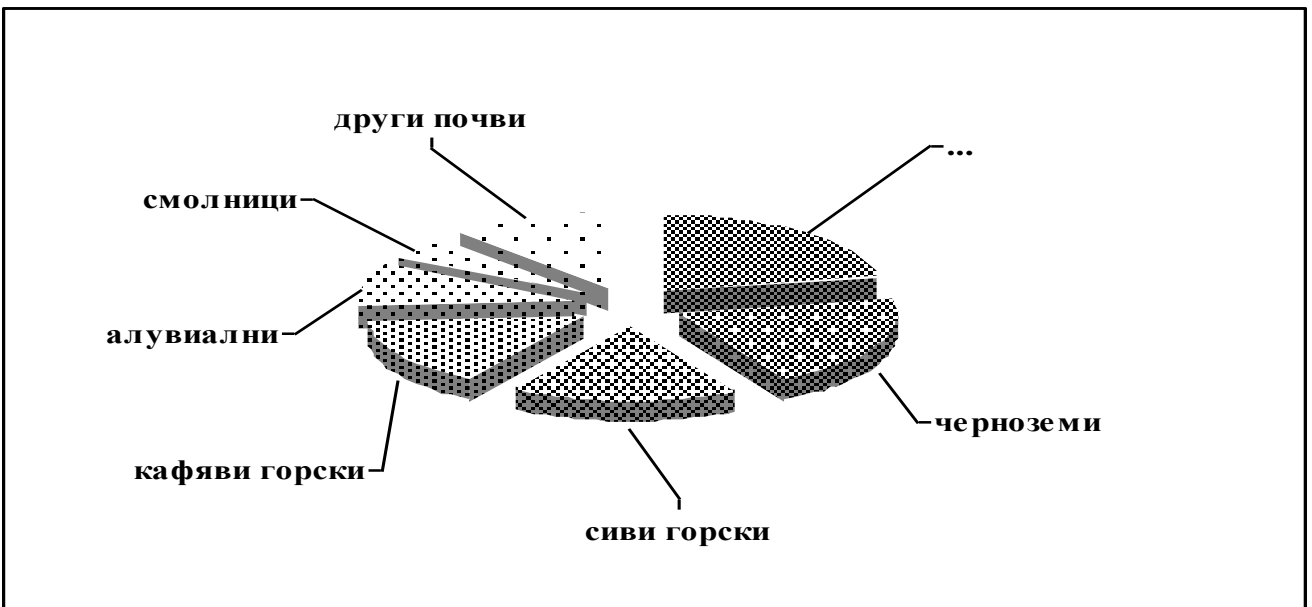
„Реката извира от Рила и се влива в Егейско море. Дължината ѝ на българска територия е 126 км. Протича през Разложката и Гоцеделчевската котловина, между които образува живописния пролом Момина клисура.“

- А) Марица
- Б) Места
- В) Искър
- Г) Струма

18. В коя група всички езера са лагунни по произход?

- А) Шабленско, Варненско, Алепу
- Б) Поморийско, Алепу, Аркутино
- В) Атанасовско, Бургаско, Белославско
- Г) Белославско, Поморийско, Шабленско

19. На диаграмата е представено разпределението на почвите в България. Довършете изречението: „Най-голяма площ в България заемат почви.“



- А) жълтоземите
- Б) рендзините
- В) канелените горски
- Г) планинско-ливадните

20. Коя планина НЕ е част от Осоговско-Беласишката планинска редица?

- А) Влахина
- Б) Малешевска
- В) Славянка
- Г) Огражден

21. В коя планина се намират резерватите „Царичина” и „Боатин”?

- А) Витоша
- Б) Родопи
- В) Пирин
- Г) Стара планина

22. Относителният дял на градското население спрямо общия брой на населението в България по данни от преброяването през 2011 г. е:

- А) 52,5%
- Б) 62,5%
- В) 72,5%
- Г) 82,5%

23. Най-висок относителен дял в структурата на БВП в България се формира в:

- А) първичния сектор
- Б) вторичния сектор
- В) третичния сектор
- Г) първичния и вторичния сектор

24. За коя земеделска култура се отнася следната характеристика?

„Основна зърнено-фуражна култура, която вирее добре върху богати на хумус почви. Отглеждането ѝ е свързано с повече разходи за единица площ, тъй като е окопна култура.”

- А) ечемик
- Б) овес
- В) царевица
- Г) соя

25. В коя група всички градове са центрове на земеделско машиностроене?

- А) Русе, Карлово, Полски Тръмбеш
- Б) Ямбол, Велико Търново, Пловдив
- В) Габрово, Перник, Бургас
- Г) Смолян, Тутракан, Дулово

26. За кой подотрасъл на леката промишленост в България се отнасят следните особености:

„Традиционен отрасъл, свързан е с развитието на животновъдството. Основни центрове на производството са градовете Ловеч, Габрово и София.”

- А) памукотекстилна
- Б) кожаро-кожухарска
- В) шивашка
- Г) трикотажна

27. Велико Търново е разположен на жп линията:

- А) София – Горна Оряховица – Варна
- Б) София – Пловдив – Свиленград
- В) Русе – Стара Загора – Подкова
- Г) София – Перник – Кулата

28. С кой от посочените старопланински проходи се свързват Югозападният и Северозападният регион?

- А) Върбишки
- Б) Петрохански
- В) Троянски
- Г) Шипченски

29. В кой регион са разположени старите български столици Плиска и Велики Преслав?

- А) Североизточен
- Б) Северозападен
- В) Югоизточен
- Г) Северен Централен

30. Коя комбинация от административно-териториални единици съответства на обхвата на Южния централен регион?

- А) 5 области, 57 общини и 750 кметства
- Б) 3 области, 53 общини и 570 кметства
- В) 4 области, 47 общини и 370 кметства
- Г) 6 области, 41 общини и 751 кметства

Отговорите на задачи от 31. до 38. вкл. запишете в свитъка за свободните отговори!

31. В свитъка за свободните отговори напишете наименованието на международната организация, включваща специализирани организации, емблемите на които са представени на изображенията.

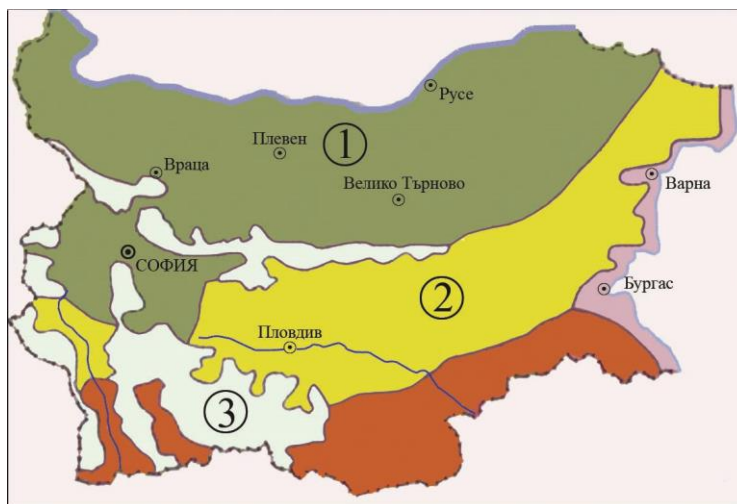


32. В свитъка за свободните отговори напишете какво по произход е най-дълбокото езеро на Земята – Байкал.

33. В свитъка за свободните отговори допишете пропуснатото в текста:

„Страните с най-високо развита пазарна икономика и значителен финансово-икономически и научно-технически потенциал, които определят тенденциите в съвременното световно стопанство членуват в групата на Г-7. Те са: САЩ, Япония, Германия, Франция, Италия, Великобритания и”

34. В свитъка за свободните отговори напишете имената на климатичните области в България, които са обозначени с цифри на картограмата.



35. На снимките са представени обекти от градове в България.

В свитъка за свободните отговори срещу цифри 1, 2 и 3 вкл. поставете буквения код на изображението, така че да се получи съответствие.

Градове	Обекти
1. Пловдив	
2. Велико Търново	
3. Плевен	



А

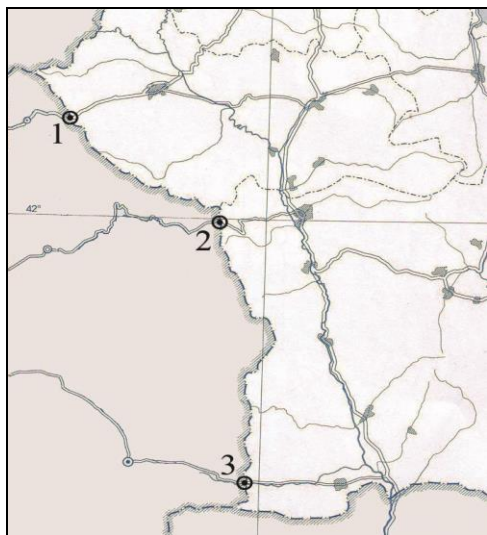


Б



В

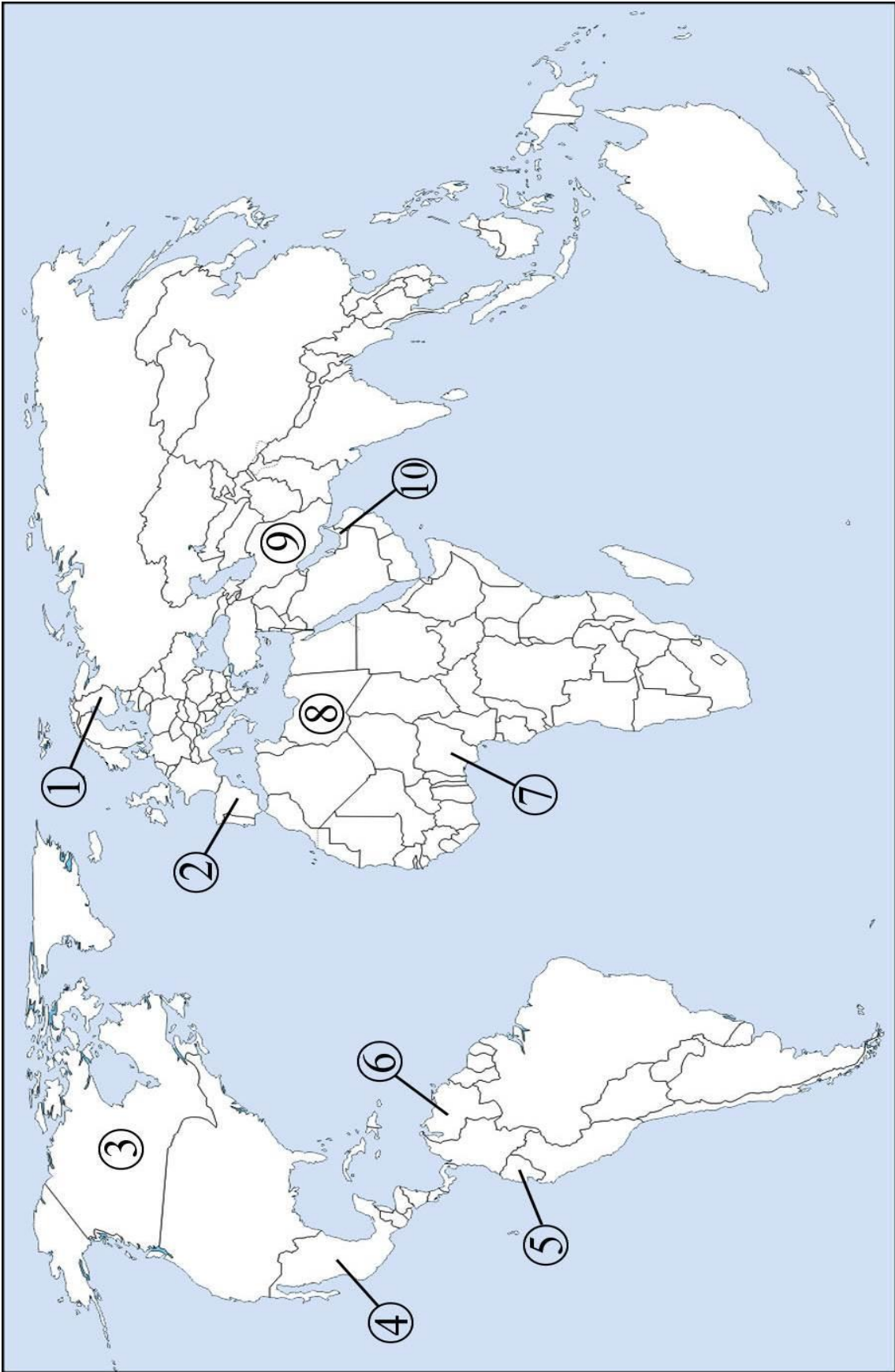
36. В свитъка за свободните отговори напишете наименованията на ГКШ между България и Македония, които са обозначени с цифри на картосхемата.



На практическите задачи 37. и 38. вкл. отговорете в свитъка за свободните отговори!


37. Практическа задача по география на света

В свитъка за свободните отговори срещу номера 1 и 2 напишете страните членки на Европейския съюз, срещу номера 3 и 4 – страните членки на НАФТА, а срещу номера от 5 до 10 вкл. – страните членки на ОПЕК.



38. Практическа задача по география на България

В свитъка за свободните отговори срещу номера от 1 до 5 вкл. напишете имената на обозначените планини, срещу номера от 6 до 8 – имената на планинските туристически курорти, а срещу номера от 9 до 15 вкл. – най-големите градове в България.



Писмената разработка напишете в свитъка за свободните отговори на предвиденото за това място!

Характеристика на Пирин и долината на река Места

А) Географско положение и граници

Б) Оценка на природните условия и ресурси:

- Релеф и морфографски особености
- Полезни изкопаеми
- Климат и води
- Почви, растителност и животински свят

В) Стопанска оценка и проблеми

МИНИСТЕРСТВО НА ОБРАЗОВАНИЕТ И НАУКАТА
ДЪРЖАВЕН ЗРЕЛОСТЕН ИЗПИТ ПО
ГЕОГРАФИЯ И ИКОНОМИКА

28 май 2015 г.

ВАРИАНТ № 2

Ключ с верните отговори

Въпрос №	Верен отговор	Брой точки
1.	Б	1
2.	Г	1
3.	А	1
4.	Б	1
5.	Г	1
6.	Г	1
7.	А	1
8.	В	1
9.	Г	1
10.	Б	1
11.	Г	1
12.	Г	1
13.	А	1
14.	В	1
15.	А	1
16.	Г	1
17.	Б	1
18.	Б	1
19.	В	1
20.	В	1
21.	Г	1
22.	В	1
23.	В	1
24.	В	1
25.	А	1
26.	Б	1
27.	В	1
28.	Б	1
29.	А	1
30.	А	1

31. Организация на обединените нации (ООН) – 1 точка
32. тектонско езеро – 3 точки
33. Канада – 2 точки
34. 1. умереноконтинентална – 1 точка; 2. преходна (преходноконтинентална) – 1 точка;
3. планинска – 1 точка
35. 1. Пловдив – Б – 1 точка;
2. Велико Търново – В – 1 точка;
3. Плевен – А – 1 точка
36. 1. Гюешево, 2. Логодаж и 3. Златарево – 3 точки
37. Практическа задача по *география на света* – 10 точки

- | | |
|--------------|--------------------------------|
| 1. Финландия | 6. Венесуела |
| 2. Испания | 7. Нигерия |
| 3. Канада | 8. Либия |
| 4. Мексико | 9. Иран |
| 5. Еквадор | 10. Обединени арабски емирства |

38. Практическа задача по *география на България* – 15 точки

- | | |
|-------------------------|------------------|
| 1. Осоговска
планина | 8. Пампорово |
| 2. Беласица | 9. София |
| 3. Източни Родопи | 10. Пловдив |
| 4. Сакар | 11. Варна |
| 5. Странджа | 12. Бургас |
| 6. Боровец | 13. Русе |
| 7. Банско | 14. Стара Загора |
| | 15. Плевен |

Писмена разработка върху география на България – 30 точки

Характеристика на Пирин и долината на река Места

А) Географско положение и граници – 7 точки

Б) Природна среда: – 20 точки

- Релеф и морфографски особености
- Полезни изкопаеми
- Климат и води
- Почви, растителност и животински свят

В) Стопанска оценка и проблеми – 3 точки