

**МИНИСТЕРСТВО НА ОБРАЗОВАНИЕТО, МЛАДЕЖТА И НАУКАТА**  
ЦЕНТЪР ЗА КОНТРОЛ И ОЦЕНКА НА КАЧЕСТВОТО НА УЧИЛИЩНОТО ОБРАЗОВАНИЕ

№ в клас _____	трите имена _____	М Ж Б Т Р Д	пол _____	(език, на който най-често се говори в семейството)
----------------	-------------------	-------------	-----------	--

**ВЪНШНО ОЦЕНЯВАНЕ ПО КУЛТУРНО-ОБРАЗОВАТЕЛНА ОБЛАСТ**  
**„ОБЩЕСТВЕНИ НАУКИ, ГРАЖДАНСКО ОБРАЗОВАНИЕ И РЕЛИГИЯ” – VII клас**

**ГЕОГРАФИЯ И ИКОНОМИКА**

**1. Към коя група източници на географска информация се отнася таблицата?**

- А) текстови
- Б) графични
- В) статистически
- Г) картографски

Държава	Средна възраст на населението (години)	Средна продължителност на живота (години)
Индия	24.8	68.6
Иран	25.8	70.6
Казахстан	29.1	67.2
Китай	33.2	72.9
Саудитска Арабия	21.4	75.9
Япония	43.5	82.0
<b>Средно за света</b>	<b>28.0</b>	<b>65.8</b>

**2. Протоците Босфор и Дарданели разделят Азия от:**

- А) Африка
- Б) Европа
- В) Северна Америка
- Г) Австралия

**3. Коя характеристика на релефа НЕ се отнася за Азия?**

- А) В Азия се намира най-високата точка на Земята – връх Еверест (Джомолунгма).
- Б) В Азия се намира най-ниската точка на сушата – Мъртво море.
- В) Азия е вторият по надморска височина след Антарктида.
- Г) Азия е най-ниският континент на Земята.

**4. Коя река в Азия има следните характеристики?**

*Извират от Тибетското плато и тече в източна посока. Реката е пълноводна през лятото по време на мусонните дъждове, пренасяйки много наноси. Влива се чрез делта в Жълто море. Наричат я Жълтата река.*

- А) Енисей
- Б) Лена
- В) Хуанхъ
- Г) Ганг

5. Кой представител на животинския свят е характерен за континента Азия?



А)

Б)

В)

Г)

6. Кой от посочените градове в Азия изпълнява важни религиозни функции?

- А) Токио
- Б) Хонконг
- В) Делхи
- Г) Йерусалим

7. Кой от посочените географски проблеми НЕ се отнася за характеристиките на Азия?

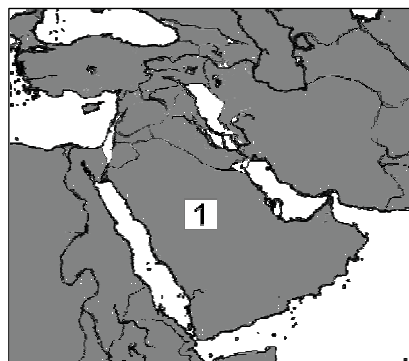
- А) регионални военни конфликти
- Б) бързо увеличаване на населението
- В) големи контрасти в живота на хората
- Г) ниска раждаемост и застаряване на населението

8. Коя от посочените държави е разположена върху два континента, има излаз на четири морета и в обсега на територията ѝ се намират протоците Босфор и Дарданели ?

- А) Турция
- Б) Саудитска Арабия
- В) Казахстан
- Г) Индия

9. Коя азиатска държава е изобразена на картосхемата с цифрата 1?

- А) Турция
- Б) Индия
- В) Казахстан
- Г) Саудитска Арабия



**10. Коя географска характеристика за Индийския океан НЕ е вярна?**

- А) Трети е по площ след Тихия и Атлантическия океан.
- Б) Дълбоко вдадени в северната част на океана са полуостровите Индостан и Камчатка.
- В) Разположен е между Азия, Африка и Австралия.
- Г) Най-големите острови в океана са Мадагаскар и Шри Ланка.

**11. Кое твърдение НЕ се отнася за Австралия?**

- А) най-малкият по площ континент
- Б) релефът е висок и платовиден
- В) бреговата линия е слабо разчленена
- Г) няма съвременно заледяване

**12. Кой важен елемент на релефа на Австралия е изобразен на картосхемата?**

- А) залив Карпентерия
- Б) пустиня Виктория
- В) Голяма вододелна планина
- Г) езеро Еър



**13. Коя е основната причина за неравномерното географско разпределение на населението на Австралия ?**

- А) площта на континента
- Б) бита на местните аборигени
- В) природните условия
- Г) политиката на правителството

**14. Кой от посочените градове е столица на Австралийския съюз?**

- А) Канбера
- Б) Пърт
- В) Сидни
- Г) Мелбърн

**15. Кое океанско течение НЕ е в Тихи океан?**

- А) Гълфстрийм
- Б) Калифорнийско
- В) Перуанско
- Г) Курилско

**16. Какво означава Меланезия?**

- А) много острови
- Б) малки острови
- В) черни острови
- Г) крайбрежни острови

**17. Коя е причината за слабо развитото стопанство на страните от Океания?**

- А) отдалеченост от световните пазари
- Б) голямо богатство от природни ресурси
- В) голям брой висококвалифицирани специалисти
- Г) еднообразие на релефа

**18. Коя от характеристиките НЕ се отнася за континента Антарктида?**

- А) Разположен е около Северния полюс.
- Б) В него се намира най-студеното място на Земята.
- В) Континентът е царство на пингвините.
- Г) Няма постоянно население.

## ИСТОРИЯ И ЦИВИЛИЗАЦИЯ

**1. Кои промени в живота на праисторическите хора се характеризират като „неолитна революция“?**

- А) изнамирането и добиването на първите метали
- Б) преходът към земеделие и животновъдство
- В) създаването на първите каменни сечива
- Г) откриването на огъня, лъка и стрелата

**2. На коя древна цивилизация принадлежи изображението?**

- А) елинската
- Б) тракийската
- В) египетската
- Г) персийската



**3. Част от законите на кой държавник е представеният текст?**

*„Ако човек, като обвини под клетва друг човек, хвърли върху него подозрение в убийство и не докаже това, обвинителят трябва да бъде убит. Ако човек, като отвори своята вада, допусне по немарливост да бъде наводнена нивата на съседите му, той трябва да отмери храни, колкото са унищожени у съседите му.“*

- А) Перикъл
- Б) Клистен
- В) Соломон
- Г) Хамурапи

**4. В кой древен град били изградени Висящите градини на Семирамида – едно от Седемте чудеса на света?**

- А) Персеполис
- Б) Мемфис
- В) Вавилон
- Г) Акад

5. Кое понятие за историята на евреите е излишно?

- А) трибун
- Б) завет
- В) синагога
- Г) скрижали

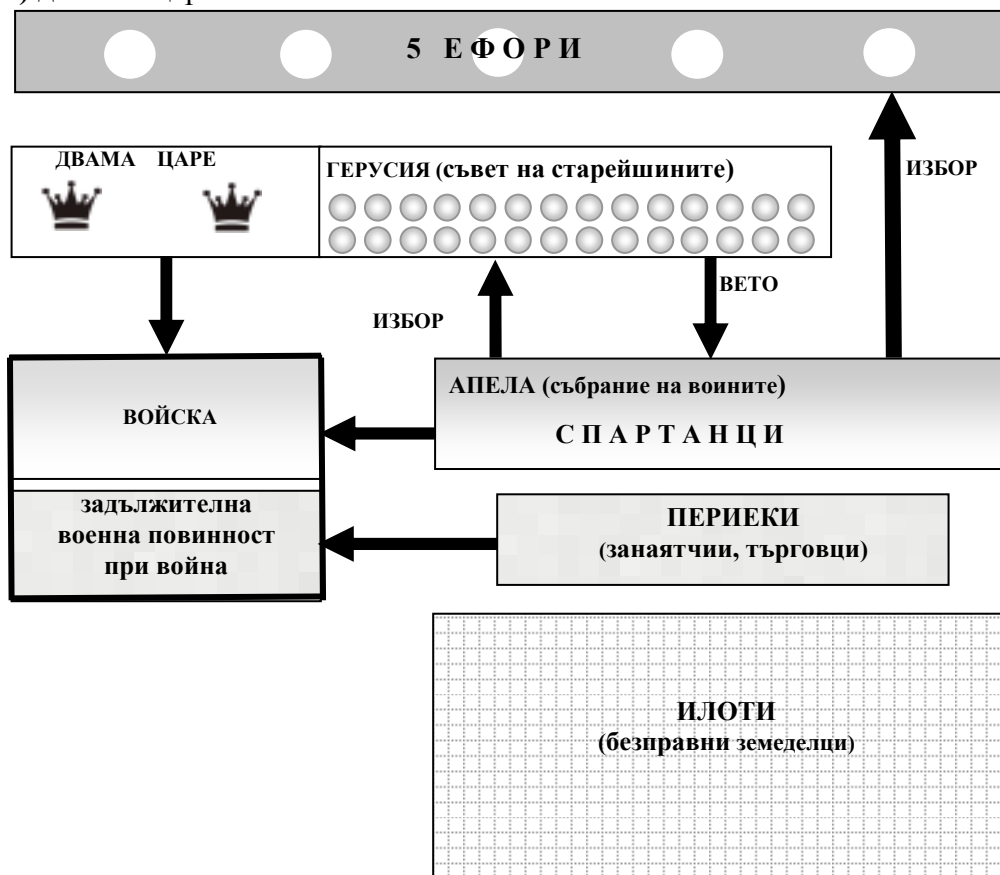
6. За кой съвременен български град, свързан с гръцката колонизация по Черноморското крайбрежие, се отнася следното описание:

*Според античните автори колонията била основана през 611 г. пр.Хр. от преселници от Милет и наречена на бог Аполон.*

- А) Несебър
- Б) Варна
- В) Созопол
- Г) Поморие

7. Според схемата, кой има право да участва в избора на членовете на герусията?

- А) илотите
- Б) периеките
- В) спартанците
- Г) двамата царе



**8. Кое понятие е пропуснато в текста?**

„Природата е създавала някои хора да командват, а други да се подчиняват. В една къща имаи нужда от инструменти. Някои от тях са неодоушевени, а други живи. ....е жив инструмент, поставен под властта на своя господар.”


(Из „ Политика”, Аристотел , IV в. пр. Хр.)

- А) плебеят
- Б) робът
- В) патрицията
- Г) сатрапът

**9. Кое от изображенията е на хоплит?**



А)



Б)



В)



Г)

**10. За коя тракийска гробница се отнася описанието?**

Куполът на гробната камера е украсен със стенописи, които представят тракийско царско семейство на трапезата. Днес тази гробница е под закрилата на ЮНЕСКО.

- А) Свещарската
- Б) Александровската
- В) Староселската
- Г) Казанлъшката

**11. В коя от двойките владетел – държава е допусната грешка?**

- А) Соломон – Царство на евреите
- Б) Дарий I – Персия
- В) Котис I – Асирийско царство
- Г) Тутанхамон – Египет

**12. Отбележете града, който липсва в текста:**

Един от прочутите центрове на елинистическата култура е основаният от Александър III град на р. Нил .....



- А) Пергам
- Б) Александрия
- В) Персеполис
- Г) Екбатана

**13. През 146 г. пр.Хр. римляните превземат Картаген и разрушават града до основи. Кой век съответства на тази година?**

- А) IV в. пр.Хр.
- Б) III в. пр.Хр.
- В) II в. пр.Хр.
- Г) I в. пр. Хр.

**14. В каква последователност са възникнали формите на държавно управление в древния Рим?**

- А) царство, империя, република
- Б) република, царство, империя
- В) империя, царство, република
- Г) царство, република, империя

**15. Кой от изброените военни конфликти се е състоял най-късно?**

- А) Гръко-персийските войни
- Б) Пелопонеската война
- В) Пуническите войни
- Г) Троянската война

**16. Кое е обща характеристика за религията на евреите и християните?**

- А) монотеизмът
- Б) тотемизмът
- В) политеизмът
- Г) пантеонът



**17. Част от културно-историческото наследство на кой народ са предметите от изображението?**

- А) елините
- Б) египтяните
- В) траките
- Г) римляните



**18. Името на кой римски владетел трябва да бъде поставено в началото на текста?**

..... разрешил на християните свободно да изповядват вярата си.  
Преместил столицата на империята от Рим във Византион и нарекъл града на свое име.

- А) Теодосий I
- Б) Константин Велики
- В) Юлий Цезар
- Г) Октавиан Август

**МИНИСТЕРСТВО НА ОБРАЗОВАНИЕТО, МЛАДЕЖТА И НАУКАТА  
ЦЕНТЪР ЗА КОНТРОЛ И ОЦЕНКА НА КАЧЕСТВОТО НА УЧИЛИЩНОТО  
ОБРАЗОВАНИЕ**

**02 юни 2011 г.**

**ВЪНШНО ОЦЕНЯВАНЕ ПО КУЛТУРНО-ОБРАЗОВАТЕЛНА ОБЛАСТ  
„ОБЩЕСТВЕНИ НАУКИ, ГРАЖДАНСКО ОБРАЗОВАНИЕ И РЕЛИГИЯ” – VII клас**

***ГЕОГРАФИЯ И ИКОНОМИКА***

**Ключ с верните отговори**

Всеки верен отговор се оценява с 1 точка.

<b>Въпрос №</b>	<b>Верен отговор</b>
1.	<b>В</b>
2.	<b>Б</b>
3.	<b>Г</b>
4.	<b>В</b>
5.	<b>В</b>
6.	<b>Г</b>
7.	<b>Г</b>
8.	<b>А</b>
9.	<b>Г</b>
10.	<b>Б</b>
11.	<b>Б</b>
12.	<b>В</b>
13.	<b>В</b>
14.	<b>А</b>
15.	<b>А</b>
16.	<b>В</b>
17.	<b>А</b>
18.	<b>А</b>

## **ИСТОРИЯ И ЦИВИЛИЗАЦИЯ**

### **Ключ с верните отговори**

Всеки верен отговор се оценява с 1 точка.

<b>ВЪПРОС №</b>	<b>ОТГОВОР</b>
1.	Б
2.	В
3.	Г
4.	В
5.	А
6.	В
7.	В
8.	Б
9.	А
10.	Г
11.	В
12.	Б
13.	В
14.	Г
15.	В
16.	А
17.	В
18.	Б