

МИНИСТЕРСТВО НА ОБРАЗОВАНИЕТО И НАУКАТА

Център за контрол и оценка на качеството на училищното образование

**ВЪНШНО ОЦЕНЯВАНЕ ПО КУЛТУРНО-ОБРАЗОВАТЕЛНА ОБЛАСТ
„ОБЩЕСТВЕНИ НАУКИ, ГРАЖДАНСКО ОБРАЗОВАНИЕ И РЕЛИГИЯ“**

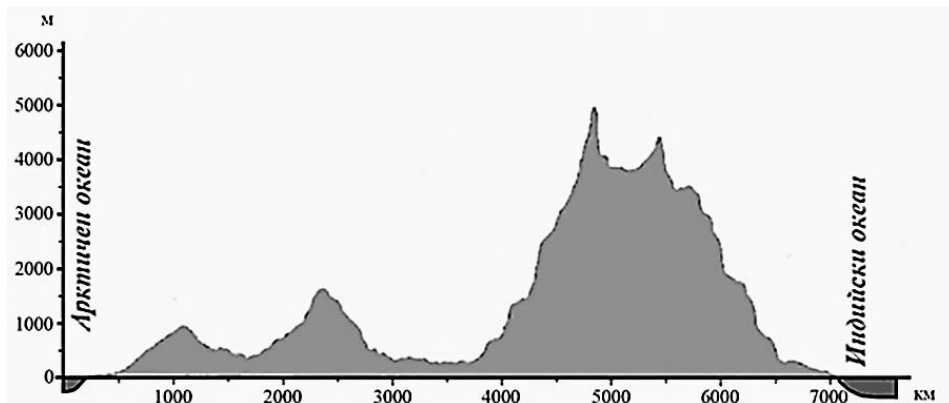
VII клас

ГЕОГРАФИЯ И ИКОНОМИКА

Първа част

1. Какъв е релефът на Азия според даденото изображение?

- А) равнинно-низинен
- Б) преобладаващо хълмист
- В) платовиден
- Г) разнообразен





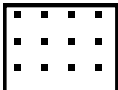

2. Кои ветрове са типични за Югоизточна Азия?

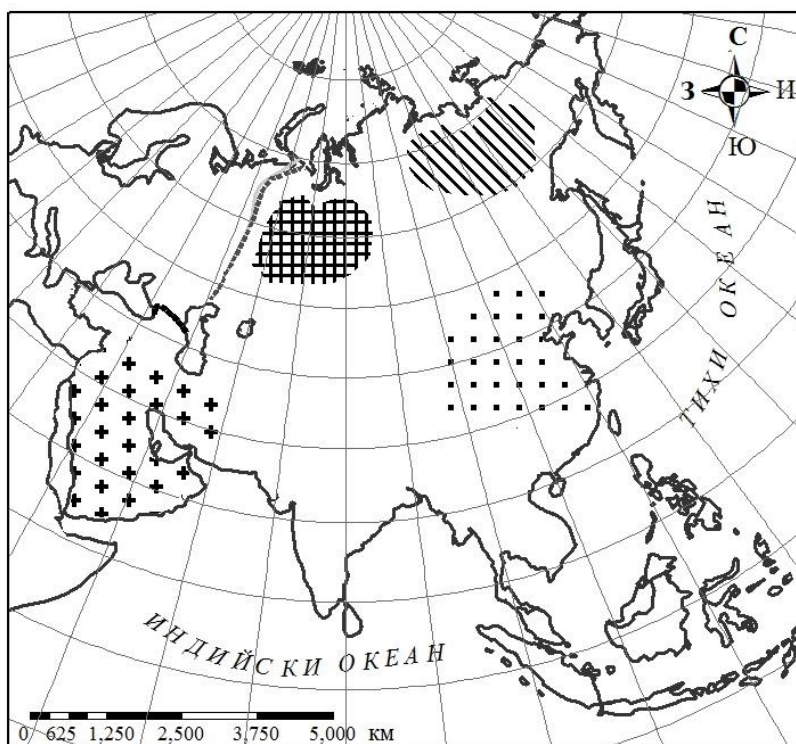
- А) сухите и влажните мусони
- Б) югоизточните пасати
- В) арктичните северни ветрове
- Г) силните западни ветрове

3. Коя особеност на природата се отнася както за континента Азия, така и за континента Австралия?

- А) много планински ледници
- Б) много действащи вулкани
- В) обширни пустини и полупустини
- Г) планини над 3000 м надморска височина

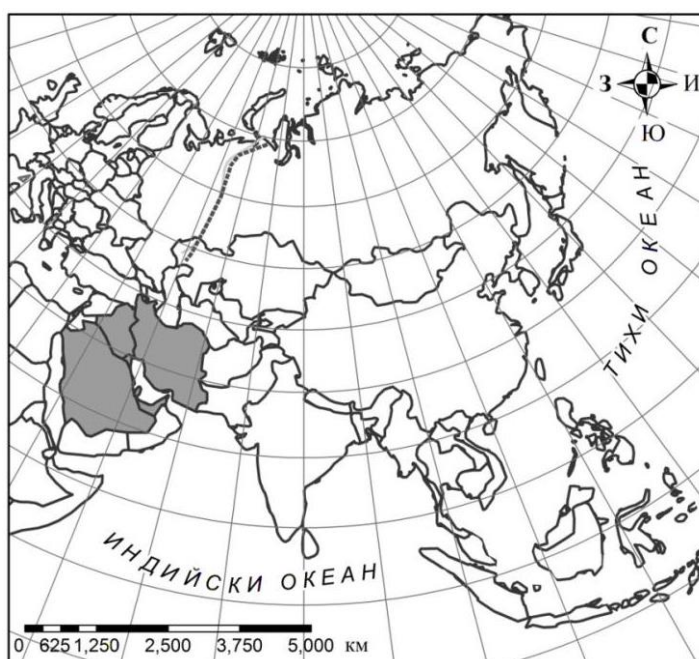
4. С кой знак на картосхемата на Азия е означена територията, най-голям производител на фури в Азия и в света?

- А) 
- Б) 
- В) 
- Г) 



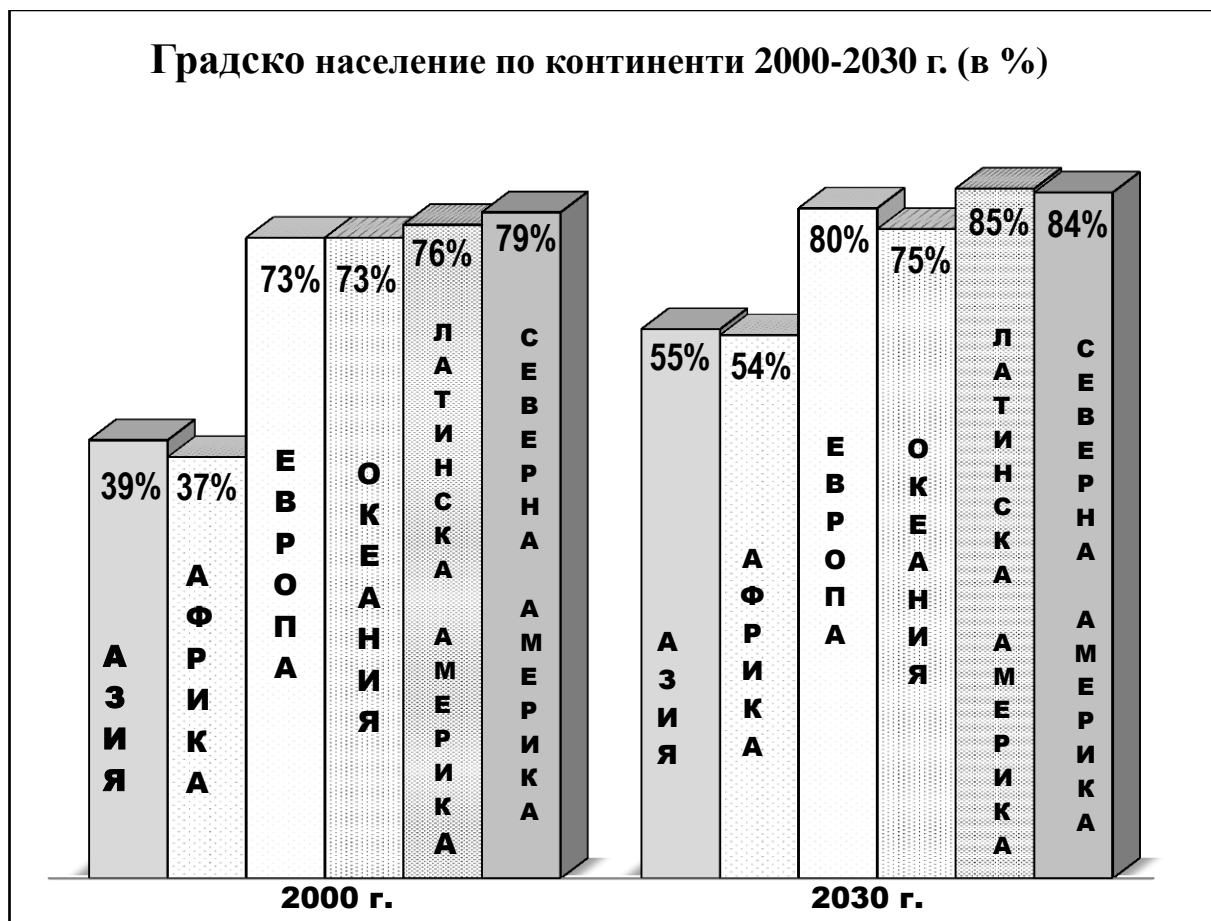
5. В коя международна организация членуват страните, означени с по -тъмен цвят на картосхемата на Азия?

- А) Европейския съюз (ЕС)
- Б) Асоциацията на страните от Югоизточна Азия (АСЕАН)
- В) Организацията на страните износителки на петрол (ОПЕК)
- Г) Организацията на Северноатлантическия договор (НАТО)



6. По стълбчестата диаграма определете кое твърдение за изменението на градското население по континенти е вярно?

- А) Градското население на Азия през 2000 г. има най-малък дял от всички континенти.
- Б) Градското население на Азия ще нараства най-много до 2030 г.
- В) Градското население в Азия през 2030 г. ще има най-малък дял от всички континенти.
- Г) Градското население на всички континенти ще нараства до 2030 г.



Източник: www.un.org

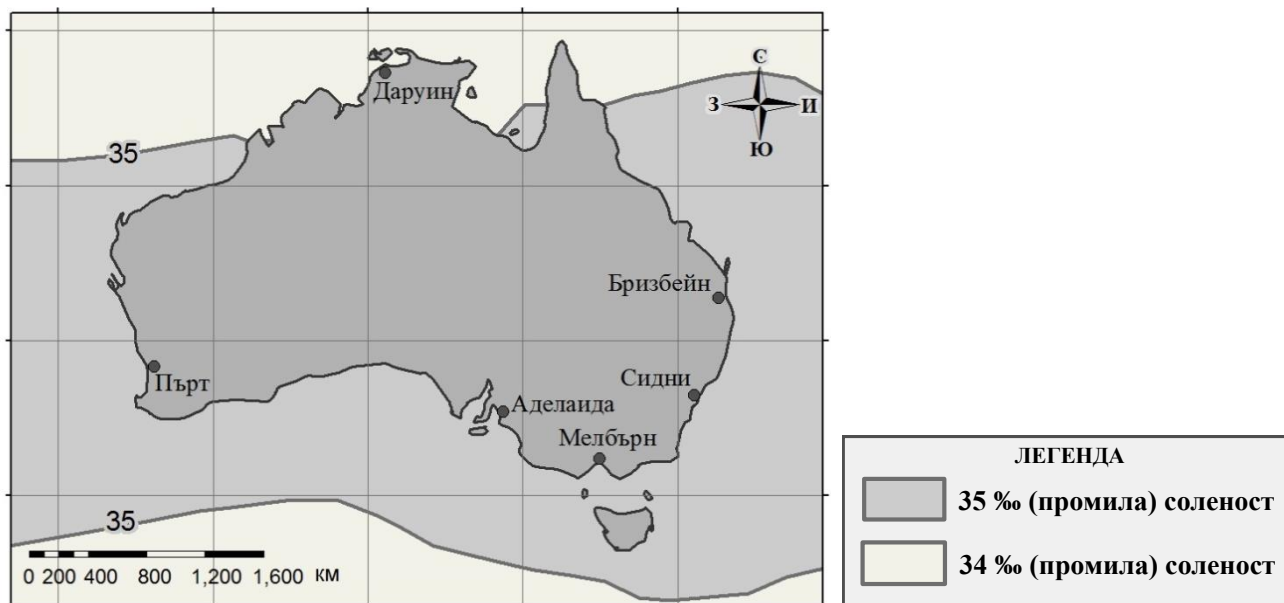
7. Коя природна зона се среща в Азия, но липсва в Австралия?

- А) на влажните вечнозелени гори
- Б) на твърдолистните вечнозелени гори
- В) на пустините и полупустините
- Г) на вечнозелените иглолистни гори

8. По картосхемата определете от кое австралийско крайбрежие е взета проба с най-слабо солена океанска вода?

- А) от южното
- Б) от северното
- В) от източното
- Г) от западното

Соленост на океанската вода около Австралия (в промили)




9. Уникалните животни от илюстрациите, с изключение на едно, обитават континента Австралия. Кое животно е сбъркало своя континент?

- А) от снимка 1
- Б) от снимка 2
- В) от снимка 3
- Г) от снимка 4



1



2



3



4

10. Производството на кой земеделски продукт, чийто водещ производител в света е Австралия, представя дадената кръгова диаграма?

- А) пшеница
- Б) вълна
- В) ориз
- Г) чай



11. Как се променят повърхностните води на Индийския и Тихия океан от Екватора към полюса?

- А) стават по-солени
- Б) стават по-топли
- В) стават по-студени
- Г) не се променят

12. Кой стопански отрасъл се развива най-бързо на островите от Океания в последните години?

- А) отглеждането на камили
- Б) железопътният транспорт
- В) международният туризъм
- Г) добивът на диаманти

13. Кое доказва, че някога Антарктида е имала топъл климат и богата растителност?

- А) наличието на действащи вулкани под ледената покривка
- Б) находищата на въглища в недрата на континента
- В) изтъняването на озоновия слой над Антарктида
- Г) откъсването на айсберги от брега на континента

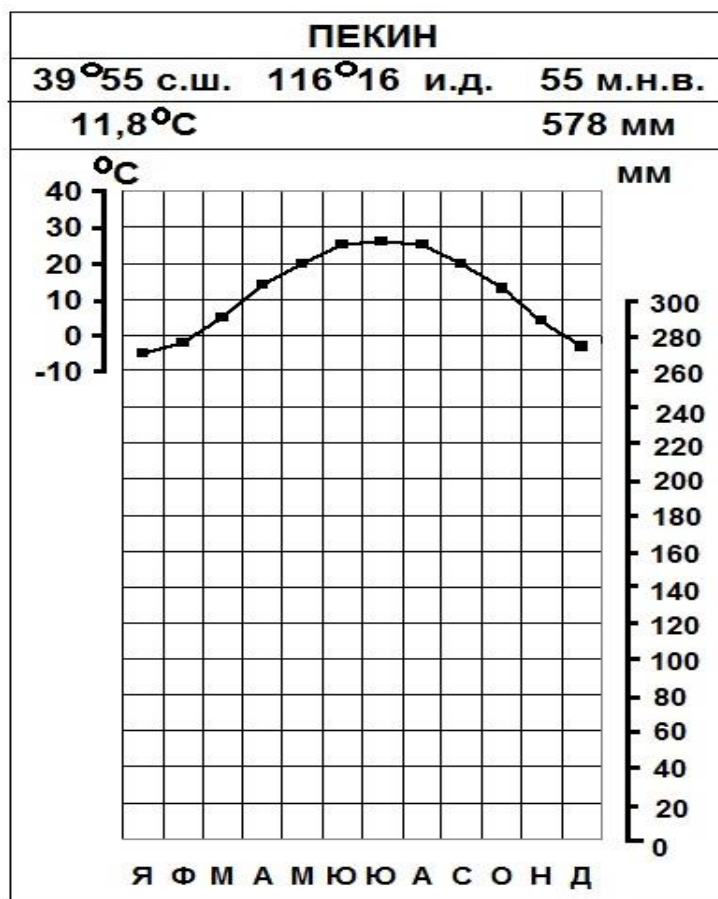
Втора част

14. Разгледайте таблицата с данните за средните месечни температури и валежи в станция Пекин (Бейджин).

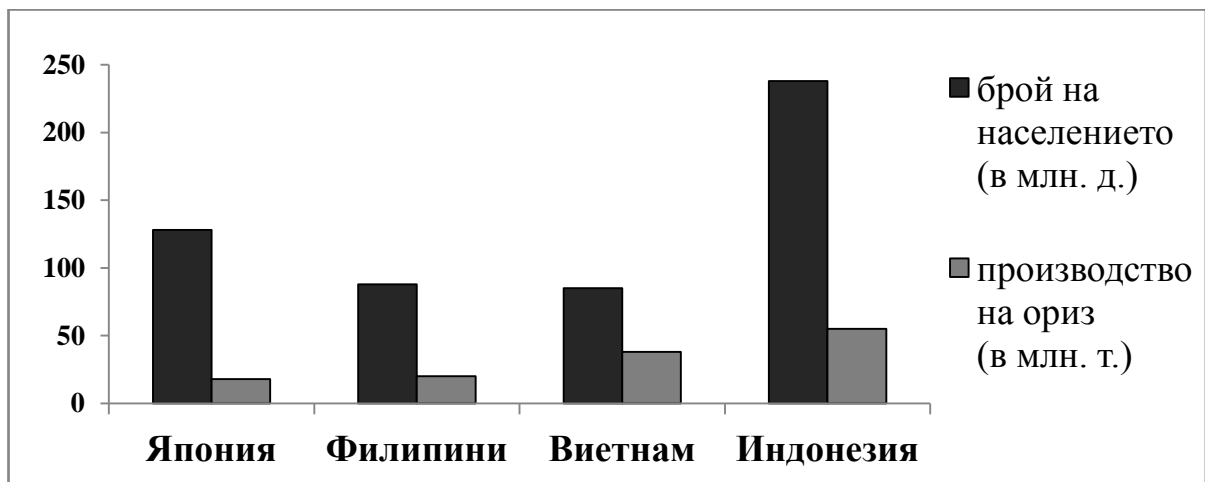
А) Оградете с кръгче в таблицата най-ниската средна месечна температура.

Месеци	Я	Ф	М	А	М	Ю	Ю	А	С	О	Н	Д
Температура (в С°)	-5°	-2°	5°	14°	20°	25°	26°	25°	20°	13°	4°	-3°
Валежи (в мм)	5	5	10	20	40	80	240	140	60	20	10	5

Б) Изберете месеца с най-много валежи и нанесете само неговата стойност върху климатограмата на съответното място. Запълнете стълбчето с химикал.



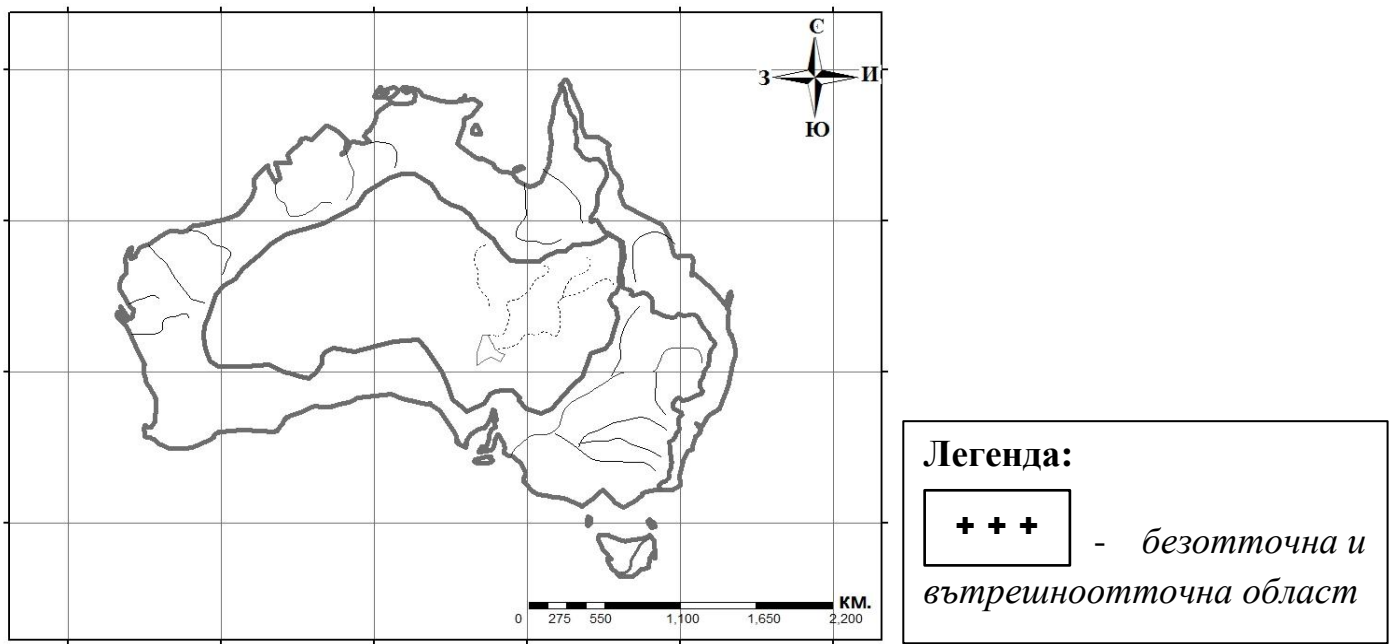
15. Определете и запишете в коя страна се добива най-много ориз според диаграмата.



Отговор: _____

16. Разгледайте внимателно картосхемата на отточните области в Австралия.

А) Определете коя е безотточната област и запълнете територията ѝ върху картосхемата с кръстчета (+ +) както е дадено в легендата.



Б) Запишете в кой океан се влива най-дългата австралийска река, означена на картосхемата ?

Отговор: _____

ИСТОРИЯ И ЦИВИЛИЗАЦИЯ

Част първа

1. Коя дейност е била *непозната* на хората, които са живели през старокаменната епоха?

- А) да използват огъня
- Б) да живеят в пещери
- В) да си осигуряват храна с лов
- Г) да изработват съдове от глина

2. Коя форма на държавно управление е описана в текста?

„Фараонът бил смятан за божество и имал неограничена власт над страната и нейните жители. След смъртта му властта била предавана по наследство. Фараоните от един и същи род, които наследявали управлението, образували династия.“

- А) тирания
- Б) република
- В) монархия
- Г) демокрация

3. През 1595 г. пр.Хр. хетската армия разграбила и опожарила Вавилон. Кой век съответства на тази година?

- А) XIV в. пр.Хр.
- Б) XV в. пр.Хр.
- В) XVI в. пр.Хр.
- Г) XVII в. пр.Хр.

4. Кои понятия и изрази са характерни за юдаизма?

- А) политеизъм; строеж на гробници; двойна корона
- Б) скрижали; избран народ; подчиняване на божията воля
- В) неограничена власт; почит към много богове; пирамиди
- Г) почит към много богове; зикурат; привилегии на жреците

5. Дело на коя древна цивилизация е построяването на храма от снимката?

- А) елинската
- Б) персийската
- В) египетската
- Г) тракийската



6. За моралните ценности на жителите на коя държава се разказва в текста?

„Ликург направил всички равни. И момчетата, и момичетата били възпитавани във военни умения и войнска доблест, във вяроност към отечеството. Нямали развлечения и скъпи предмети. Живеели скромно, но се биели храбро.“

- А) Атина
- Б) Египет
- В) Персия
- Г) Спарта

7. С кои цифри на линията на времето са отбелязани две важни битки от Гръко-персийските войни?



500 г. 490 г. 480 г.

450 г.



V в. пр.Хр.

IV в. пр.Хр.

- А) 3 и 4
- Б) 1 и 2
- В) 2 и 3
- Г) 1 и 4

8. Кои божества са почитани само от древните гърци?

- А) Ра, Амон, Атина, Озирис
- Б) Изида, Тот, Ра, Дионисий
- В) Озирис, Аполон, Тот, Ищар
- Г) Зевс, Арес, Посейдон, Хера

9. Кое име е пропуснато в текста?

„Тракиецът омайвал с възшебната си лира дори камъните и дърветата. Доказал смелостта си по време на експедицията на аргонавтите, той дръзнал да слезе и в царството на Хадес, воден от любовта към съпругата си Евридика.“

- А) Орфей
- Б) Котис
- В) Ситалк
- Г) Тезей

10. Кой е паметникът от изображението, смятан за едно от Седемте чудеса на древния свят?

- А) Храмът на Посейдон
- Б) Александрийският фар
- В) Гробницата на Мавзол
- Г) Родоският колос



11. Коя е основната бойна единица в римската армия?

- А) кавалерия
- Б) легион
- В) фаланга
- Г) манипула


12. Походът на кой известен военачалник е показан на картосхемата?

- А) Ханибал
- Б) Милтиад
- В) Помпей
- Г) Цезар



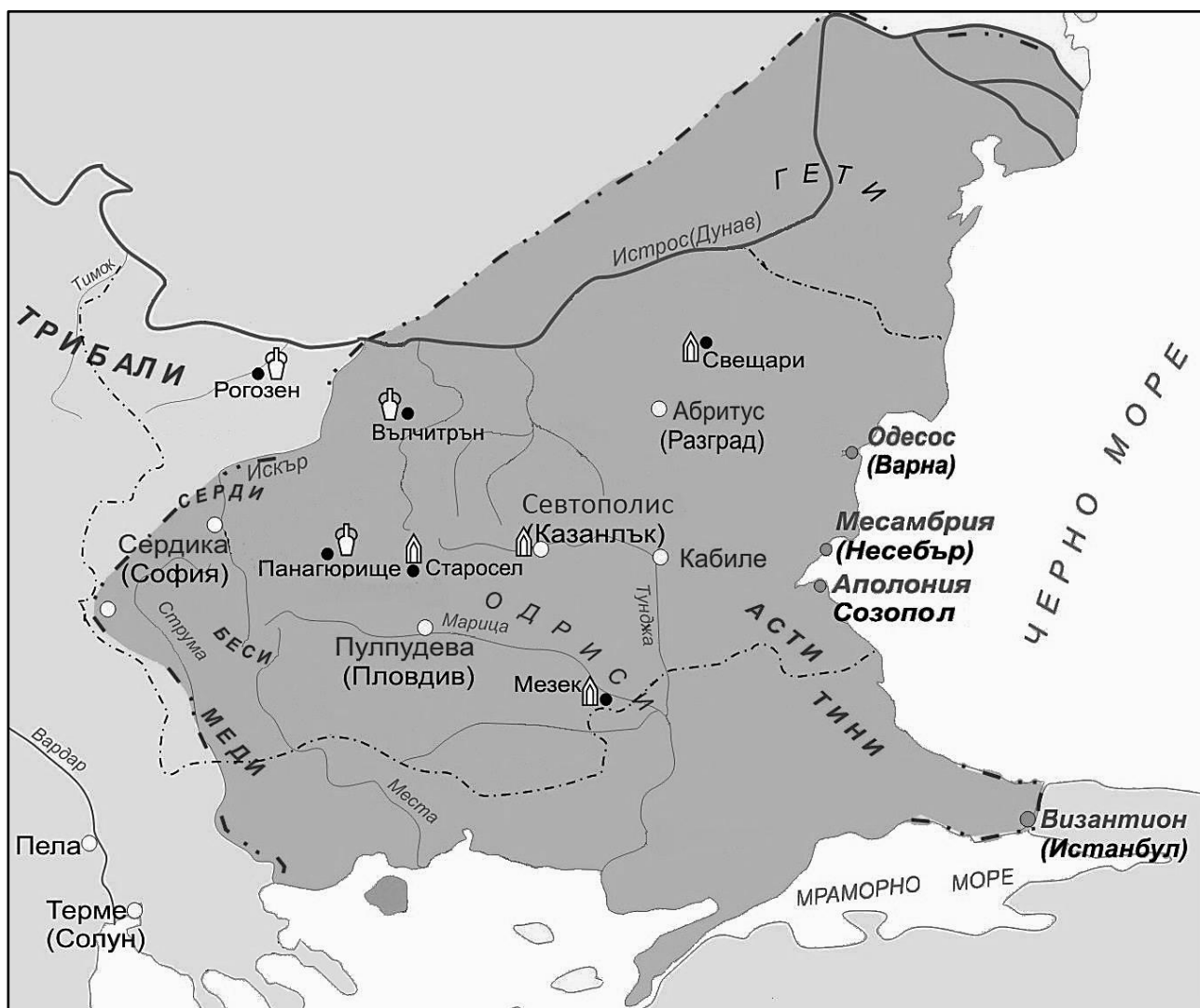
13. Акведукът, показан на снимката, е строително достижение на древните:

- А) римляни
- Б) елини
- В) траки
- Г) шумери



Част втора

14. Разгледайте картата и отговорете на поставените въпроси:



А) Кое тракийско племе създава държавата, показана на картата?

Отговор: _____

Б) Какъв вид археологически находки са отбелязани с този знак  на картата?

Отговор: _____

15. Разгледайте изображенията, които са от различни епохи, но са посветени на едно и също събитие, чието начало е поставено още в древността. Отговорете на въпросите:



А) Кое е това събитие?

Отговор: _____

Б) Кой античен народ приема годината на неговото първо провеждане за начало на своето летоброене?

Отговор: _____

16. Прочетете внимателно откъса и запишете липсващото понятие:

„Споразумението било постигнато, при условие, че плебеите имат свои специални магистрати, които да са свещени и неприкосновени, и които да имат право да им оказват помощ срещу консулите, като никой от патрициите да няма право да заема тази длъжност. По такъв начин били избрани двама “

Из „От основаването на града“, Тит Ливий (I в. пр.Хр. – I в. сл.Хр.)

Отговор: _____

МИНИСТЕРСТВО НА ОБРАЗОВАНИЕТО И НАУКАТА


Център за контрол и оценка на качеството на училищното образование
ВЪНШНО ОЦЕНЯВАНЕ ПО КУЛТУРНО-ОБРАЗОВАТЕЛНА ОБЛАСТ
„ОБЩЕСТВЕНИ НАУКИ, ГРАЖДАНСКО ОБРАЗОВАНИЕ И РЕЛИГИЯ“

VII клас

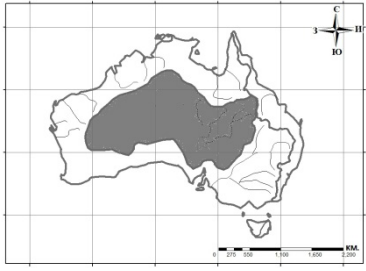
ГЕОГРАФИЯ И ИКОНОМИКА

КЛЮЧ ЗА ВЕРНИТЕ ОТГОВОРИ

Първа част

Задача	Верен отговор	Брой точки
Задача 1	Г) разнообразен	1
Задача 2	А) сухите и влажните мусони	1
Задача 3	В) обширни пустини и полупустини	1
Задача 4	А) 	1
Задача 5	В) Организацията на страните износителки на петрол (ОПЕК)	1
Задача 6	Г) Градското население на всички континенти ще нараства до 2030 г	1
Задача 7	Г) на вечнозелените иглолистни гори	1
Задача 8	Б) от северното	1
Задача 9	Г) от снимка 4	1
Задача 10	Б) вълна	1
Задача 11	В) стават по-студени	1
Задача 12	В) международният туризъм	1
Задача 13	Б) находищата на въглища в недрата на континента	1

Втора част

Задача 14	<p>А) месец януари -5</p> <p>За верен се счита и ако ученикът е оградил буквата на месец януари Я</p> <p>Б) стълбчето на м. юли със стойност 240 мм</p>	1 1
Задача 15	Индонезия	1
Задача 16	<p>А)</p>  <p>Оцветената в по-тъмно територия да бъде запълнена с условен знак + + +</p> <p>Б) Индийски океан</p>	1 1

ИСТОРИЯ И ЦИВИЛИЗАЦИЯ

VII клас

Първа част:

Задача от 1 до 13.

Ключ с верните отговори

ЗАДАЧА №	ОТГОВОР	БРОЙ ТОЧКИ
1.	Г	1
2.	В	1
3.	В	1
4.	Б	1
5.	А	1
6.	Г	1
7.	В	1
8.	Г	1
9.	А	1
10.	Б	1
11.	Б	1
12.	А	1
13.	А	1

Втора част

Задача от 14 до 16.

ЗАДАЧА №	ОТГОВОРИ	БРОЙ ТОЧКИ
14.	А) одрисите Б) съкровища/ тракийски съкровища	2
15.	А) Олимпийските игри/ Олимпиадите Б) елините/ древните гърци/ гърците	2
16.	трибуни/ трибун	1

Максимален брой точки на теста по История и цивилизация: 18