

ДЪРЖАВЕН ЗРЕЛОСТЕН ИЗПИТ ПО
ГЕОГРАФИЯ И ИКОНОМИКА

31 май 2018 г. – Вариант 1

МОДУЛ 1

Време за работа – 60 минути

Отговорите на задачите от 1. до 30. вкл. отбелязвайте в листа за отговори!

1. Коя от географските закономерности е вярна?

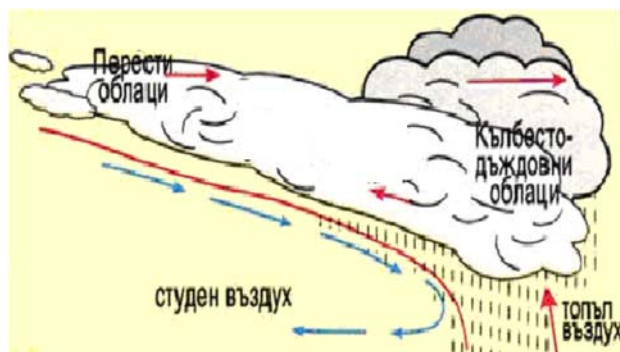
- А) при раздалечаване на литосферните плочи се образуват срединни океански хребети
- Б) в тропосферата температурата се увеличава във височина
- В) океанските течения се образуват под въздействие на Луната
- Г) изригването на вулканите е проява на зоналност

2. Коя форма на релефа НЕ е резултат от взаимодействието между процесите в литосферата и хидросферата?

- А) пролом
- Б) пещера
- В) дюна
- Г) циркус

3. Кое атмосферно явление илюстрира схемата?

- А) циклон
- Б) топъл фронт
- В) студен фронт
- Г) антициклон



4. Общото между енергията на земните недра и енергията на вятъра е, че са:

- А) възобновяеми изчерпаеми природни ресурси
- Б) неизчерпаеми природни ресурси
- В) невъзобновяеми изчерпаеми природни ресурси
- Г) минерално-суровинни природни ресурси

5. Човешките ресурси на страните в света се класифицират по индекса на човешко развитие. Кой от посочените показатели НЕ се отнася към него?

- А) грамотност на населението
- Б) расово-етническа принадлежност
- В) жизнен стандарт
- Г) средна продължителност на живота

6. Страните членки на коя международна организация са изобразени на картосхемата?



- А) ЕС
- Б) ОПЕК
- В) АСЕАН
- Г) НАТО

7. В коя от редиците е допусната грешка?

- А) добив на медна руда – производство на стомана – търговия с метали
- Б) отглеждане на пшеница – производство на брашно – потребление на хляб
- В) отглеждане на памук – производство на тъкани – търговия с платове
- Г) добив на сол – производство на храни – износ на международния пазар

8. Коя група фактори са водещи в условията на преход към пазарно стопанство?

- А) природни
- Б) социално-икономически
- В) научно-технически
- Г) екологични

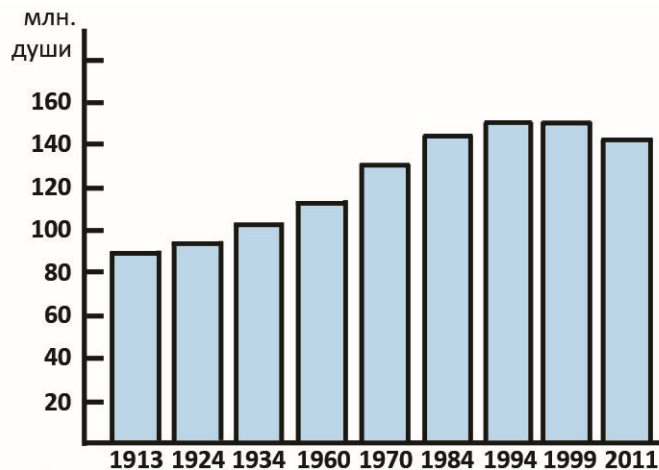
9. Кузнецкият, Канско-Ачинският и Печорският въглищен басейн се намират на територията на:

- А) Русия
- Б) Казахстан
- В) Украйна
- Г) Армения

10. Коя от посочените държави НЕ се отнася към Източноевропейския регион?

- А) Австрия
- Б) Полша
- В) Румъния
- Г) Унгария

11. По диаграмата за изменение на броя на населението в Русия за периода 1913 – 2011 г. определете вярното твърдение.



- А) Населението се увеличава от 1970 до 2011 г.
- Б) Най-голям е броят на населението през 1984 г.
- В) Най-малък е броят на населението през 1924 г.
- Г) Населението намалява в периода 1999 – 2011 г.

12. Северната и южната граница на България се пресичат от транспортни коридори:

- А) № 8 и № 9
- Б) № 9 и № 10
- В) № 10 и № 8
- Г) № 4 и № 9

13. При подписването на кой международен договор от България са отнети Западните покрайнини и територията ѝ възлиза на 103 000 кв.км?

- А) Парижки
- Б) Ньойски
- В) Лондонски
- Г) Санстефански

14. В коя двойка „природна област – форми на релефа“ е допусната грешка?

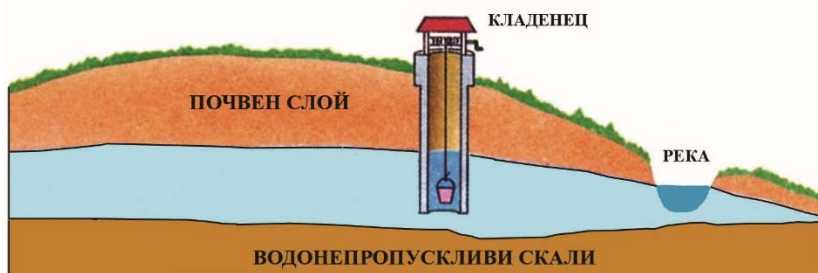
- А) Предбалкан – пещери
- Б) Краище – проломи
- В) Пирин – земни пирамиди
- Г) Стара планина – карлинги

15. Коя двойка селища е разположена в преходноконтиненталната климатична област?

- А) Сандански и Кърджали
- Б) Стара Загора и Нова Загора
- В) Велико Търново и Кнежа
- Г) Смолян и Девин

16. Какъв тип подземни води са показани на схемата?

- А) грунтови
- Б) минерални
- В) карстови
- Г) артезиански



17. В коя двойка НЯМА съответствие между река и отточната област, към която принадлежи?

- А) Камчия – Черноморска
- Б) Струма – Егейска
- В) Марица – Черноморска
- Г) Арда – Егейска

18. По произход Смолянските езера са:

- А) крайречни
- Б) карстови
- В) свлачищни
- Г) тектонски

19. Кое от твърденията НЕ се отнася за Краище?

- А) Простира се на юг от Средногорието.
- Б) Има находища на варовици и кафяви въглища.
- В) Разпространени са черноземни и сиви горски почви
- Г) По-голямата част от областта се отводнява от река Струма.

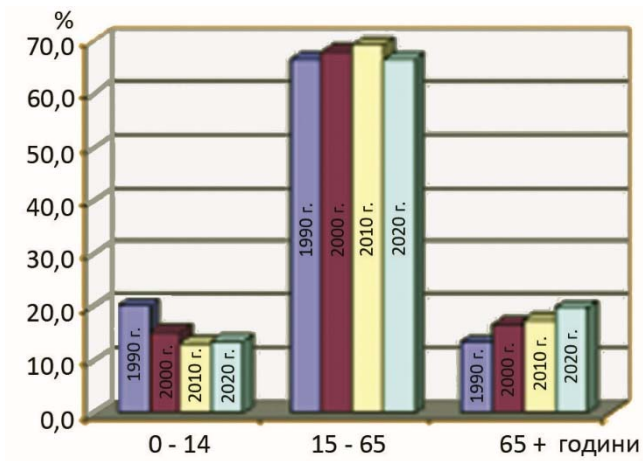
20. Кой почвен тип в България е височинно зонален?

- А) смолници
- Б) черноземни
- В) алувиално-ливадни
- Г) кафяви горски

21. Кое твърдение за растителния свят на България НЕ е вярно?

- А) Страната ни притежава разнообразен и богат растителен свят.
- Б) По поречията на реките Камчия и Велека се срещат лонгозни гори.
- В) Иглолистните гори са най-широко разпространени в Рило-Родопския масив и Витоша.
- Г) Храстите хвойна и клек се срещат под 1000 м надморска височина.

22. По диаграмата определете през коя година е най-благоприятна възрастовата структура на населението в България?



- А) 1990 г.
- Б) 2000 г.
- В) 2010 г.
- Г) 2020 г.

23. По кой показател градовете в България се разделят на промишлени, транспортни и балнеоложки?

- А) произход
- Б) функции
- В) форма на застрояване
- Г) административно устройство

24. Кое от твърденията НЕ е вярно според информацията от таблицата:

Земеделски култури	Площ на земеделските култури (декари)				
	1996 г.	1997 г.	1998 г.	1999 г.	2000 г.
Пшеница	500	620	550	400	140
Ечемик	40	30	20	30	10
Царевица	1667	1853	2000	1000	2000
Домати	224	252	263	256	320
Картофи	1205	1405	1503	1604	1700
Ябълки	74	74	34	34	34
Праскови	42	45	22	22	22
Лозя винени	2107	2200	2200	2200	2200

- А) Най-голяма е площта на лозята през целия период.
- Б) През целия период нарастват площите на пшеницата, царевичката и доматиите.
- В) През целия период нарастват площите на картофите.
- Г) Съществено намаляват площите на прасковите и ябълките.

25. Кой от посочените градове е център на цветната металургия?

- А) Перник
- Б) Бургас
- В) Шумен
- Г) Плевен

26. Центровете на порцеланово-фаянсовата промишленост Каспичан и Нови пазар се намират на територията на:

- А) Северен централен регион
- Б) Северозападен регион
- В) Югоизточен регион
- Г) Североизточен регион

27. С кой от посочените проходи в Стара планина се свързват Северозападният и Южният централен регион?

- А) Петрохански
- Б) Проход на Републиката
- В) Витиня
- Г) Троянски

28. В кой географски регион са разположени низината Побрежие, Севлиевските височини и платото Стражата?

- А) Южен централен
- Б) Югоизточен
- В) Северозападен
- Г) Северен централен

29. С най-голямо значение за Североизточния регион е добивът на:

- А) кафяви въглища и мрамор
- Б) оловно-цинкова руда и гипс
- В) манганова руда и каменна сол
- Г) желязна руда и каолин

30. В кой от посочените географски региони има пет административни области и четири областни центрове?

- А) Северозападен
- Б) Южен централен
- В) Северен централен
- Г) Югозападен

ДЪРЖАВЕН ЗРЕЛОСТЕН ИЗПИТ ПО
ГЕОГРАФИЯ И ИКОНОМИКА

31 май 2018 г. – Вариант 1

МОДУЛ 2

Време за работа – 90 минути

Отговорите на задачи от 31. до 38. вкл. запишете в свитъка за свободните отговори!

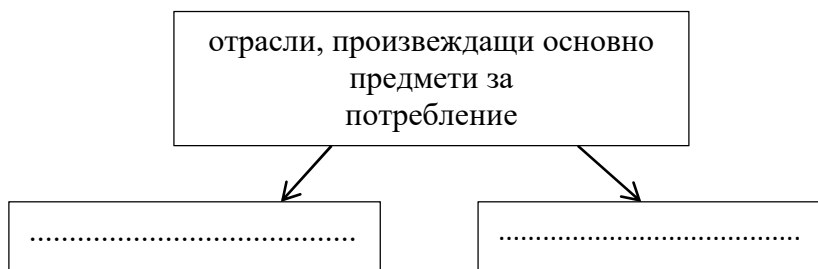
31. В свитъка за свободните отговори напишете наименованието на релефообразуващите сили, в резултат от които е породен природният риск, представен на снимката.



32. В свитъка за свободните отговори напишете от кой тип възпроизводство е страната, изобразена на картосхемата.



33. В свитъка за свободните отговори запишете пропуснатите отрасли.



34. В свитъка за свободните отговори срещу номера от 1 до 3 вкл. поставете дадените ГКПП, така че да се получи съответствие.

ГКПП: Гюешево, Малко Търново, Оряхово

Граница	ГКПП
1. Турция	
2. Румъния	
3. Македония	

35. На снимките са представени обекти от градове в България.

В свитъка за свободните отговори срещу цифри 1, 2 и 3 вкл. поставете буквения код на изображението, така че да се получи съответствие.

Географски регион	Обекти
1. Южен централен	
2. Северозападен	
3. Северен централен	



А



Б



В

36. В свитъка за свободните отговори срещу номера от 1 до 3 вкл. поставете дадените промишлени центрове според производствената им специализация.

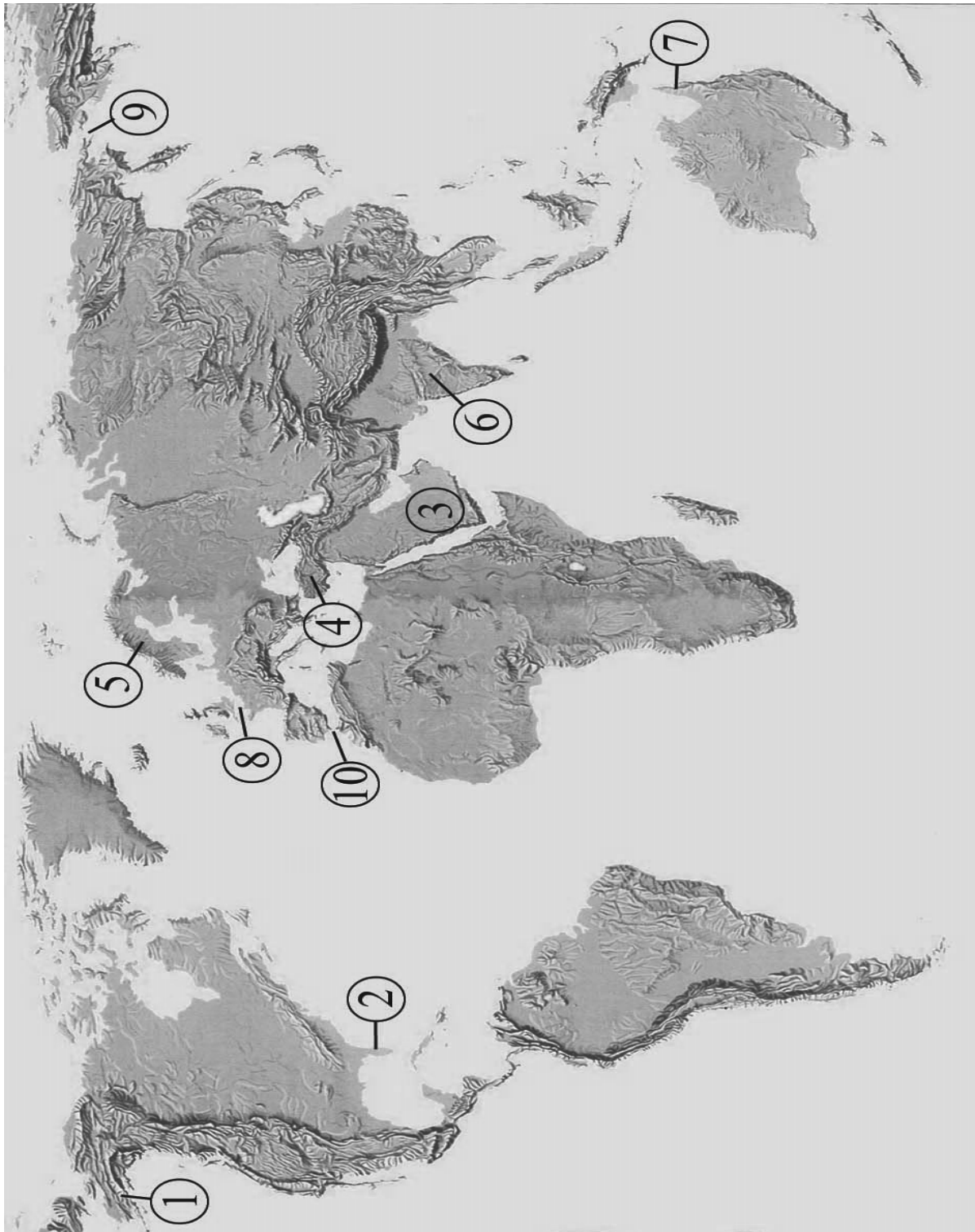
Промислени центрове: Мездра, Горна Оряховица, Добрич

Отрасли на хранително-вкусовата промишленост	Промислени центрове
1. пиво	
2. брашно	
3. захар	

На практическите задачи 37. и 38. вкл. отговорете в свитъка за свободните отговори!

37. Практическа задача по география на света

В свитъка за свободните отговори срещу номера от 1. до 7. вкл. поставете имената на посочените полуострови, а срещу номера от 8. до 10. вкл. посочените протоци.



38. Практическа задача по география на България

В свитъка за свободните отговори срещу цифрите от 1. до 15. напишете имената на планините в България, отбелязани на картосхемата.



ДЪРЖАВЕН ЗРЕЛОСТЕН ИЗПИТ ПО
ГЕОГРАФИЯ И ИКОНОМИКА

31 май 2018 г. – Вариант 1

МОДУЛ 3

Време за работа – 90 минути

Писмената разработка напишете в свитъка за свободните отговори на предвиденото за това място!

Енергетика на България

- А) Същност, значение и особености
- Б) Фактори за развитие и териториално разположение
- В) Отраслова и териториална структура
 - добив на суровини
 - производство на електроенергия и топлоенергия (ТЕЦ, ВЕЦ и АЕЦ)
 - трансформация и пренос до потребителя
- Г) Проблеми и тенденции на енергетиката

МИНИСТЕРСТВО НА ОБРАЗОВАНИЕТ И НАУКАТА
ДЪРЖАВЕН ЗРЕЛОСТЕН ИЗПИТ ПО
ГЕОГРАФИЯ И ИКОНОМИКА

31 май 2018 г.

ВАРИАНТ № 1

Ключ с верните отговори

Въпрос №	Верен отговор	Брой точки
1.	А	1
2.	В	1
3.	В	1
4.	Б	1
5.	Б	1
6.	В	1
7.	А	1
8.	Б	1
9.	А	1
10.	А	1
11.	Г	1
12.	Г	1
13.	Б	1
14.	Г	1
15.	Б	1
16.	А	1
17.	В	1
18.	В	1
19.	В	1
20.	Г	1
21.	Г	1
22.	А	1
23.	Б	1
24.	Б	1
25.	В	1
26.	Г	1
27.	Г	1
28.	Г	1
29.	В	1
30.	Г	1

31. ендогенни (вътрешни) релефообразуващи сили – 1 точка
32. II (втори) тип възпроизводство – 3 точки
33. лека промишленост; хранително-вкусова промишленост – 2 точки
34. 1. Турция – Малко Търново – 1 точка; 2. Румъния – Оряхово – 1 точка; 3. Македония – Гюешево – 1 точка
35. 1. Южен централен регион – Б – 1 точка; 2. Северозападен регион – А – 1 точка; 3. Северен централен регион – В – 1 точка
36. 1. пиво – Мездра – 1 точка; 2. брашно – Добрич – 1 точка; 3. захар – Горна Оряховица – 1 точка

37. Практическа задача по *география на света* – 10 точки

- | | |
|-----------------|-------------------------|
| 1. Аляска | 6. Индостан |
| 2. Флорида | 7. Кейп Йорк |
| 3. Арабия | 8. Ла Манш |
| 4. Мала Азия | 9. Берингов проток |
| 5. Скандинавски | 10. Гибралтарски проток |

38. Практическа задача по *география на България* – 15 точки

- | | |
|-------------------|----------------|
| 1. Стара планина | 9. Странджа |
| 2. Средна гора | 10. Осоговска |
| 3. Витоша | 11. Влахина |
| 4. Рила | 12. Малешевска |
| 5. Пирин | 13. Огражден |
| 6. Западни Родопи | 14. Беласица |
| 7. Източни Родопи | 15. Славянка |
| 8. Сакар | |

Писмена разработка върху география на България – 30 точки

Енергетика на България

А) Същност, значение и особености – 4 точки

Б) Фактори за развитие и териториално разположение – 3 точки

В) Отраслова и териториална структура – 20 точки

- добив на суровини
- производство на електро-и топлоенергия (ТЕЦ, ВЕЦ и АЕЦ)
- трансформация и пренос до потребителя

Г) Проблеми и тенденции на енергетиката – 3 точки