

МИНИСТЕРСТВО НА ОБРАЗОВАНИЕТО И НАУКАТА

ДЪРЖАВЕН ЗРЕЛОСТЕН ИЗПИТ ПО

ГЕОГРАФИЯ И ИКОНОМИКА

30 май 2019 г. – Вариант 1

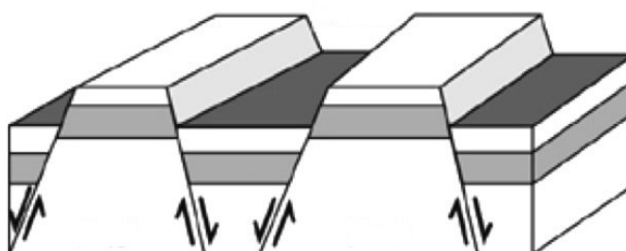
МОДУЛ 1

Време за работа – 60 минути

Отговорите на задачите от 1. до 30. вкл. отбелязвайте в листа за отговори!

1. Кои структури, резултат от ендегенните релефообразуващи процеси, са представени на схемата?

- А) антиклинала и синклинала
- Б) разлом и флексура
- В) хорст и грабен
- Г) разсед и отсед



2. В континента Европа липсва:

- А) природна зона на саваните
- Б) природна зона на степите
- В) природна зона на тайгата
- Г) природна зона на тундрата

3. При кой процес, съпроводен с мъгли и слани в котловините, температурата на въздуха във височина се повишава?

- А) кондензация
- Б) изотермия
- В) инверсия
- Г) сублимация

4. Коя от посочените планински вериги е с най-големи запаси на фосфорити?

- А) Алпи
- Б) Анди
- В) Апалачи
- Г) Атласки планини

5. На кой ред всички страни се характеризират с втори тип възпроизводство – демографски взрив?

- А) Пакистан, Судан, Великобритания
- Б) Аржентина, Танзания, Германия
- В) Нигерия, Боливия, Индия
- Г) Етиопия, Италия, Япония

6. Коя от посочените страни е сред шестте основателки на Европейския съюз?

- А) Австрия
- Б) Чехия
- В) Белгия
- Г) Ирландия

7. В коя група са включени подотрасли от първичен, вторичен и третичен сектор на стопанството?

- А) зеленчукопроизводство, овощарство, бубарство
- Б) хидроенергетика, килимарство, самолетостроене
- В) речен транспорт, образование, външна търговия
- Г) птицевъдство, металургия, международен туризъм

8. Кое твърдение НЕ се отнася за пазарното стопанство?

- А) Търсенето и предлагането на стоките се определят от пазара.
- Б) Има свободно движение на стоки и капитали.
- В) Има свободна конкуренция между производителите.
- Г) Държавата регулира цените на стоките.

9. Коя от посочените двойки държави има обща граница?

- А) Люксембург – Австрия
- Б) Швейцария – Белгия
- В) Италия – Словения
- Г) Франция – Нидерландия

10. Земеделието на кой географски регион илюстрират снимките?

- А) Източна Европа
- Б) Югозападна Азия
- В) Югоизточна и Южна Азия
- Г) Централна и Южна Америка



11. За кой географски регион в света се отнася следната характеристика:

„Страните в региона разполагат със значителни минерални ресурси. Населението се отличава с висока раждаемост и положителен естествен прираст, като преобладава това в трудоспособна и подтрудоспособна възраст. Стопанството се основава на добивната промишленост и най-вече на развитието на някои растениевъдни отрасли.“

- А) Западноевропейски
- Б) Източноевропейски
- В) Северноамерикански
- Г) Латиноамерикански

12. Коя от съвременните български граници НЕ се променя според Ньойския мирен договор от 1919 г.?

- А) със Сърбия
- Б) със Северна Македония
- В) с Гърция
- Г) с Румъния

13. Кой трансевропейски транспортен коридор свързва Адриатическо и Черно море?

- А) № 4
- Б) № 7
- В) № 8
- Г) № 9

14. Коя от посочените форми на релефа НЕ е резултат от екзарационните процеси?

- А) трогова долина
- Б) циркус
- В) карлинг
- Г) пещера

15. Кой от посочените видове въглища се характеризира с най-значителни запаси и има най-голямо приложение в стопанството на България?

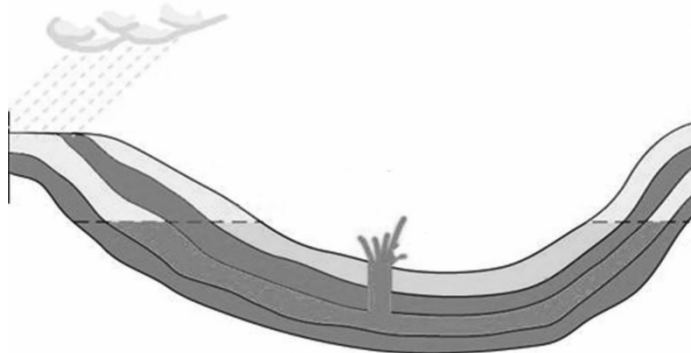
- А) лигнитни
- Б) кафяви
- В) черни
- Г) антрацитни

16. Кой южен, топъл и поривист вятър е характерен за северните склонове на Витоша, Стара планина и Родопите?

- А) фьон
- Б) борà
- В) бриз
- Г) планинско-долинен

17. Какъв тип подземни води са показани на схемата?

- А) грунтови
- Б) минерални
- В) карстови
- Г) артезиански



18. Кое от посочените езера НЕ е ледниково?

- А) Рабишко
- Б) Окото
- В) Поповото езеро
- Г) Бъбрека

19. Кои от посочените почвени типове в България се срещат само в Северната почвено-географска зона?

- А) канелени горски, смолници
- Б) сиви горски, черноземи
- В) канелени горски, черноземи
- Г) сиви горски, смолници

20. В кои планини са разположени резерватите „Бистришко бранище“, „Парангалица“ и „Силкосия“?

- А) Рила, Пирин, Витоша
- Б) Стара планина, Родопи, Странджа
- В) Витоша, Рила, Странджа
- Г) Родопи, Рила, Сакар

21. Коя планина НЕ е част от Осоговско-Беласишката планинска редица?

- А) Влахина
- Б) Витоша
- В) Малешевска
- Г) Огражден

22. Коя характеристика за населението на България НЕ е вярна?

- А) отрицателен естествен прираст
- Б) отрицателен механичен прираст
- В) висок дял на младото население
- Г) неравномерно разпределение

23. Каква транспортна функция изпълняват селищата Лом, Козлодуй, Свищов и Русе?

- А) речни пристанища
- Б) граждански летища
- В) железопътни възли
- Г) крайни железопътни гари

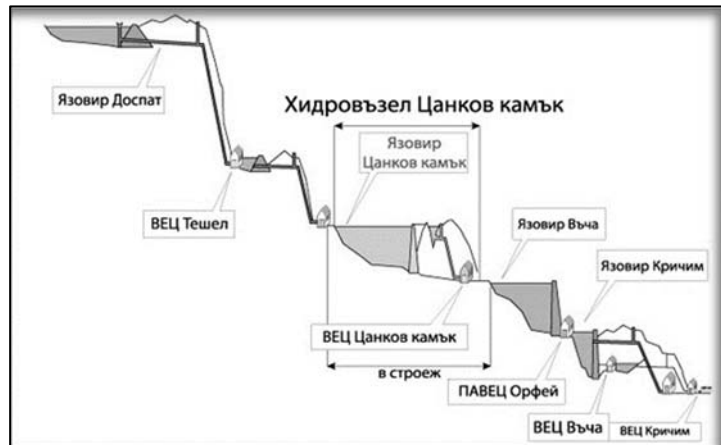
24. За коя група земеделски култури се отнася описанието?

„Те са суровина за хранително-вкусовата, леката и парфюмерийно-козметичната промишленост. Използват се и за производство на лекарствени продукти и участват в износа на страната с етерични масла, захарни изделия и др.“

- А) технически култури
- Б) трайни насаждения
- В) зърнени култури
- Г) зеленчукопроизводство

25. Част от стопанската структура на кой географски регион в България е енергийната система, показана на схемата?

- А) Северозападен
- Б) Югоизточен
- В) Южен централен
- Г) Югозападен



26. Кой два географски региона свързват проходите Котленски и Върбишки?

- А) Югоизточен със Североизточен
- Б) Южен централен със Северен централен
- В) Югозападен със Северозападен
- Г) Югозападен с Южен централен

27. В кой от посочените географски региони има находища на гипс?

- А) Югозападен
- Б) Северозападен
- В) Северен централен
- Г) Североизточен

28. В кой от посочените географски региони в България има два града с население над 100 000 души?

- А) Югозападен
- Б) Северен централен
- В) Северозападен
- Г) Югоизточен

29. В кой географски регион са разположени туристическите обекти – Перперикон и Татул?

- А) Югозападен
- Б) Южен централен
- В) Северен централен
- Г) Североизточен

30. Кой областен център НЕ е в обхвата на Северен централен регион?

- А) Русе
- Б) Търговище
- В) Силистра
- Г) Габрово

ДЪРЖАВЕН ЗРЕЛОСТЕН ИЗПИТ ПО
ГЕОГРАФИЯ И ИКОНОМИКА

30 май 2019 г. – Вариант 1

МОДУЛ 2

Време за работа – 60 минути

Отговорите на задачи от 31. до 38. вкл. запишете в свитъка за свободните отговори!

31. В свитъка за свободните отговори напишете коя сфера, обозначена с цифра 1, е образувана от посочените външни обвивки на Земята.

ВЪНШНИ ОБВИВКИ НА ЗЕМЯТА



32. В свитъка за свободните отговори запишете буквените кодове на трите демографски характеристики, които са верни.

Буквен код	Демографска характеристика
А	Повечето страни в Европа се намират в процес на демографски взрив.
Б	Най-гъсто населените райони в света са Южна и Източна Азия, Западна Европа и североизточната част на САЩ.
В	Смъртността в икономически развитите страни е с тенденция към намаляване.
Г	Икономическите миграции от страните на Третия свят са насочени към развитите страни.
Д	„Застаряването“ на населението е проблем, характерен за страните с ниско ниво на икономическо развитие.

33. В свитъка за свободните отговори напишете за кой процес се отнася следната характеристика:

„Процесът, при който населението се изселва от централните градски части на големите градове и се заселва в крайградските им територии.“

34. В свитъка за свободните отговори напишете кой граничен контролно-пропускателен пункт е обозначен с точка А на картосхемата.



35. В свитъка за свободните отговори напишете кой национален парк изобразява схемата.



36. В свитъка за свободните отговори запишете буквения код и отговорете:

А. В кой град е туристическият обект от снимката?

Б. В кой географски регион се намира?.....



На практическите задачи 37. и 38. вкл. отговорете в свитъка за свободните отговори!

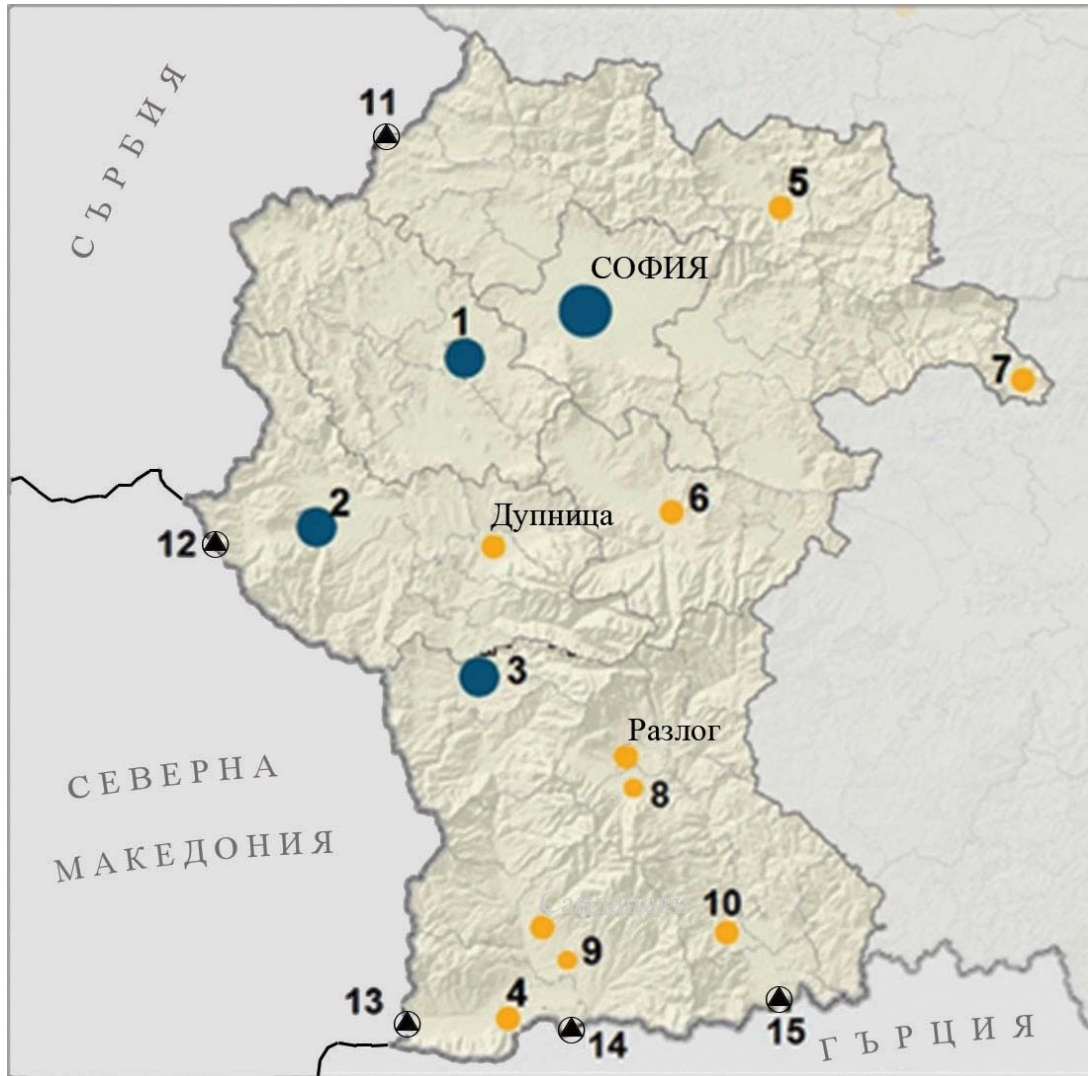
37. Практическа задача по география на света

В свитъка за свободните отговори срещу номера от 1. до 5. вкл. напишете имената на най-големите острови на Земята, а от 6. до 10. вкл. – на посочените държави, разположени върху полуострови.



38. Практическа задача по география на България

В свитъка за свободните отговори срещу цифрите от 1. до 3. напишете имената на градове – областни центрове, от 4. до 10. вкл. – градове, а от 11. до 15. – ГКПП, отбелязани на картосхемата.



ДЪРЖАВЕН ЗРЕЛОСТЕН ИЗПИТ ПО
ГЕОГРАФИЯ И ИКОНОМИКА

30 май 2019 г. – Вариант 1

МОДУЛ 3

Време за работа – 120 минути

Писмената разработка напишете в свитъка за свободните отговори на предвиденото за това място!

География на животновъдството в България

- А) Същност, значение и особености
- Б) Фактори за развитие и териториално разположение
- В) Отраслова и териториална структура:
- говедовъдство
 - овцевъдство
 - свиневъдство
 - други
- Г) Проблеми и тенденции на подотрасъла

МИНИСТЕРСТВО НА ОБРАЗОВАНИЕТ И НАУКАТА
ДЪРЖАВЕН ЗРЕЛОСТЕН ИЗПИТ ПО
ГЕОГРАФИЯ И ИКОНОМИКА

30 май 2019 г.

ВАРИАНТ № 1

Ключ с верните отговори

Въпрос №	Верен отговор	Брой точки
1.	В	1
2.	А	1
3.	В	1
4.	Г	1
5.	В	1
6.	В	1
7.	Г	1
8.	Г	1
9.	В	1
10.	В	1
11.	Г	1
12.	Г	1
13.	В	1
14.	Г	1
15.	А	1
16.	А	1
17.	Г	1
18.	А	1
19.	Б	1
20.	В	1
21.	Б	1
22.	В	1
23.	А	1
24.	А	1
25.	В	1
26.	А	1
27.	Б	1
28.	Г	1
29.	Б	1
30.	Б	1

31. педосфера – 1 точка
32. Б, В, Г – 3 точки
33. субурбанизация – 2 точки
34. Гюешево – 3 точки
35. Национален парк „Рила“ – 3 точки
36. А. Пловдив – 1 точка; Б. Южен централен регион – 2 точки

37. Практическа задача по *география на света* – 10 точки

- | | |
|--|---------------------|
| 1. остров Гренландия | 6. Испания |
| 2. остров Калимантан (Борнео) | 7. Италия |
| 3. остров Нова Гвинея | 8. Норвегия |
| 4. остров Мадагаскар | 9. Саудитска Арабия |
| 5. Британски острови/о. Великобритания | 10. Индия |

38. Практическа задача по *география на България* – 15 точки

- | | |
|----------------|-----------------|
| 1. Перник | 9. Мелник |
| 2. Кюстендил | 10. Гоце Делчев |
| 3. Благоевград | 11. Калотина |
| 4. Петрич | 12. Гюешево |
| 5. Ботевград | 13. Златарево |
| 6. Самоков | 14. Кулата |
| 7. Копривщица | 15. Илинден |
| 8. Банско | |

Писмена разработка върху география на България – 30 точки

География на животновъдството в България

А) Същност, значение и особености – 6 точки

Б) Фактори за развитие и териториално разположение – 4 точки

В) Отраслова и териториална структура – 17 точки

- говедовъдство
- овцевъдство
- свиневъдство
- други

Г) Проблеми и тенденции на подотрасъла – 3 точки