

ДЪРЖАВЕН ЗРЕЛОСТЕН ИЗПИТ ПО  
**ИСТОРИЯ И ЦИВИЛИЗАЦИЯ**

29 август 2019 г. – Вариант 2

ПЪРВИ МОДУЛ (време за работа – 60 минути)

Отговорите на задачите от 1. до 30. вкл. отбелязвайте в листа за отговорите!

**1. През кой век се разпада Стара Велика България?**

- А) IV век
- Б) V век
- В) VI век
- Г) VII век


**2. Кой от каменните надписи е от времето на хан/кан Крум?**

- А) Хамбарлийски
- Б) Чаталарски
- В) Търновски
- Г) Сюлейманкьойски

**3. Кое от посочените събития се е случило през IX век ?**

- А) присъединяването на областта Загоре към България
- Б) приемането на учениците на Кирил и Методий в България
- В) победата на цар Симеон при Ахелой
- Г) въстанието срещу византийската власт, начело с Петър Делян

**4. Кое събитие от развитието на средновековната българска църква е пропуснато на линията на времето?**



- А) унията на цар Калоян с папа Инокентий III
- Б) създаването на Българската архиепископия при княз Борис I
- В) провъзгласяването на Българската архиепископия за Патриаршия при цар Петър I
- Г) възстановяването на Българската патриаршия при цар Иван Асен II

**5. Кой от старобългарските книжовници е автор на „Азбучна молитва“?**

- А) Черноризец Храбър
- Б) Константин Преславски
- В) Йоан Екзарх
- Г) Климент Охридски

**6. Кой от византийските императори е съвременник на българския княз/цар Симеон Велики?**

- А) Лъв VI
- Б) Никифор I
- В) Ираклий
- Г) Юстиниан II

**7. За коя битка се отнася следващият текст?**

*„И тъй като взел своите войници, върнал се и заобиколил намиращата се на юг... твърде висока планина, наречена Балатиста [Беласица], и ...внезапно с виковете и шум се показал от височината в гърба на българите. Уплашени от внезапното му появяване, те ударили на бяг.... Мнозина паднали убити, а още по-голям брой – пленени.... А императорът ослепил пленените българи — около 15 000 както казват, и като заповядал всеки сто ослепени да бъдат водени от едноок...“*

**Из „История“ на Скилица – Кедрин**

- А) при Одрин
- Б) при с. Ключ
- В) при Клокотница
- Г) при Ахелой

**8. Коя група имена е на владетели, управлявали през периода на Второто българско царство?**

- А) Борис II, Иван Владислав, Константин II Асен
- Б) Гаврил Радомир, Асен I, Иван Срацимир
- В) Иван Асен II, Константин Тих, Иван Шишман
- Г) Самуил, Георги Тертер, Иван Александър

**9. Кое понятие разкрива съдържанието на откъса от „Хроника“ на Георги Акрополит?**

*„Този Слав, имайки в свои ръце силната и почти непристъпна за всички врагове крепост Мелник, бил самостоятелен господар и не се подчинявал на никого от околните владетели.“*

- А) архонт
- Б) деспот
- В) кавхан
- Г) паша

**10. Коя личност е обявена за светец от Българската православна църква, заради отказа му да приеме исляма?**

- А) св. Иван Рилски
- Б) св. мъченик Боян – Енравота
- В) св. Гаврил Лесновски
- Г) св. Георги Нови Софийски

**11. Какъв вид училище е представено в описанието?**

*„Светски училища, в които преподаването се извършва на български език. При тях децата се делят на отделения в зависимост от тяхната възраст. Един учител отговаря за едно отделение, което е до 30 човека. Първото такова училище е открито от Найден Геров в Копривщица през 1846 година.“*

- А) взаимно училище
- Б) елино-българско училище
- В) килийно училище
- Г) класно училище

**12. Какво успяват да постигнат българите в борбата за независима църква до Кримската война?**

- А) създаване на Българска екзархия
- Б) подмяна на всички гръцки владици с български
- В) построяване на български храм в Цариград
- Г) избиране на духовен водач на самостоятелна Българска църква


**13. В кой от посочените градове Георги Раковски сформира Първата българска легия?**

- А) Белградчик
- Б) Белград
- В) Браила
- Г) Букурещ


**14. Кой от дейците на българската национална революция изгражда Българския централен революционен комитет?**




А)



Б)



В)



Г)

**15. Във връзка с какво събитие, свързано с Васил Левски, е издадена пощенската марка?**

- А) годишнина от участието му в Първата българска легия
- Б) годишнина от създаването на БРЦК
- В) годишнина от участието му в четата на Панайот Хитов
- Г) годишнина от рождението на революционера



**16. В кой революционен окръг при подготовката на Априлското въстание през 1876 г. е свикано събранието в Оборище?**

- А) I – Търновски
- Б) II – Сливенски
- В) III – Врачански
- Г) IV - Пловдивски (Панагюрски)

**17. Кое от събитията се е случило през втората половина на XIX в.?**

- А) открита е фабриката на Добри Желязков в Сливен
- Б) открито е девическо училище от Анастасия Димитрова в Плевен
- В) жителите на Враца, водени от Димитраки Хаджитошев, се обявяват срещу местния гръцки епископ
- Г) официално е открита първата българска гимназия в Болград

**18. Кое събитие отразява литографията на Николай Павлович?**

- А) решенията на Цариградската посланическа конференция
- Б) създаването на Санстефанска България
- В) подписването на Берлинския мирен договор
- Г) Съединението на Източна Румелия с Княжество България



**19. Според Търновската конституция на владетеля се назначава регентство, в случай че:**

- А) обяви война на друга държава
- Б) не е навършил пълнолетие
- В) има братя с претенции за престола
- Г) надвиши правомощията си

**20. Каква информация за следосвобожденската политическата действителност представя откъсът?**

*„Господа представители! Ще се докладва избора от Габровската околия. ...  
„По списъците от втората секция гласували 260 избиратели, а бюлетините се оказаха 663“ ...*

*Друго едно второ заявление има пак по това постъпило, в което заявителите подробно заявяват как някой си Мутавчиев, който от вечерта се споразумял с няколко души избиратели, снимали (намалили) лампите, осветлението станало съвсем малко и че в туй време някой си Москов и Промчев, преброители, имали приготвени под мишиниците си други бюлетини и когато тези бюлетини попаднали на земята, те се свили, уж да събират попадналите бюлетини, и пуснали други. И други таквиз нередности...“*

**Из “Дневници на Шестото ОНС, 1890 г.”**

- А) Изборният процес протича при спазване на демократичните норми.
- Б) Изборите се фалшифицират грубо.
- В) Представители на Великите сили контролират изборителния процес.
- Г) Управляващата партия е загубила изборите.

**21. Кое твърдение е вярно според откъса от Закона за народното просвещение от 1891 г.?**

*„Чл. 6. Училищата в Българското княжество се разделят на народни... и на частни...  
Чл. 7. В народните училища се приемат децата на всички жители в държавата без разлика на вяра и народност.*

*Чл. 8. Началното учение е задължително и безплатно за всички поданици в държавата.*

*Чл. 9. Всички деца на възраст от шеста навършена до включително дванадесетата година са длъжни да следват курса на началното училище.“*

- А) В Княжество България има само частни училища.
- Б) В началните училища децата постъпват след навършване на дванадесет години.
- В) Началното обучение е безплатно за всички.
- Г) Учениците в народните училища са разделени по вяра и народност.

**22. Името на кой български владетел липсва в текста на Манифеста?**

*„Българи,  
С манифест от днешна дата моят възлюбен баща възвести отказването си от престола в моя полза... Обявявам на българския народ, че от днес аз встъпвам на престола на българските царе под името цар \_\_\_\_\_...“*

- А) Александър I
- Б) Фердинанд
- В) Симеон II
- Г) Борис III

**23. Кой творец е известен български художник?**

- А) Елин Пелин
- Б) Панчо Владигеров
- В) Цанко Лавренов
- Г) Добри Христов

**24. В коя от Конституциите, България е провъзгласена за „Народна република“?**

- А) Конституцията от 1879 г.
- Б) Конституцията от 1947 г.
- В) Конституцията от 1971 г.
- Г) Конституцията от 1991 г.

**25. Каква цел си поставят управляващите в България според представения откъс от доклад на Тодор Живков пред пленум на ЦК на БКП (2 април 1956 г.)**

*„В произведенията на писатели, поети и композитори, в песни и стихове, които се изпълняват по радиото и на концерти, продължава да се величае личността на другаря Вълко Червенков. В някои песни другарят Червенков се рисува като някакъв нов Крали Марко, който „млад и едър, поде знамето червено и към бъдното загледан, ни поведе вдъхновено“ ... В учебниците и пособията, предназначени за възпитанието на учащата се младеж, също така се робува на култа към личността...“*

- А) въвеждане на култ към личността
- Б) обогатяване на българския фолклор
- В) десталинизация на обществото
- Г) възвеличаване на сталинизма

**26. Кой е първият демократично избран президент на Република България след 1989 г.?**

- А) Желю Желев
- Б) Петър Стоянов
- В) Георги Първанов
- Г) Росен Плевнелиев

**27. В коя международна организация България НЕ членува днес?**

- А) в Европейския съюз
- Б) в Организацията на обединените нации
- В) в Североатлантическия пакт
- Г) в Организацията на Варшавския договор

**28. Какво отношение към Версайската система от мирни договори представя карикатурата?**

- А) Победителите се стремят да осигурят траен мир.
- Б) Зачетени са интересите и на победените.
- В) На победените са наложени крайно несправедливи договори.
- Г) Съюзниците на Германия са спокойни за своята съдба.



*Надпис на вратата: "Четиримата големи. Зъболекарски кабинет".  
Надпис върху излизащ пациент: "Условия на мирните договори, Германия".  
Надпис в чакалнята: "Не използваме упойка".  
Чакащи пациенти от ляво надясно: Българи, Турция, Австро-Унгария*

**29. Характерен белег на тоталитарното общество е:**

- А) сливането на партията с държавата
- Б) пазарната икономика
- В) многопартийната система
- Г) народовластието

**30. Коя от изброените държави има право да поеме председателство на Съвета на Европейския съюз:**

- А) Русия
- Б) Турция
- В) Швейцария
- Г) Италия

МИНИСТЕРСТВО НА ОБРАЗОВАНИЕТО И НАУКАТА

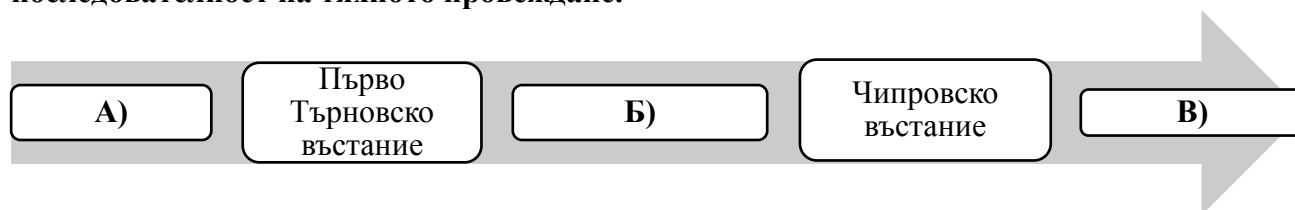
---

ДЪРЖАВЕН ЗРЕЛОСТЕН ИЗПИТ ПО  
ИСТОРИЯ И ЦИВИЛИЗАЦИЯ  
29 август 2019 г. – Вариант 2

ВТОРИ МОДУЛ (време за работа – 60 минути)

Отговорите на задачите от 31. до 38. вкл. запишете в свитъка за свободните отговори!

**31. На линията на времето са представени събития, свързани с въстанията на българите през XV-XVII век. Срещу буквите в свитъка за свободните отговори запишете липсващите събития, така че да бъде спазена хронологичната последователност на тяхното провеждане.**



**32. Срещу съответната буква в свитъка за свободните отговори запишете името на историческата личност, която отговаря на описанието:**

- А) главен управител (генерал-губернатор) на Източна Румелия в периода 1884 – 1885 г.
- Б) главен апостол на Трети (Врачански) революционен окръг по време на Априлското въстание
- В) създател на Охридската книжовна школа

**33. Срещу съответната буква в свитъка за свободните отговори запишете историческата личност и века, свързани с посочените събития/факти:**

- А) издаване на първия български вестник - „Български орел“, Лайпциг
- Б) победа над Балдуин I Фландърски в битката край Одрин
- В) първа българо-сръбска война през Средновековието



**34. Срещу съответната буква в свитъка за свободните отговори запишете подходящото понятие/термин (*спогодба, рецесия, опозиция, паритет, контрибуция, суверенитет*), което съответства на даденото определение:**

- А) личности, партия или група от партии, които се противопоставят на управляващата партия
- Б) писмено споразумение между държави, организации или лица за постигане на определени цели
- В) вътрешна и външна независимост на дадена държава

**35. За всяко от изброените понятия посочете в свитъка за свободните отговори конкретен пример от българската история:**

- А) славянско племе
- Б) кавхан
- В) таксидиот

**36. Прочетете внимателно текста и отговорете на поставените въпроси.**

- А) Коя е войната, представена в откъса от текста и през коя година избухва тя?
- Б) Кое събитие от българската история провокира избухването на тази война?
- В) Кой побеждава в този военен конфликт?

*„На 2 ноември изкараха на Гладно поле целия полк и го наредиха в строй; ... полковият командир ни обади с висок глас, че сръбският крал Милан е обявил несправедна война на България и че довечера ще тръгнат към бойното поле да бранят границите на отечеството!... А навън от София, на посока към Сливница, целият друм почернял от войски; те отиват там, дето куришумите пищят, топовете гърмят и смъртта коси... Лют бой става половина час отвъд Сливница, по цялата наша линия. От вчера и завчера непрекъснато гърмят топовете и свирят милиони куришуми.....“*

**Из „Вълко на война“, Ив. Вазов**

37. Разгледайте историческата карта и отговорете на поставените въпроси.

А) При управлението на коя династия България се разпростира в посочените граници?

Б) При кой владетел от династията тя постига най-голямото си териториално разширение?

В) Кои са трите новопоявили се на картата държави в началото на XIII век?

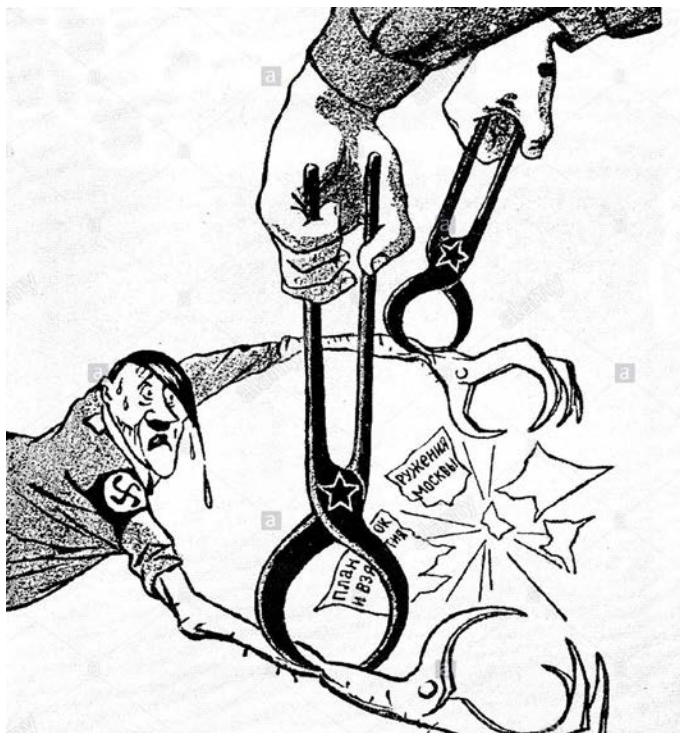


38. Разгледайте изображението и отговорете на поставените въпроси.

А) С кое събитие свързвате изображението?

Б) Кои тоталитарни държави олицетворяват персонажите?

В) Кои са символите на тези държави?



Текст на разкъсаната бележка:  
*План за обсадата и превземането на  
Москва*

**МИНИСТЕРСТВО НА ОБРАЗОВАНИЕТО И НАУКАТА**

---

**ДЪРЖАВЕН ЗРЕЛОСТЕН ИЗПИТ ПО  
ИСТОРИЯ И ЦИВИЛИЗАЦИЯ  
29 август 2019 г. – Вариант 2**

**ТРЕТИ МОДУЛ (време за работа – 120 минути)**

В свитъка за свободните отговори напишете в обем до 3 страници отговор на историческия въпрос:

**Каква е ролята на Търновската конституция за полагане основите на модерната българска държавност?**

**При отговора вземете под внимание следните въпроси:**

1. Къде, кога и как е изработена Търновската конституция?
2. Какво е устройството на държавата според Конституцията? Кой е държавен глава и какви правомощия има?
3. Какви са основните власти? Каква е ролята на Народното събрание в управлението?
4. Какви граждански права и свободи провъзгласява конституцията?
5. Какъв е характерът на Търновската конституция и какво е нейното значение?

**МИНИСТЕРСТВО НА ОБРАЗОВАНИЕТО И НАУКАТА**  
**ДЪРЖАВЕН ЗРЕЛОСТЕН ИЗПИТ ПО**  
**ИСТОРИЯ И ЦИВИЛИЗАЦИЯ – 29 АВГУСТ 2019 г.**

**ВАРИАНТ № 2**

Задача от 1 до 30.

Ключ с верните отговори

<b>Въпрос №</b>	<b>Верен отговор</b>	<b>Брой точки</b>
<b>1.</b>	<b>Г</b>	<b>1</b>
<b>2.</b>	<b>А</b>	<b>1</b>
<b>3.</b>	<b>Б</b>	<b>1</b>
<b>4.</b>	<b>В</b>	<b>1</b>
<b>5.</b>	<b>Б</b>	<b>1</b>
<b>6.</b>	<b>А</b>	<b>1</b>
<b>7.</b>	<b>Б</b>	<b>1</b>
<b>8.</b>	<b>В</b>	<b>1</b>
<b>9.</b>	<b>Б</b>	<b>1</b>
<b>10.</b>	<b>Г</b>	<b>1</b>
<b>11.</b>	<b>Г</b>	<b>1</b>
<b>12.</b>	<b>В</b>	<b>1</b>
<b>13.</b>	<b>Б</b>	<b>1</b>
<b>14.</b>	<b>В</b>	<b>1</b>
<b>15.</b>	<b>Г</b>	<b>1</b>
<b>16.</b>	<b>Г</b>	<b>1</b>
<b>17.</b>	<b>Г</b>	<b>1</b>
<b>18.</b>	<b>В</b>	<b>1</b>
<b>19.</b>	<b>Б</b>	<b>1</b>
<b>20.</b>	<b>Б</b>	<b>1</b>
<b>21.</b>	<b>В</b>	<b>1</b>
<b>22.</b>	<b>Г</b>	<b>1</b>
<b>23.</b>	<b>В</b>	<b>1</b>
<b>24.</b>	<b>Б</b>	<b>1</b>
<b>25.</b>	<b>В</b>	<b>1</b>
<b>26.</b>	<b>А</b>	<b>1</b>
<b>27.</b>	<b>Г</b>	<b>1</b>
<b>28.</b>	<b>В</b>	<b>1</b>
<b>29.</b>	<b>А</b>	<b>1</b>
<b>30.</b>	<b>Г</b>	<b>1</b>

**Задача 31. – 3 точки**

- А) въстание на Константин и Фружин**
- Б) Второ Търновско въстание**
- В) Карпошово въстание (въстание на Карпош)**

**Задача 32. – 3 точки**

- А) Гаврил Кръстевич**
- Б) Стоян Заимов**
- В) Климент Охридски**

**Задача 33. – 6 точки**

<b>Събитие</b>	<b>Личност</b>	<b>Век</b>
<b>А) издаване на първия български вестник - „Български орел“, Лайпциг</b>	<b>Иван Богоров</b>	<b>XIX</b>
<b>Б) победа над Балдуин I Фландърски в битката край Одрин</b>	<b>цар Калоян</b>	<b>XIII</b>
<b>В) първа българо-сръбска война през Средновековието</b>	<b>хан/кан Пресиян (Персиан/Персиян)</b>	<b>IX</b>

**Задача 34. – 3 точки**

- А) опозиция**
- Б) спогодба**
- В) суверенитет**

**Задача 35. – 6 точки**

*Примерни отговори*

- А) севери, смоляни, тимочани**
- Б) Исбул**
- В) Паисий Хилендарски**

*Възможни са и други отговори*

**Задача 36. – 5 точки**

- А) Сръбско-българската война; 1885 г.**
- Б) Съединението на Източна Румелия с Княжество България**
- В) българите/България**

**Задача 37. - 5 точки**

- А) Асеновци (Асеновата династия)**
- Б) Йоан (Иван) Асен II**
- В) Латинската империя, Никейската империя, Епирското деспотство**

**Задача 38. - 4 точки**

**А) Втората световна война (Нападението на Германия над Съветския съюз)**

**Б) Германия и СССР (Съветския съюз)**

**В) пречупен кръст и петолъчка**

**ВТОРА ЧАСТ – 35 точки**

Отговор на исторически въпрос:

**Каква е ролята на Търновската конституция за полагане основите на модерната българска държавност?**

**При отговора вземете под внимание следните въпроси:**

1. Къде, кога и как е изработена Търновската конституция? – **6 точки**
2. Какво е устройството на държавата според Конституцията? Кой е държавен глава и какви правомощия има? – **8 точки**
3. Какви са основните власти? Каква е ролята на Народното събрание в управлението? – **9 точки**
4. Какви граждански права и свободи провъзгласява конституцията? – **6 точки**
5. Какъв е характерът на Търновската конституция и какво е нейното значение? – **6 точки**

**35 точки** се получават за пълен отговор, който включва:

- Определяне и изясняване на ключовите понятия в заглавието;
- Отговори на петте съпътстващи въпроса;
- Правилен подбор на основните факти;
- Анализ и обобщения на основата на аргументирани твърдения и верни факти;
- Висока езикова и правописна култура.