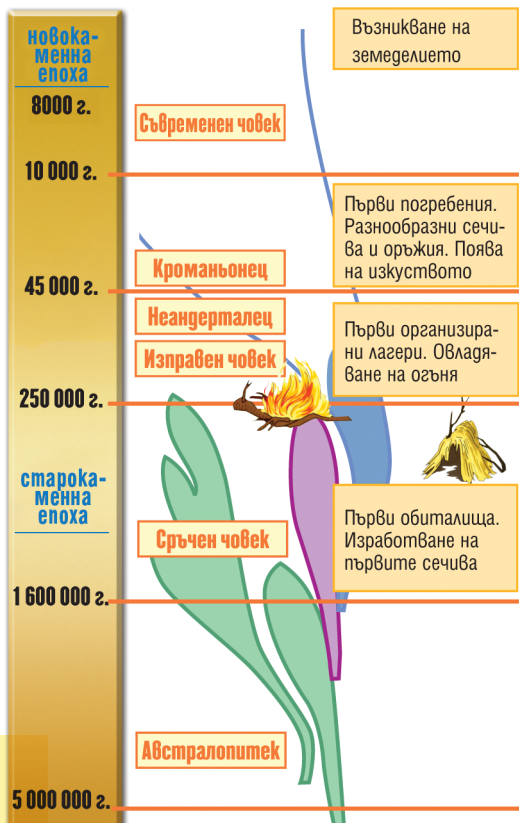


# ПРАИСТОРИЯ



## 1. Развитие на човешкия вид

- Проследете хронологично примитивните предци на човешкия вид.
- Проучете къде са открити останки от тях и защо са наречени така в науката.



## 4. Рисунки от пещерата Ласко, Южна Франция, преди ок. 14 000 години

- От коя праисторическа епоха датират?
- Какво изобразяват?
- Предположете защо са създадени.

## 5. Гроб на вожда от Варненския некропол




## 2. Сечива от старокаменната епоха от кремък и начин на изработването им

- Какво знаете за този материал? Лесно ли се обработва кремъкът?

## 3. Вилендорфската Венера. Статуетка на жена отпреди ок. 25 000 години, Вилендорф, Австрия

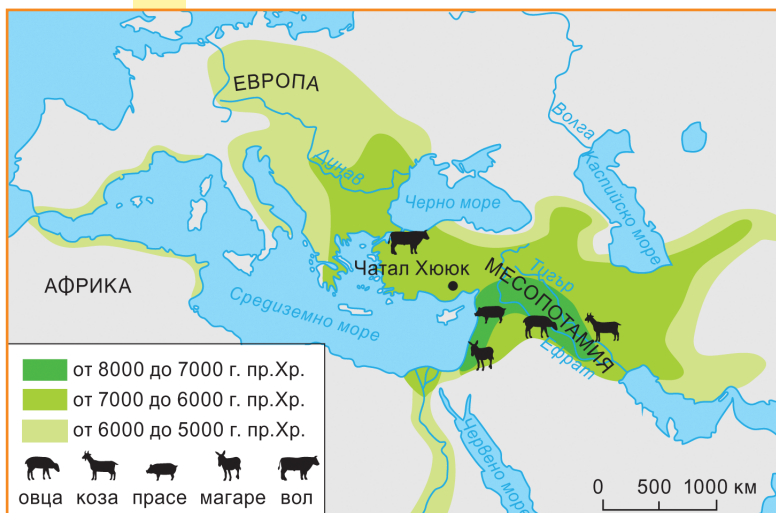
- От коя праисторическа епоха датира предметът?
- Как според вас формите на тялото изразяват преклонението пред жената като създателка на живота?



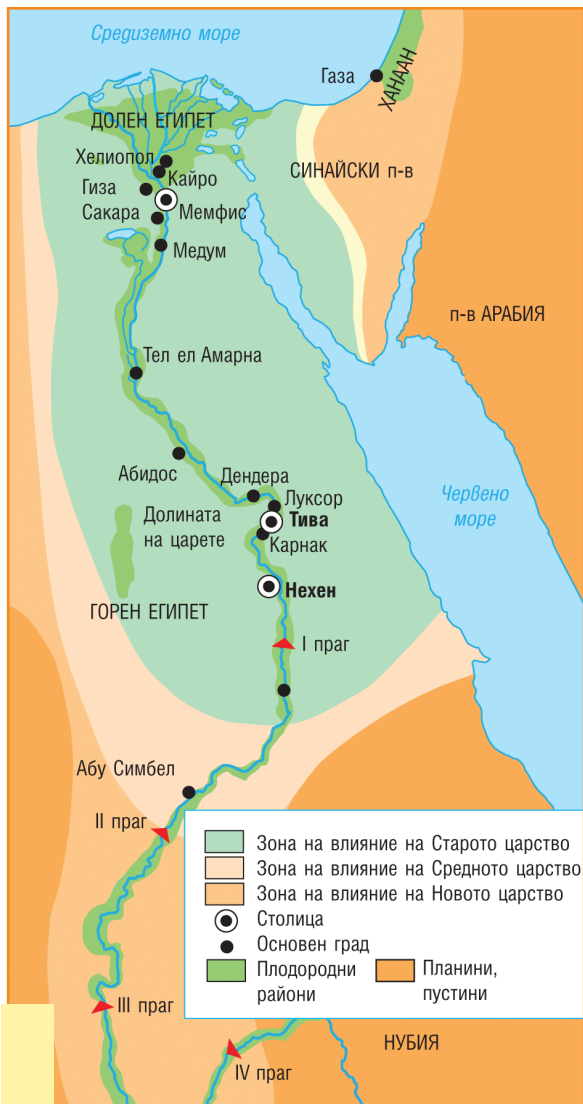
## 6. Къща от неолитното селище Чатал Хююк, дн. Турция (възстановка)

## 7. Поява и разпространение на земеделието и животновъдството

- Проследете и опишете процеса на „неолитната революция“.
- Каква е ролята на днешните български земи в този процес?



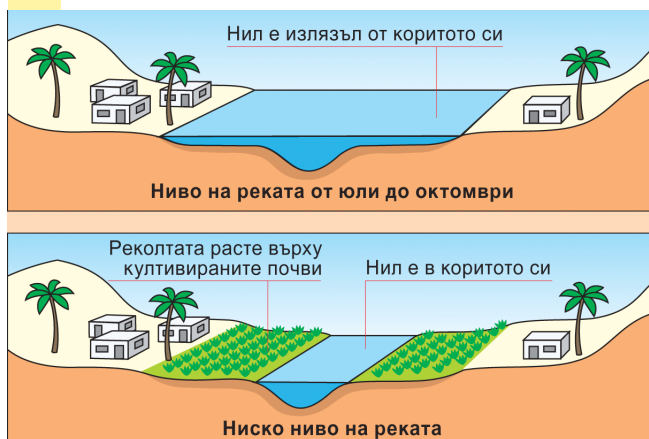
# ДРЕВЕН ЕГИПЕТ



- 1. Древен Египет през IV – I хилядолетие пр.Хр.**
- Опишете географското положение и природните условия на Египет.
  - Проследете периодите от историята на древноегипетската държава.

**2. Разливите на р. Нил – схема**

- Обяснете на какво се основавало египетското земеделие, като знаете, че при разливите си реката наслявала по крайбрежните земи плодородна тиня.



**3. Златен саркофаз на Тутанкамон, XIV в. пр.Хр.**

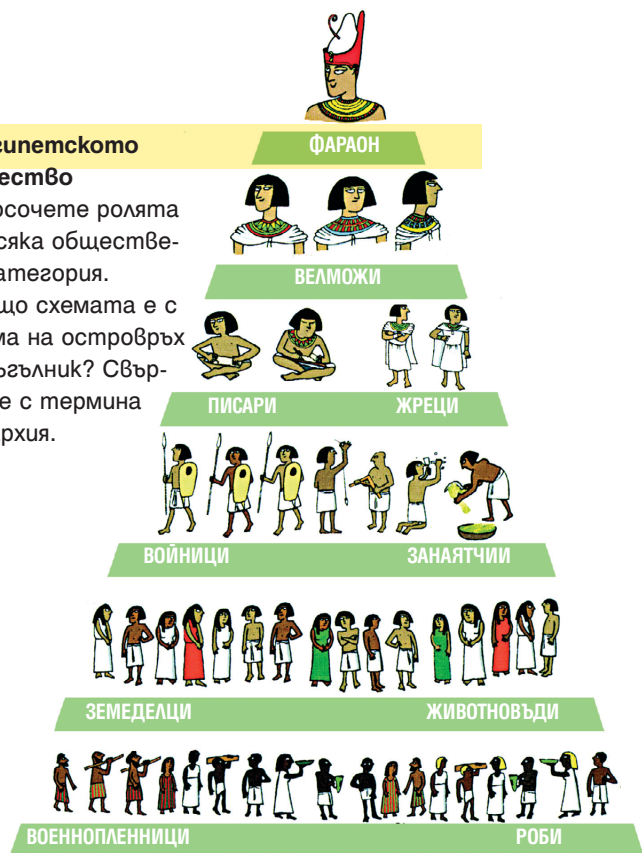
Символи: 1. Кобра – духът ѝ изгаря враговете на фараона, 2. изкуствена брада – безсмъртие, 3. овчарска гега и 4. камшик – могъщество.

- Направете изводи за могъществото на фараоните, като имате предвид, че древните египтяни възприемали владетеля си като жив бог.

ИСТОРИЯ И ЦИВИЛИЗАЦИИ 5. КЛАС

**4. Египетското общество**

- Посочете ролята на всяка обществена категория.
- Защо схемата е с форма на островърх триъгълник? Свържете с термина йерархия.



**5. Древноегипетски божества: Изига, Озирис, Хор**

- Как си представяли древните египтяни своите богове?



## ДРЕВНА МЕСОПОТАМИЯ



### 1. Древна Месопотамия

- Посочете страните Шумер и Акад и по-важните шумерски градове.



### 2. Цар Хамурапи получава законите от бог Шамаш. Каменна стела, XVIII в. пр.Хр.

- Коя е фигурата на бога? По какво я разпознавате?



### 3. Вавилонски стъпаловиден храм (зикурат) на бог Маргук. Съвременна рисунка. Месопотамските храмове били изградени от непечени тухли.

- Сравнете с пирамидите в Гиза и посочете прилики и разлики.




### 4. Семейна гвуйка от Акад. Варовикова статуетка



### 5. Старовавилонски цар в молитвена поза. Бронзова статуетка, XVIII в. пр.Хр.

### 6. Улицата на процесите във Вавилон с Висящите градини и портата на Ищар. Съвременна рисунка




ПИСМЕНОСТИ НА ДРЕВНОСТТА



1. Клинописни таблички



3. Йероглифен нагпис от царска гробница



5. Каменен нагпис с финикийско буквено писмо



6. Староеврейска писменост. Възстановка на скрижалите на Мойсей

2. Калем и глинен съд с клинописен нагпис



4. Писане върху папирусов лист. Възстановка


• Изяснете как пишат древните египтяни и месопотамци: материали и начин на писане, особености на писменостите.



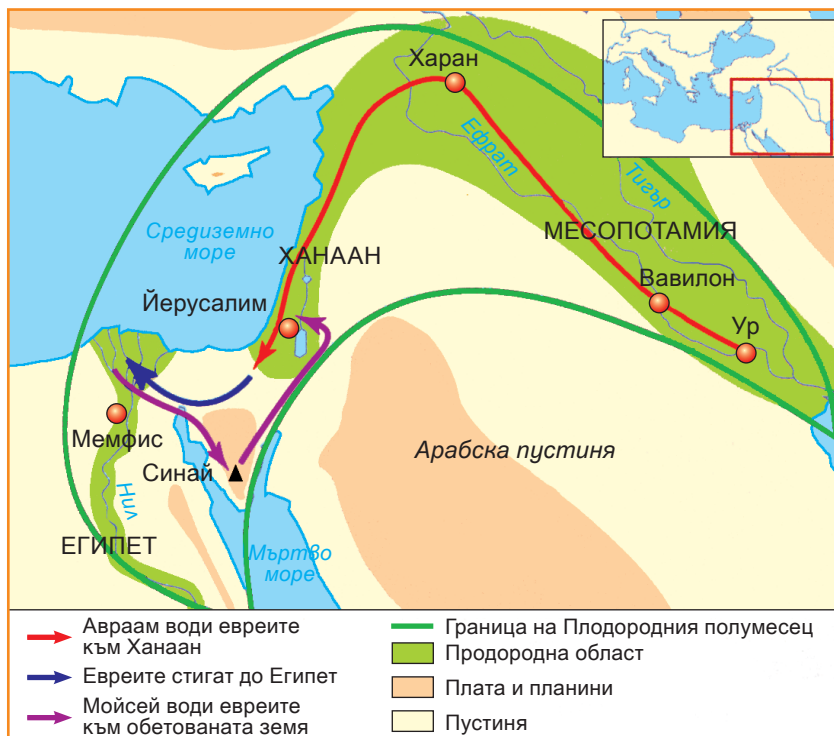
7. Гръцко буквено писмо. Каменна колона, V в. пр.Хр.

8. Римски нагпис от времето на републиката на латиница


• Посочете общите елементи между финикийската, гръцката и римската писменост и основната разлика между тях и древноегипетското писмо.



# ДРЕВНИТЕ ЕВРЕИ



1. Преселения на евреите през XX – XIV в. пр.Хр.



2. Ръкопис на фрагмент от Пето-книжието (на еврейски – Тора) – първата част от Библията – на древноеврейски език, II – I в. пр.Хр. Открит в Кумранските пещери под нивото на Мъртво море.



3. Макет на Йерусалимския храм, възстановен от цар Ирод Велики през I в. пр.Хр.




4. Обединеното еврейско царство при Давид и Соломон (X в. пр.Хр.)

5. Палестина, разделена между Израел и Юдея (IX – VI в. пр.Хр.)



## ДРЕВНА ГЪРЦИЯ



### 1. Гръцкият полис – схема

• Обяснете как е изграден полисът като политическа и стопанска единица.



**2. Бране на маслини, елински съд, V в. пр.Хр.** Древните гърци вярват, че маслиновото гърво, на което Атинският полис гължи стопанския си разцвет, им било дар от богината Атина.

• Какво е мястото на тази земеделска култура в икономиката на днешна Гърция?




### 3. Елинският свят

• Посочете Спарта и Атина.  
 • Каква е разликата между метрополия (полис майка) и колония?  
 • Къде се създават колонии?  
 • Кои колонии са създадени в земите на днешна България?  
 Знаете ли съвременните имена на тези градове?

### 4. Фрагмент от фриза на Партенона

Изобразява конници – младежи от богати семейства, участващи в Панатенейското шествие. Оцветената част показва как е изглеждал релефът преди 25 века.

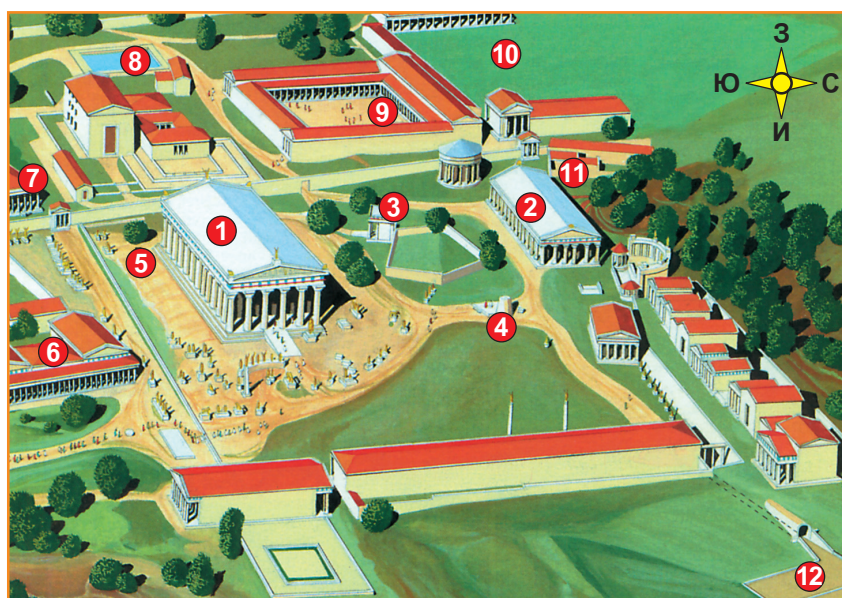
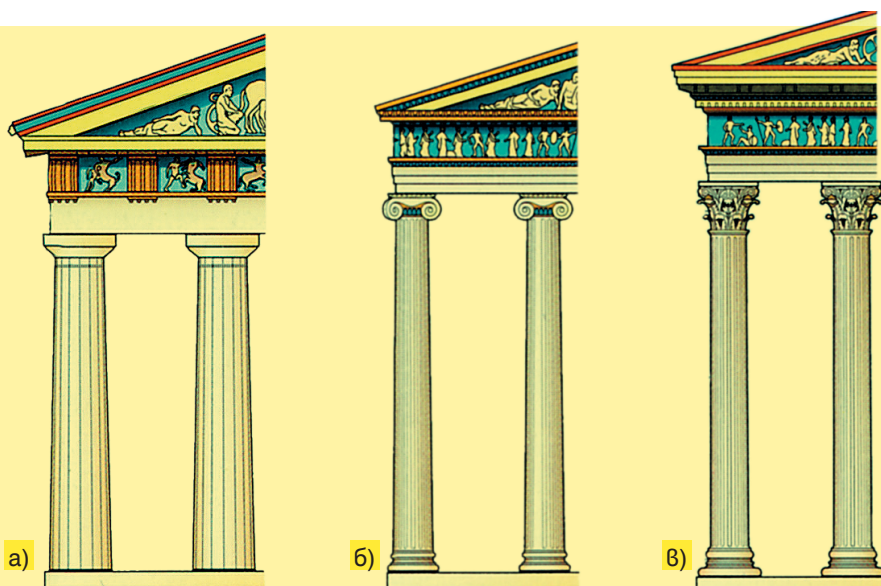




**5. Атинският акропол с Парthenона** – главният храм на богинята Атина Парthenос (Девица) от V в. пр.Хр., който се смята за шедевър на елинската архитектура.

**6. Стилете в гръцката архитектура** – дорийски (а), ионийски (б), и коринтски (в).

- Проучете има ли сграда с подобна колонада във вашето населено място или областен град.



**7. Светилището в Олимпия – реконструкция.** 1. Храм на Зевс с 13-метрова статуя на бога. 2. Храм на Хера. 3. Паметник на митичния основател на игрите – Пелопс. 4. Олтар за жертвоприношения на Зевс. 5. Свещена маслина, от която се правят венците на победителите. 6. Седалище на олимпийския съвет. 7. Странноприемница за официалните гости. 8. Басейн. 9. Палестра – площадка за скокове и борба. 10. Гимназион – площадка за хвърляне на диск и копие. 11. Хранилище на свещения огън. 12. Стадион.

- Въз основа на реконструкцията направете съпоставка между древните и съвременните олимпийски игри – целта на игрите, символите, спортните съоръжения, дисциплините.

## ДРЕВНА ТРАКИЯ



### 1. Древна Тракия и Одриското царство

#### 2. Стенописът от купола на Казанлъшката гробница, III в. пр.Хр.

- Опишете всеки от персонажите в сцената. Разделете ги по групи.



#### 3. Бронзова глава от статуя, вероятно на Севт III.

- Сравнете с монетата на царя на с. 9 и потърсете портретни прилики.



4. Съдове от Рогозенското съкровище. То се състои от 165 сребърни съда.



5. Златното съкровище от Панагюрище, III в. пр.Хр.



## ЕЛИНИСТИЧЕСКИЯТ СВЯТ



### 1. Империята на Александър Велики

- Проследете походите на Александър: битки, завладени страни, превзети и новоосновани градове.
- Прочете върху територията на кои съвременни държави се разпростира Александровата империя.

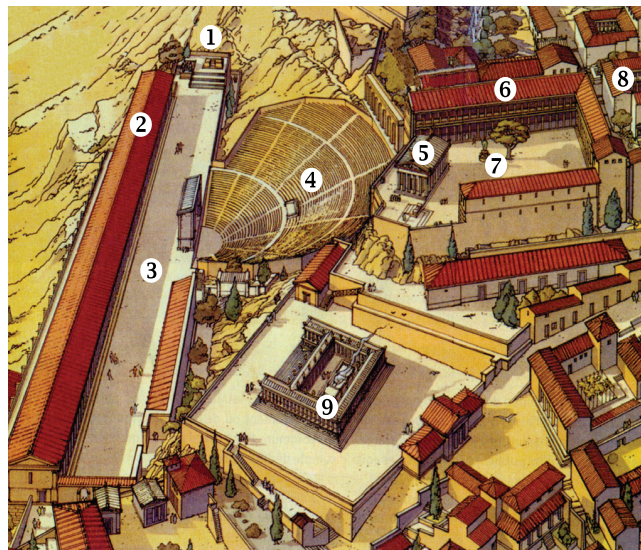



2. Александър Велики в битката при Иса, мозайка от римския град Помпей, I в.

### 4. Птолемей I – цар на Египет (323 – 289 г. пр.Хр.)



### 3. Венера Милоска. Статуя на елинска богиня, вероятно Афродита. Шедьовър на елинистическото изкуство, II – I в. пр.Хр.



1. Храм на Дионис
2. Портик
3. Тераса
4. Театър
5. Храм на Атина
6. Библиотека
7. Статуя на Атина
8. Дворец на Аталидите
9. Храм на Зевс

### 5. Акрополът на Пергам, дн. Бергама, Турция, възстановка

- Кои са главните сгради в елинистическия град? Сравнете с Атинския акропол.

ДРЕВНИЯТ РИМ



1. Италийският полуостров през VIII в. пр.Хр.



2. Форумът – централният площад на Рим, през императорската епоха, възстановка

3. Римската империя в своя разцвет, I – II в.

